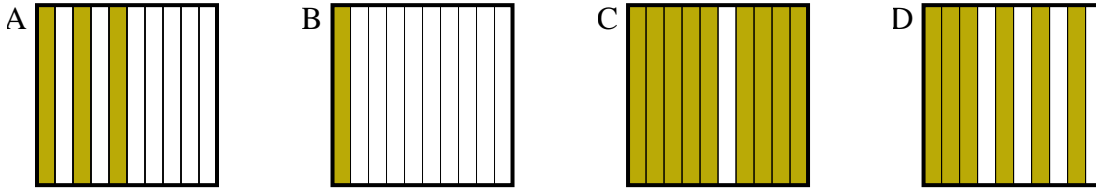




Choisir la réponse la plus appropriée.

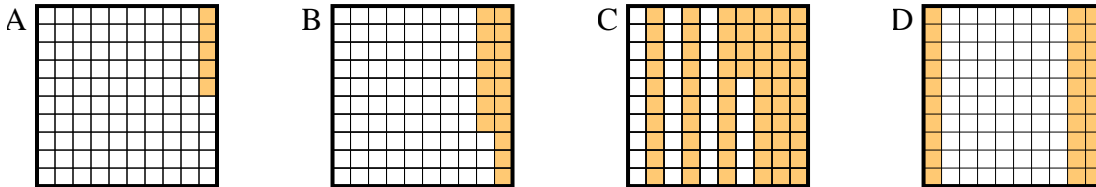
**Réponses**

1) Quelle grille de  $10 \times 1$  cases, où le nombre de cases colorées permette, lorsqu'il est ajouté à 0,9, donne un résultat de 1,00?



1. \_\_\_\_\_

2) Quelle grille de  $10 \times 10$  cases, où le nombre de cases colorées permette, lorsqu'il est ajouté à 0,7, donne un résultat de 1,00?

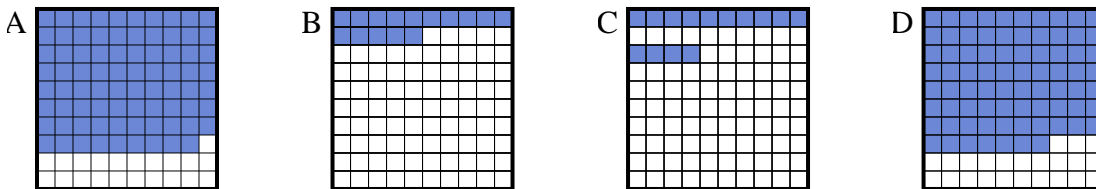


2. \_\_\_\_\_

3. \_\_\_\_\_

4. \_\_\_\_\_

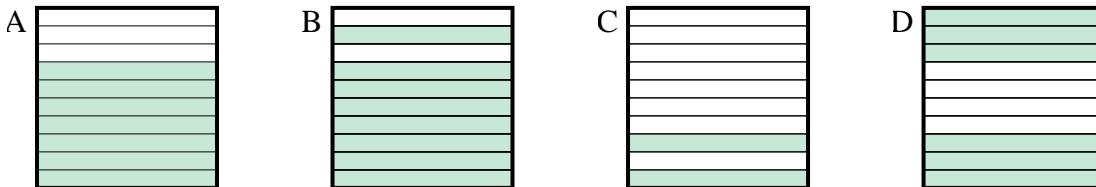
3) Quelle grille de  $10 \times 10$  cases, où le nombre de cases colorées permette, lorsqu'il est ajouté à 0,21, donne un résultat de 1,00?



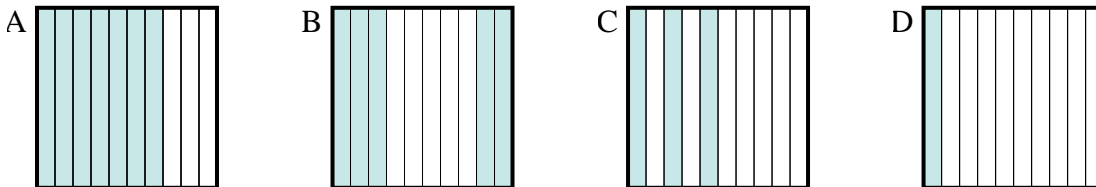
5. \_\_\_\_\_

6. \_\_\_\_\_

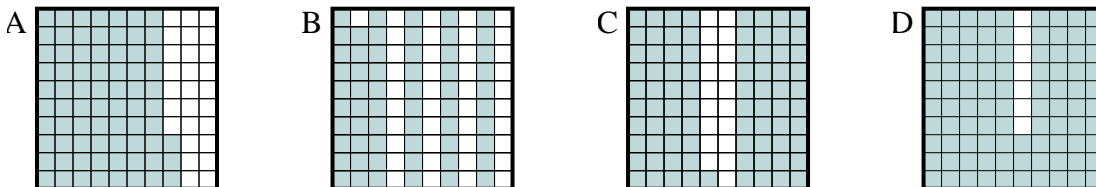
4) Quelle grille de  $10 \times 1$  cases, où le nombre de cases colorées permette, lorsqu'il est ajouté à 0,3, donne un résultat de 1,00?



5) Quelle grille de  $10 \times 1$  cases, où le nombre de cases colorées permette, lorsqu'il est ajouté à 0,5, donne un résultat de 1,00?



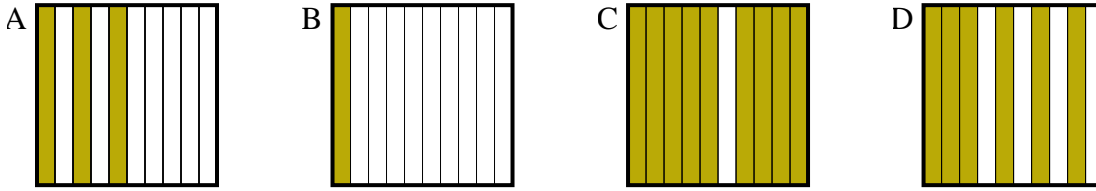
6) Quelle grille de  $10 \times 10$  cases, où le nombre de cases colorées permette, lorsqu'il est ajouté à 0,07, donne un résultat de 1,00?



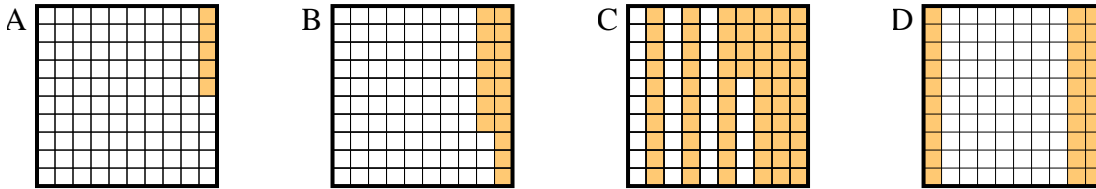


Choisir la réponse la plus appropriée.

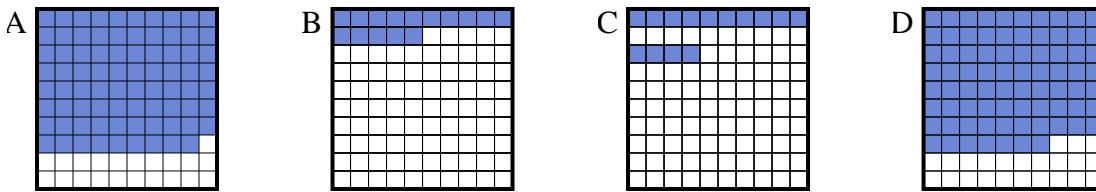
1) Quelle grille de  $10 \times 1$  cases, où le nombre de cases colorées permette, lorsqu'il est ajouté à 0,9, donne un résultat de 1,00?



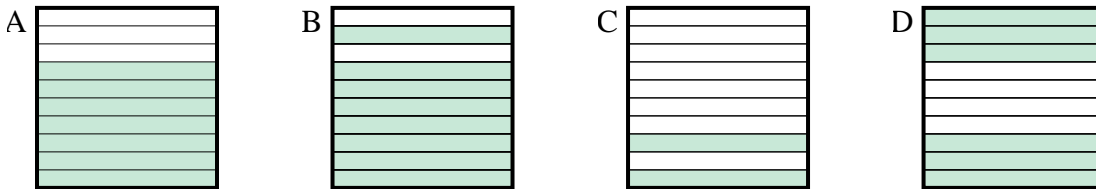
2) Quelle grille de  $10 \times 10$  cases, où le nombre de cases colorées permette, lorsqu'il est ajouté à 0,7, donne un résultat de 1,00?



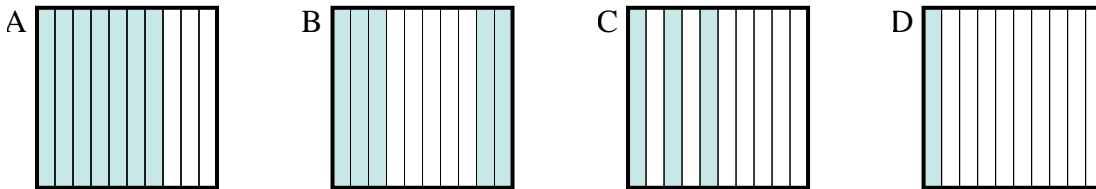
3) Quelle grille de  $10 \times 10$  cases, où le nombre de cases colorées permette, lorsqu'il est ajouté à 0,21, donne un résultat de 1,00?



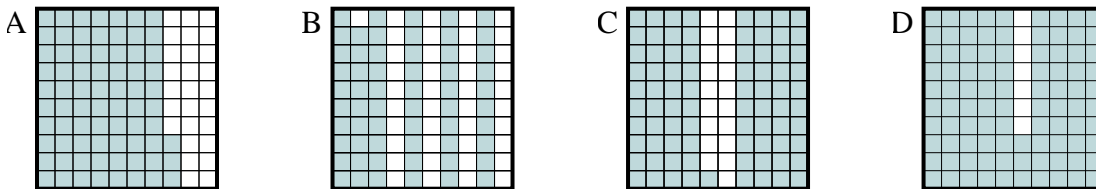
4) Quelle grille de  $10 \times 1$  cases, où le nombre de cases colorées permette, lorsqu'il est ajouté à 0,3, donne un résultat de 1,00?



5) Quelle grille de  $10 \times 1$  cases, où le nombre de cases colorées permette, lorsqu'il est ajouté à 0,5, donne un résultat de 1,00?



6) Quelle grille de  $10 \times 10$  cases, où le nombre de cases colorées permette, lorsqu'il est ajouté à 0,07, donne un résultat de 1,00?



**Réponses**

- 1. **B**
- 2. **D**
- 3. **A**
- 4. **A**
- 5. **B**
- 6. **D**