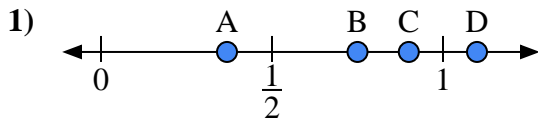


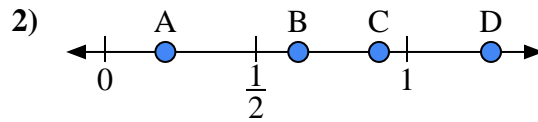


Utilisez la droite numérique pour répondre aux questions.

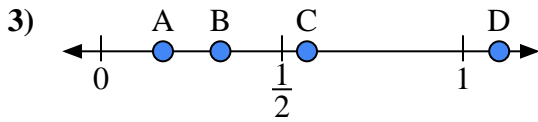
Réponses



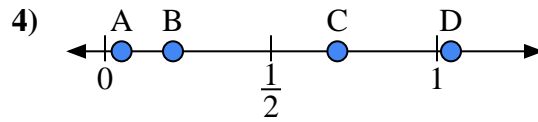
- a) Quelle lettre représente le mieux l'emplacement de 0,90 ?
- b) Quelle lettre représente le mieux l'emplacement de 0,75 ?



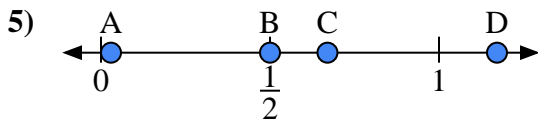
- a) Quelle lettre représente le mieux l'emplacement de 0,2 ?
- b) Quelle lettre représente le mieux l'emplacement de 0,64 ?



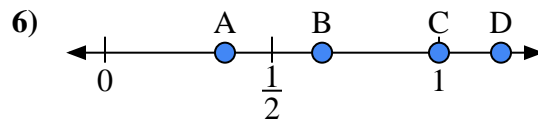
- a) Quelle lettre représente le mieux l'emplacement de 1,10 ?
- b) Quelle lettre représente le mieux l'emplacement de 0,33 ?



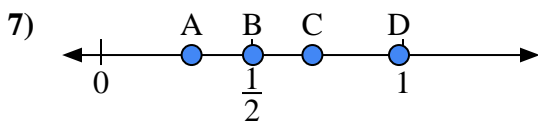
- a) Quelle lettre représente le mieux l'emplacement de 0,70 ?
- b) Quelle lettre représente le mieux l'emplacement de 0,05 ?



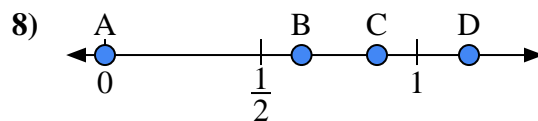
- a) Quelle lettre représente le mieux l'emplacement de 0,50 ?
- b) Quelle lettre représente le mieux l'emplacement de 0,67 ?



- a) Quelle lettre représente le mieux l'emplacement de 1,00 ?
- b) Quelle lettre représente le mieux l'emplacement de 0,65 ?



- a) Quelle lettre représente le mieux l'emplacement de 0,3 ?
- b) Quelle lettre représente le mieux l'emplacement de 0,70 ?



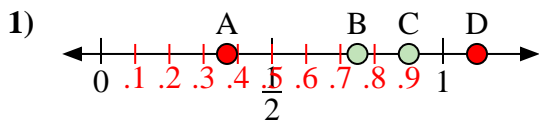
- a) Quelle lettre représente le mieux l'emplacement de 0,00 ?
- b) Quelle lettre représente le mieux l'emplacement de 0,63 ?

- 1. _____
- 2. _____
- 3. _____
- 4. _____
- 5. _____
- 6. _____
- 7. _____
- 8. _____

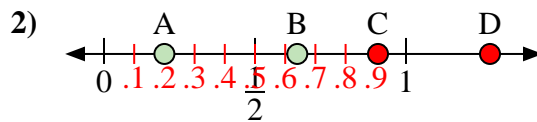


Utilisez la droite numérique pour répondre aux questions.

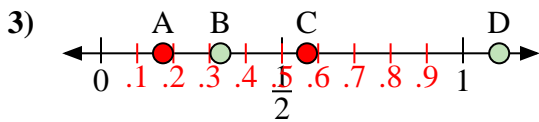
Réponses



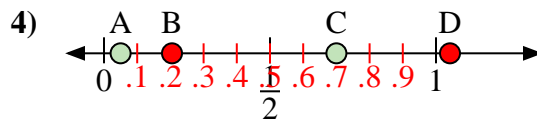
- a) Quelle lettre représente le mieux l'emplacement de 0,90 ?
 b) Quelle lettre représente le mieux l'emplacement de 0,75 ?



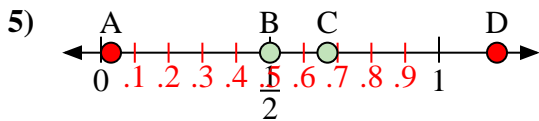
- a) Quelle lettre représente le mieux l'emplacement de 0,2 ?
 b) Quelle lettre représente le mieux l'emplacement de 0,64 ?



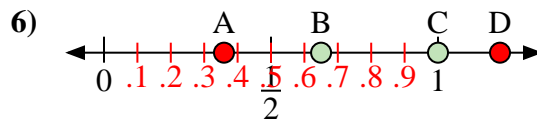
- a) Quelle lettre représente le mieux l'emplacement de 1,10 ?
 b) Quelle lettre représente le mieux l'emplacement de 0,33 ?



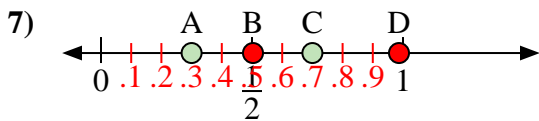
- a) Quelle lettre représente le mieux l'emplacement de 0,70 ?
 b) Quelle lettre représente le mieux l'emplacement de 0,05 ?



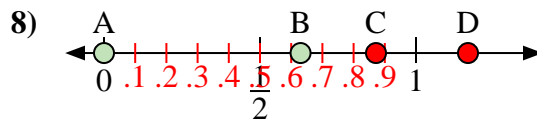
- a) Quelle lettre représente le mieux l'emplacement de 0,50 ?
 b) Quelle lettre représente le mieux l'emplacement de 0,67 ?



- a) Quelle lettre représente le mieux l'emplacement de 1,00 ?
 b) Quelle lettre représente le mieux l'emplacement de 0,65 ?



- a) Quelle lettre représente le mieux l'emplacement de 0,3 ?
 b) Quelle lettre représente le mieux l'emplacement de 0,70 ?



- a) Quelle lettre représente le mieux l'emplacement de 0,00 ?
 b) Quelle lettre représente le mieux l'emplacement de 0,63 ?

1. C B

2. A B

3. D B

4. C A

5. B C

6. C B

7. A C

8. A B