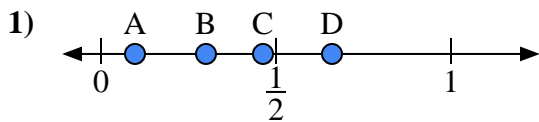


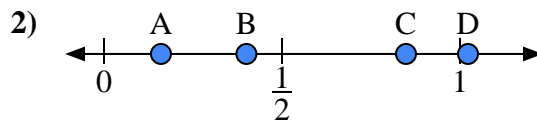


Utilisez la droite numérique pour répondre aux questions.

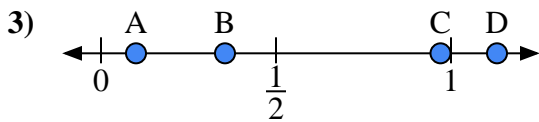
Réponses



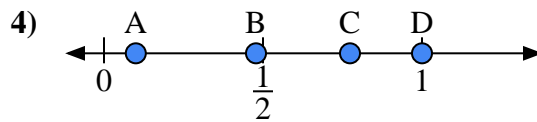
- a) Quelle lettre représente le mieux l'emplacement de 0,3 ?
- b) Quelle lettre représente le mieux l'emplacement de 0,66 ?



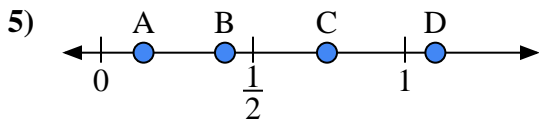
- a) Quelle lettre représente le mieux l'emplacement de 0,4 ?
- b) Quelle lettre représente le mieux l'emplacement de 0,16 ?



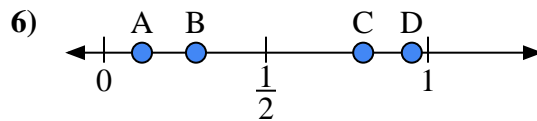
- a) Quelle lettre représente le mieux l'emplacement de 0,10 ?
- b) Quelle lettre représente le mieux l'emplacement de 0,97 ?



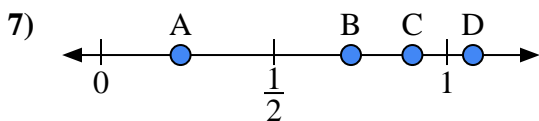
- a) Quelle lettre représente le mieux l'emplacement de 1,0 ?
- b) Quelle lettre représente le mieux l'emplacement de 0,10 ?



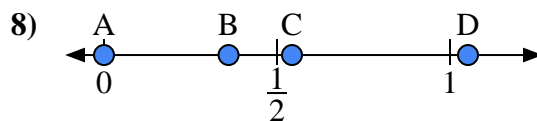
- a) Quelle lettre représente le mieux l'emplacement de 1,10 ?
- b) Quelle lettre représente le mieux l'emplacement de 0,14 ?



- a) Quelle lettre représente le mieux l'emplacement de 0,80 ?
- b) Quelle lettre représente le mieux l'emplacement de 0,95 ?



- a) Quelle lettre représente le mieux l'emplacement de 0,9 ?
- b) Quelle lettre représente le mieux l'emplacement de 0,23 ?



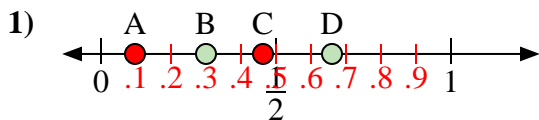
- a) Quelle lettre représente le mieux l'emplacement de 0,00 ?
- b) Quelle lettre représente le mieux l'emplacement de 0,36 ?

- 1. _____
- 2. _____
- 3. _____
- 4. _____
- 5. _____
- 6. _____
- 7. _____
- 8. _____

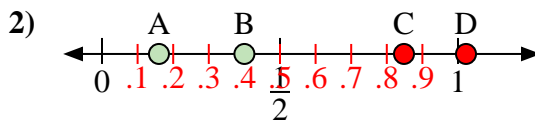


Utilisez la droite numérique pour répondre aux questions.

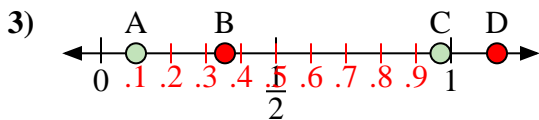
Réponses



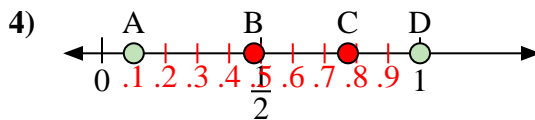
- a) Quelle lettre représente le mieux l'emplacement de 0,3 ?
- b) Quelle lettre représente le mieux l'emplacement de 0,66 ?



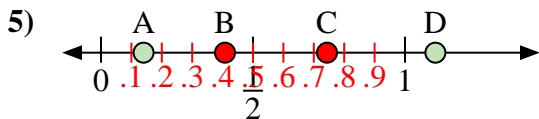
- a) Quelle lettre représente le mieux l'emplacement de 0,4 ?
- b) Quelle lettre représente le mieux l'emplacement de 0,16 ?



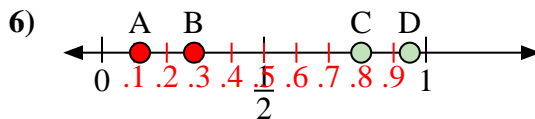
- a) Quelle lettre représente le mieux l'emplacement de 0,10 ?
- b) Quelle lettre représente le mieux l'emplacement de 0,97 ?



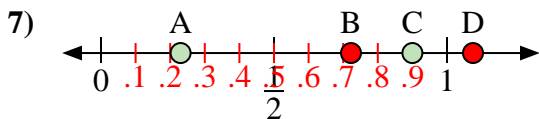
- a) Quelle lettre représente le mieux l'emplacement de 1,0 ?
- b) Quelle lettre représente le mieux l'emplacement de 0,10 ?



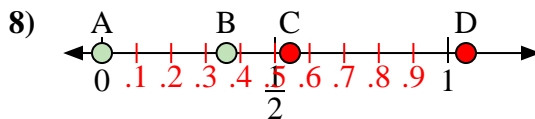
- a) Quelle lettre représente le mieux l'emplacement de 1,10 ?
- b) Quelle lettre représente le mieux l'emplacement de 0,14 ?



- a) Quelle lettre représente le mieux l'emplacement de 0,80 ?
- b) Quelle lettre représente le mieux l'emplacement de 0,95 ?



- a) Quelle lettre représente le mieux l'emplacement de 0,9 ?
- b) Quelle lettre représente le mieux l'emplacement de 0,23 ?



- a) Quelle lettre représente le mieux l'emplacement de 0,00 ?
- b) Quelle lettre représente le mieux l'emplacement de 0,36 ?

- 1. B D
- 2. B A
- 3. A C
- 4. D A
- 5. D A
- 6. C D
- 7. C A
- 8. A B