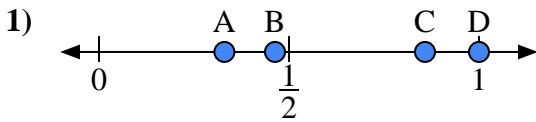


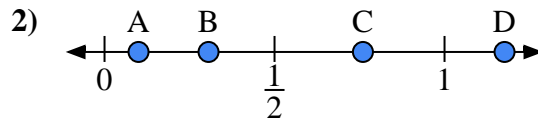


Utilisez la droite numérique pour répondre aux questions.

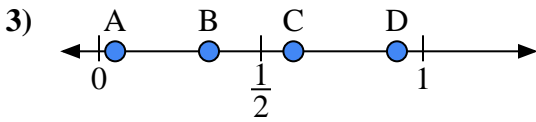
Réponses



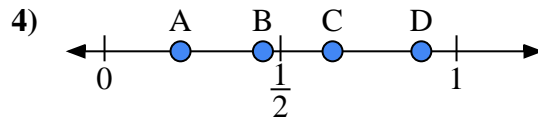
- a) Quelle lettre représente le mieux l'emplacement de 1,0 ?
- b) Quelle lettre représente le mieux l'emplacement de 0,33 ?



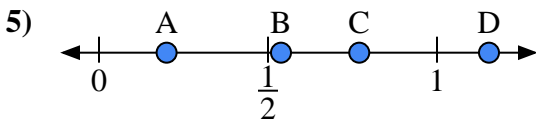
- a) Quelle lettre représente le mieux l'emplacement de 0,10 ?
- b) Quelle lettre représente le mieux l'emplacement de 0,76 ?



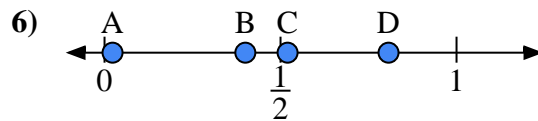
- a) Quelle lettre représente le mieux l'emplacement de 0,60 ?
- b) Quelle lettre représente le mieux l'emplacement de 0,05 ?



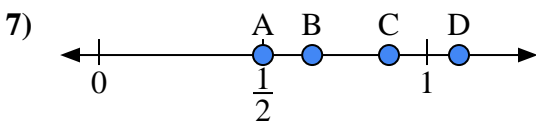
- a) Quelle lettre représente le mieux l'emplacement de 0,90 ?
- b) Quelle lettre représente le mieux l'emplacement de 0,45 ?



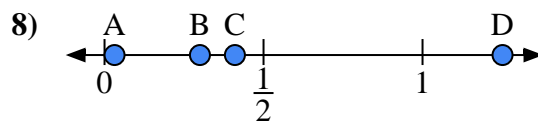
- a) Quelle lettre représente le mieux l'emplacement de 0,2 ?
- b) Quelle lettre représente le mieux l'emplacement de 0,77 ?



- a) Quelle lettre représente le mieux l'emplacement de 0,40 ?
- b) Quelle lettre représente le mieux l'emplacement de 0,52 ?



- a) Quelle lettre représente le mieux l'emplacement de 0,5 ?
- b) Quelle lettre représente le mieux l'emplacement de 0,65 ?



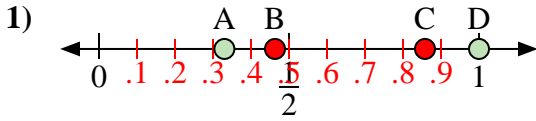
- a) Quelle lettre représente le mieux l'emplacement de 0,30 ?
- b) Quelle lettre représente le mieux l'emplacement de 0,41 ?

- 1. _____
- 2. _____
- 3. _____
- 4. _____
- 5. _____
- 6. _____
- 7. _____
- 8. _____

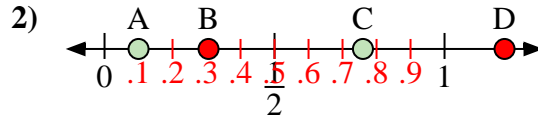


Utilisez la droite numérique pour répondre aux questions.

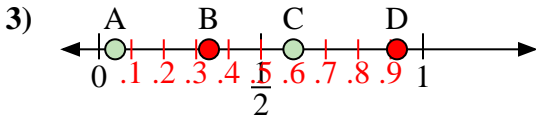
Réponses



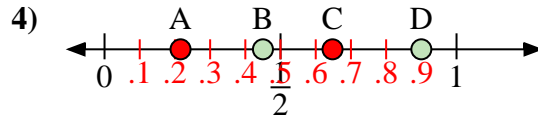
- a) Quelle lettre représente le mieux l'emplacement de 1,0 ?
 b) Quelle lettre représente le mieux l'emplacement de 0,33 ?



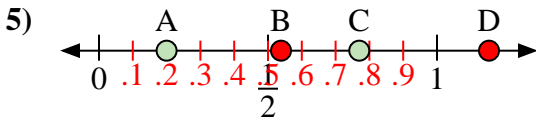
- a) Quelle lettre représente le mieux l'emplacement de 0,10 ?
 b) Quelle lettre représente le mieux l'emplacement de 0,76 ?



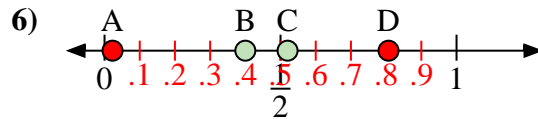
- a) Quelle lettre représente le mieux l'emplacement de 0,60 ?
 b) Quelle lettre représente le mieux l'emplacement de 0,05 ?



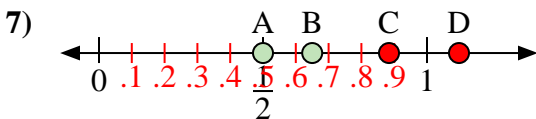
- a) Quelle lettre représente le mieux l'emplacement de 0,90 ?
 b) Quelle lettre représente le mieux l'emplacement de 0,45 ?



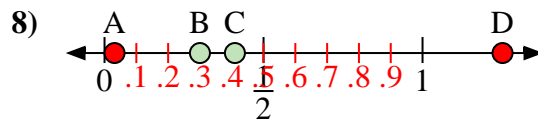
- a) Quelle lettre représente le mieux l'emplacement de 0,2 ?
 b) Quelle lettre représente le mieux l'emplacement de 0,77 ?



- a) Quelle lettre représente le mieux l'emplacement de 0,40 ?
 b) Quelle lettre représente le mieux l'emplacement de 0,52 ?



- a) Quelle lettre représente le mieux l'emplacement de 0,5 ?
 b) Quelle lettre représente le mieux l'emplacement de 0,65 ?



- a) Quelle lettre représente le mieux l'emplacement de 0,30 ?
 b) Quelle lettre représente le mieux l'emplacement de 0,41 ?

1. D A
 2. A C
 3. C A
 4. D B
 5. A C
 6. B C
 7. A B
 8. B C