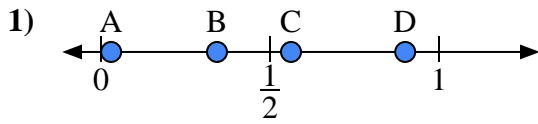


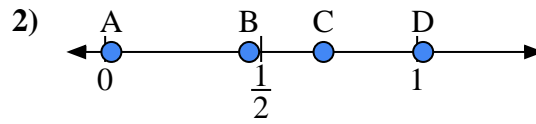


Utilisez la droite numérique pour répondre aux questions.

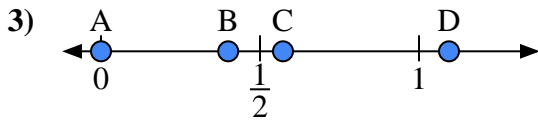
**Réponses**



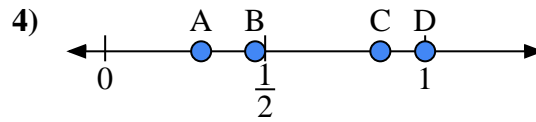
- a) Quelle lettre représente le mieux l'emplacement de 0,9 ?
- b) Quelle lettre représente le mieux l'emplacement de 0,03 ?



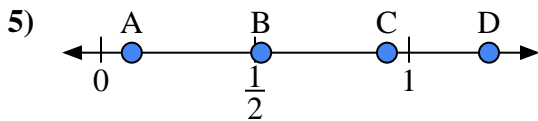
- a) Quelle lettre représente le mieux l'emplacement de 0,7 ?
- b) Quelle lettre représente le mieux l'emplacement de 0,02 ?



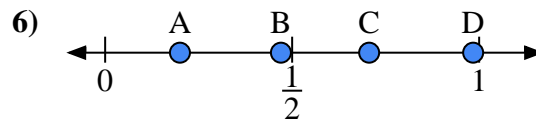
- a) Quelle lettre représente le mieux l'emplacement de 0,00 ?
- b) Quelle lettre représente le mieux l'emplacement de 0,40 ?



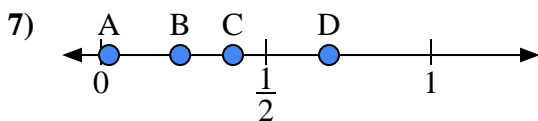
- a) Quelle lettre représente le mieux l'emplacement de 1,0 ?
- b) Quelle lettre représente le mieux l'emplacement de 0,86 ?



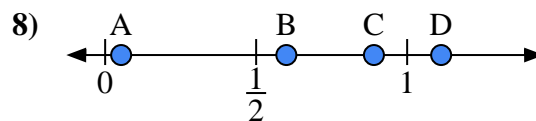
- a) Quelle lettre représente le mieux l'emplacement de 0,10 ?
- b) Quelle lettre représente le mieux l'emplacement de 0,52 ?



- a) Quelle lettre représente le mieux l'emplacement de 0,2 ?
- b) Quelle lettre représente le mieux l'emplacement de 0,47 ?



- a) Quelle lettre représente le mieux l'emplacement de 0,4 ?
- b) Quelle lettre représente le mieux l'emplacement de 0,24 ?



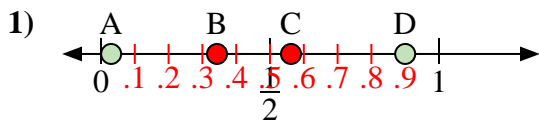
- a) Quelle lettre représente le mieux l'emplacement de 0,60 ?
- b) Quelle lettre représente le mieux l'emplacement de 0,89 ?

- 1. \_\_\_\_\_
- 2. \_\_\_\_\_
- 3. \_\_\_\_\_
- 4. \_\_\_\_\_
- 5. \_\_\_\_\_
- 6. \_\_\_\_\_
- 7. \_\_\_\_\_
- 8. \_\_\_\_\_

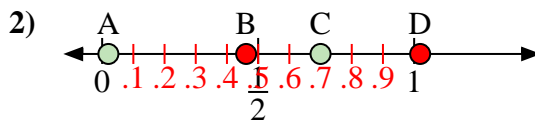


Utilisez la droite numérique pour répondre aux questions.

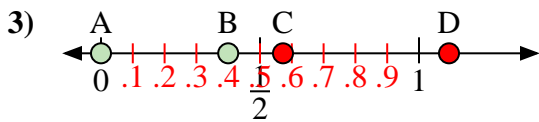
Réponses



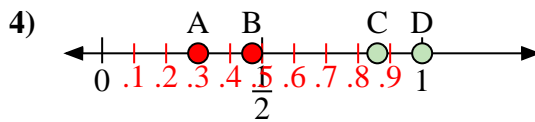
- a) Quelle lettre représente le mieux l'emplacement de 0,9 ?  
 b) Quelle lettre représente le mieux l'emplacement de 0,03 ?



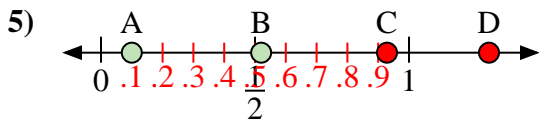
- a) Quelle lettre représente le mieux l'emplacement de 0,7 ?  
 b) Quelle lettre représente le mieux l'emplacement de 0,02 ?



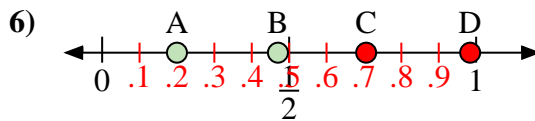
- a) Quelle lettre représente le mieux l'emplacement de 0,00 ?  
 b) Quelle lettre représente le mieux l'emplacement de 0,40 ?



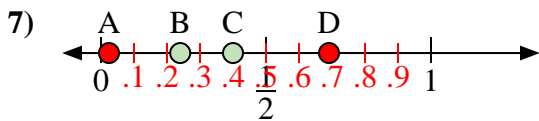
- a) Quelle lettre représente le mieux l'emplacement de 1,0 ?  
 b) Quelle lettre représente le mieux l'emplacement de 0,86 ?



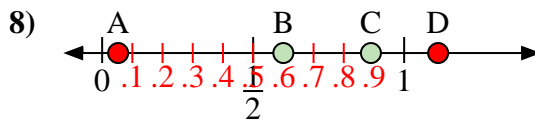
- a) Quelle lettre représente le mieux l'emplacement de 0,10 ?  
 b) Quelle lettre représente le mieux l'emplacement de 0,52 ?



- a) Quelle lettre représente le mieux l'emplacement de 0,2 ?  
 b) Quelle lettre représente le mieux l'emplacement de 0,47 ?



- a) Quelle lettre représente le mieux l'emplacement de 0,4 ?  
 b) Quelle lettre représente le mieux l'emplacement de 0,24 ?



- a) Quelle lettre représente le mieux l'emplacement de 0,60 ?  
 b) Quelle lettre représente le mieux l'emplacement de 0,89 ?

1. D A

2. C A

3. A B

4. D C

5. A B

6. A B

7. C B

8. B C