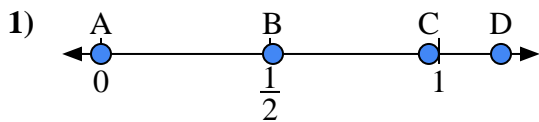


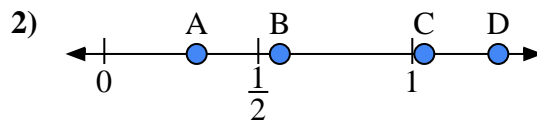


Utilisez la droite numérique pour répondre aux questions.

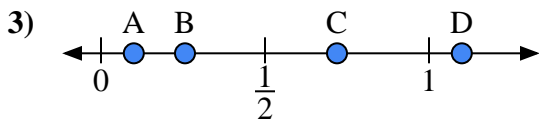
**Réponses**



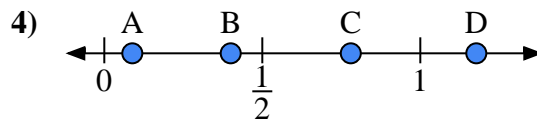
- a) Quelle lettre représente le mieux l'emplacement de 0,00 ?
- b) Quelle lettre représente le mieux l'emplacement de 0,97 ?



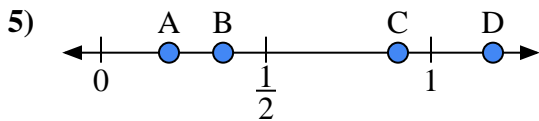
- a) Quelle lettre représente le mieux l'emplacement de 0,30 ?
- b) Quelle lettre représente le mieux l'emplacement de 0,57 ?



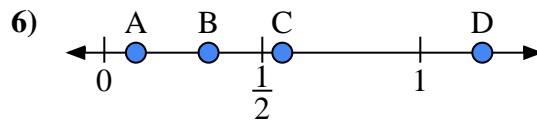
- a) Quelle lettre représente le mieux l'emplacement de 1,10 ?
- b) Quelle lettre représente le mieux l'emplacement de 0,10 ?



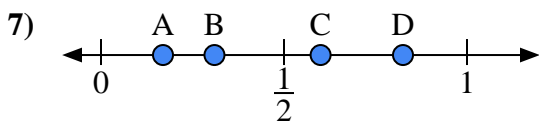
- a) Quelle lettre représente le mieux l'emplacement de 0,4 ?
- b) Quelle lettre représente le mieux l'emplacement de 0,78 ?



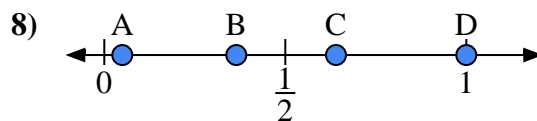
- a) Quelle lettre représente le mieux l'emplacement de 0,90 ?
- b) Quelle lettre représente le mieux l'emplacement de 0,37 ?



- a) Quelle lettre représente le mieux l'emplacement de 0,1 ?
- b) Quelle lettre représente le mieux l'emplacement de 0,33 ?



- a) Quelle lettre représente le mieux l'emplacement de 0,6 ?
- b) Quelle lettre représente le mieux l'emplacement de 0,31 ?



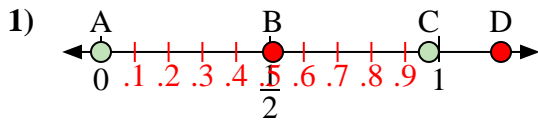
- a) Quelle lettre représente le mieux l'emplacement de 1,0 ?
- b) Quelle lettre représente le mieux l'emplacement de 0,64 ?

- 1. \_\_\_\_\_
- 2. \_\_\_\_\_
- 3. \_\_\_\_\_
- 4. \_\_\_\_\_
- 5. \_\_\_\_\_
- 6. \_\_\_\_\_
- 7. \_\_\_\_\_
- 8. \_\_\_\_\_

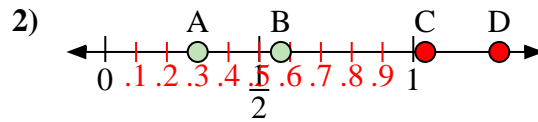


Utilisez la droite numérique pour répondre aux questions.

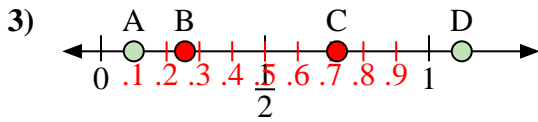
Réponses



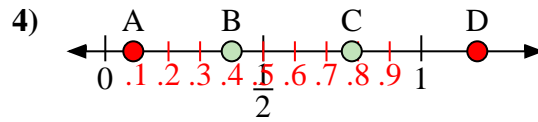
- a) Quelle lettre représente le mieux l'emplacement de 0,00 ?
- b) Quelle lettre représente le mieux l'emplacement de 0,97 ?



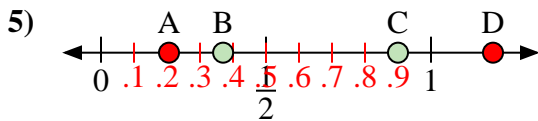
- a) Quelle lettre représente le mieux l'emplacement de 0,30 ?
- b) Quelle lettre représente le mieux l'emplacement de 0,57 ?



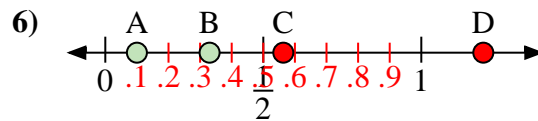
- a) Quelle lettre représente le mieux l'emplacement de 1,10 ?
- b) Quelle lettre représente le mieux l'emplacement de 0,10 ?



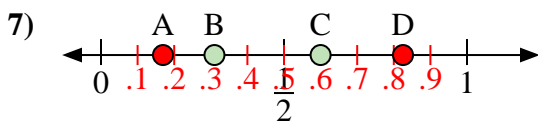
- a) Quelle lettre représente le mieux l'emplacement de 0,4 ?
- b) Quelle lettre représente le mieux l'emplacement de 0,78 ?



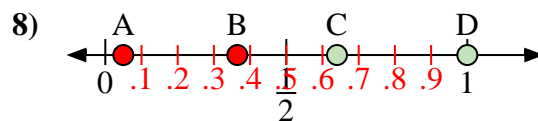
- a) Quelle lettre représente le mieux l'emplacement de 0,90 ?
- b) Quelle lettre représente le mieux l'emplacement de 0,37 ?



- a) Quelle lettre représente le mieux l'emplacement de 0,1 ?
- b) Quelle lettre représente le mieux l'emplacement de 0,33 ?



- a) Quelle lettre représente le mieux l'emplacement de 0,6 ?
- b) Quelle lettre représente le mieux l'emplacement de 0,31 ?



- a) Quelle lettre représente le mieux l'emplacement de 1,0 ?
- b) Quelle lettre représente le mieux l'emplacement de 0,64 ?

- 1. A C
- 2. A B
- 3. D A
- 4. B C
- 5. C B
- 6. A B
- 7. C B
- 8. D C