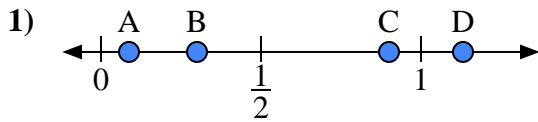


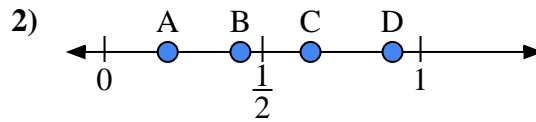


Utilisez la droite numérique pour répondre aux questions.

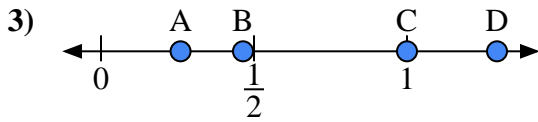
Réponses



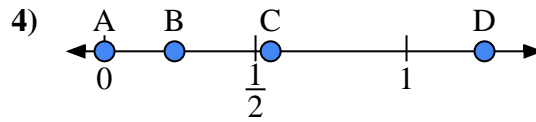
- a) Quelle lettre représente le mieux l'emplacement de 0,9 ?
- b) Quelle lettre représente le mieux l'emplacement de 0,30 ?



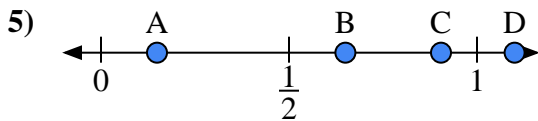
- a) Quelle lettre représente le mieux l'emplacement de 0,20 ?
- b) Quelle lettre représente le mieux l'emplacement de 0,43 ?



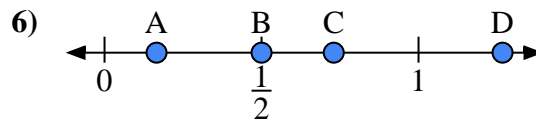
- a) Quelle lettre représente le mieux l'emplacement de 1,0 ?
- b) Quelle lettre représente le mieux l'emplacement de 0,26 ?



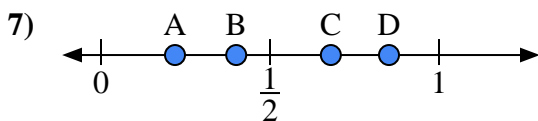
- a) Quelle lettre représente le mieux l'emplacement de 0,00 ?
- b) Quelle lettre représente le mieux l'emplacement de 0,55 ?



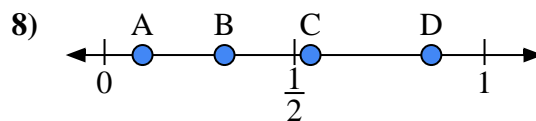
- a) Quelle lettre représente le mieux l'emplacement de 1,10 ?
- b) Quelle lettre représente le mieux l'emplacement de 0,65 ?



- a) Quelle lettre représente le mieux l'emplacement de 0,50 ?
- b) Quelle lettre représente le mieux l'emplacement de 0,73 ?



- a) Quelle lettre représente le mieux l'emplacement de 0,4 ?
- b) Quelle lettre représente le mieux l'emplacement de 0,68 ?



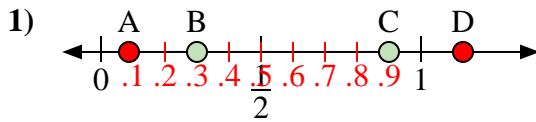
- a) Quelle lettre représente le mieux l'emplacement de 0,10 ?
- b) Quelle lettre représente le mieux l'emplacement de 0,86 ?

- 1. _____
- 2. _____
- 3. _____
- 4. _____
- 5. _____
- 6. _____
- 7. _____
- 8. _____

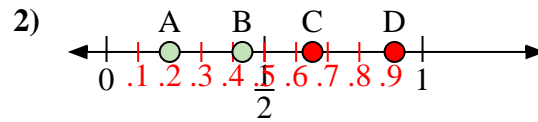


Utilisez la droite numérique pour répondre aux questions.

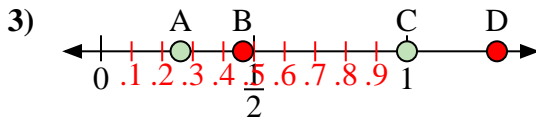
Réponses



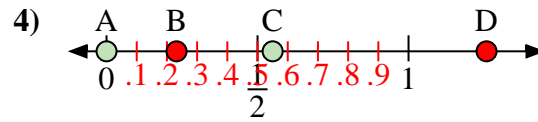
- a) Quelle lettre représente le mieux l'emplacement de 0,9 ?
 b) Quelle lettre représente le mieux l'emplacement de 0,30 ?



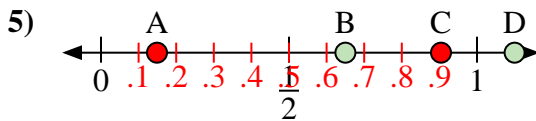
- a) Quelle lettre représente le mieux l'emplacement de 0,20 ?
 b) Quelle lettre représente le mieux l'emplacement de 0,43 ?



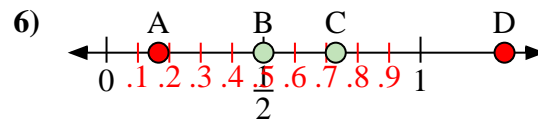
- a) Quelle lettre représente le mieux l'emplacement de 1,0 ?
 b) Quelle lettre représente le mieux l'emplacement de 0,26 ?



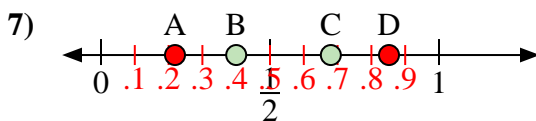
- a) Quelle lettre représente le mieux l'emplacement de 0,00 ?
 b) Quelle lettre représente le mieux l'emplacement de 0,55 ?



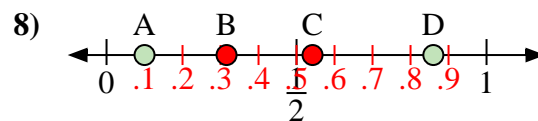
- a) Quelle lettre représente le mieux l'emplacement de 1,10 ?
 b) Quelle lettre représente le mieux l'emplacement de 0,65 ?



- a) Quelle lettre représente le mieux l'emplacement de 0,50 ?
 b) Quelle lettre représente le mieux l'emplacement de 0,73 ?



- a) Quelle lettre représente le mieux l'emplacement de 0,4 ?
 b) Quelle lettre représente le mieux l'emplacement de 0,68 ?



- a) Quelle lettre représente le mieux l'emplacement de 0,10 ?
 b) Quelle lettre représente le mieux l'emplacement de 0,86 ?

1. C B
 2. A B
 3. C A
 4. A C
 5. D B
 6. B C
 7. B C
 8. A D