



Utilisez les formes pour répondre aux questions.

Réponses

Ex) Combien de groupes de 6 pouvez-vous faire avec les 18 formes ci-dessous?



1) Combien de groupes de 3 pouvez-vous faire avec les 9 formes ci-dessous?



Ex. 3

2) Combien de groupes de 9 pouvez-vous faire avec les 18 formes ci-dessous?



3) Combien de groupes de 9 pouvez-vous faire avec les 18 formes ci-dessous?

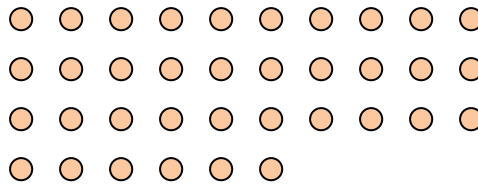


1. 3

4) Combien de groupes de 3 pouvez-vous faire avec les 6 formes ci-dessous?




5) Combien de groupes de 9 pouvez-vous faire avec les 36 formes ci-dessous?



2. 2

6) Combien de groupes de 7 pouvez-vous faire avec les 21 formes ci-dessous?



7) Combien de groupes de 7 pouvez-vous faire avec les 14 formes ci-dessous?

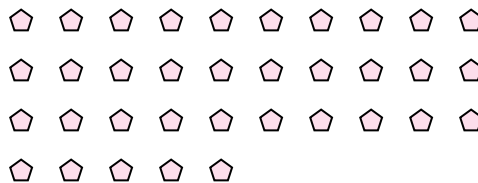


3. 2

8) Combien de groupes de 2 pouvez-vous faire avec les 8 formes ci-dessous?

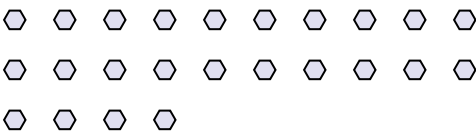


9) Combien de groupes de 7 pouvez-vous faire avec les 35 formes ci-dessous?



4. 2

10) Combien de groupes de 6 pouvez-vous faire avec les 24 formes ci-dessous?



11) Combien de groupes de 8 pouvez-vous faire avec les 16 formes ci-dessous?



5. 4

6. 3

7. 2

8. 4

9. 5

10. 4

11. 2