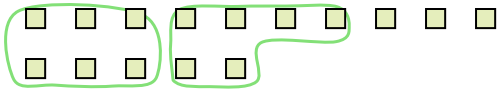





Utilisez les formes pour répondre aux questions.

Réponses

Ex) Il y a 15 formes ci-dessous. Combien de groupes de 6 pouvez-vous faire? Combien en restera-t-il?




1) Il y a 18 formes ci-dessous. Combien de groupes de 3 pouvez-vous faire? Combien en restera-t-il?



Ex. 2 3

- 1. _____
- 2. _____
- 3. _____
- 4. _____
- 5. _____
- 6. _____
- 7. _____
- 8. _____
- 9. _____

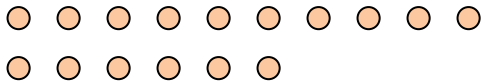
2) Il y a 27 formes ci-dessous. Combien de groupes de 4 pouvez-vous faire? Combien en restera-t-il?



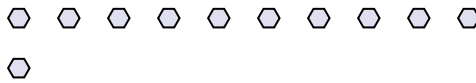
3) Il y a 11 formes ci-dessous. Combien de groupes de 2 pouvez-vous faire? Combien en restera-t-il?



4) Il y a 16 formes ci-dessous. Combien de groupes de 4 pouvez-vous faire? Combien en restera-t-il?



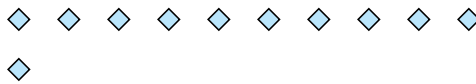
5) Il y a 11 formes ci-dessous. Combien de groupes de 9 pouvez-vous faire? Combien en restera-t-il?




6) Il y a 16 formes ci-dessous. Combien de groupes de 6 pouvez-vous faire? Combien en restera-t-il?



7) Il y a 11 formes ci-dessous. Combien de groupes de 3 pouvez-vous faire? Combien en restera-t-il?



8) Il y a 30 formes ci-dessous. Combien de groupes de 6 pouvez-vous faire? Combien en restera-t-il?



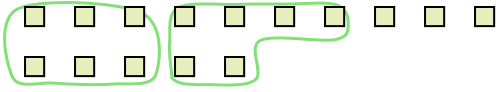
9) Il y a 20 formes ci-dessous. Combien de groupes de 4 pouvez-vous faire? Combien en restera-t-il?






Utilisez les formes pour répondre aux questions.


Ex) Il y a 15 formes ci-dessous. Combien de groupes de 6 pouvez-vous faire? Combien en restera-t-il?



1) Il y a 18 formes ci-dessous. Combien de groupes de 3 pouvez-vous faire? Combien en restera-t-il?



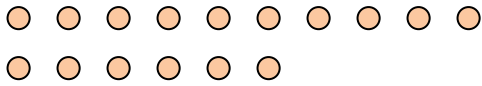
2) Il y a 27 formes ci-dessous. Combien de groupes de 4 pouvez-vous faire? Combien en restera-t-il?



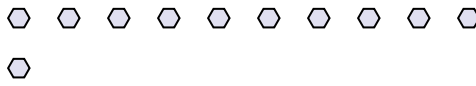
3) Il y a 11 formes ci-dessous. Combien de groupes de 2 pouvez-vous faire? Combien en restera-t-il?



4) Il y a 16 formes ci-dessous. Combien de groupes de 4 pouvez-vous faire? Combien en restera-t-il?



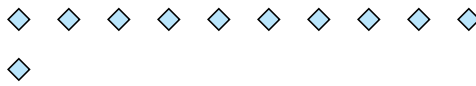
5) Il y a 11 formes ci-dessous. Combien de groupes de 9 pouvez-vous faire? Combien en restera-t-il?




6) Il y a 16 formes ci-dessous. Combien de groupes de 6 pouvez-vous faire? Combien en restera-t-il?



7) Il y a 11 formes ci-dessous. Combien de groupes de 3 pouvez-vous faire? Combien en restera-t-il?



8) Il y a 30 formes ci-dessous. Combien de groupes de 6 pouvez-vous faire? Combien en restera-t-il?



9) Il y a 20 formes ci-dessous. Combien de groupes de 4 pouvez-vous faire? Combien en restera-t-il?



Réponses

| | | |
|-----|----------|----------|
| Ex. | <u>2</u> | <u>3</u> |
| 1. | <u>6</u> | <u>0</u> |
| 2. | <u>6</u> | <u>3</u> |
| 3. | <u>5</u> | <u>1</u> |
| 4. | <u>4</u> | <u>0</u> |
| 5. | <u>1</u> | <u>2</u> |
| 6. | <u>2</u> | <u>4</u> |
| 7. | <u>3</u> | <u>2</u> |
| 8. | <u>5</u> | <u>0</u> |
| 9. | <u>5</u> | <u>0</u> |