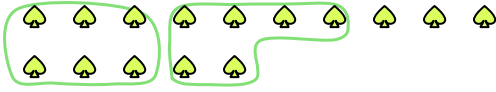




Utilisez les formes pour répondre aux questions.

**Réponses**

Ex) Il y a 15 formes ci-dessous. Combien de groupes de 6 pouvez-vous faire? Combien en restera-t-il?



1) Il y a 30 formes ci-dessous. Combien de groupes de 5 pouvez-vous faire? Combien en restera-t-il?



Ex. 2 3

1. \_\_\_\_\_

2. \_\_\_\_\_

3. \_\_\_\_\_

4. \_\_\_\_\_

5. \_\_\_\_\_

6. \_\_\_\_\_

7. \_\_\_\_\_

8. \_\_\_\_\_

9. \_\_\_\_\_


2) Il y a 15 formes ci-dessous. Combien de groupes de 7 pouvez-vous faire? Combien en restera-t-il?



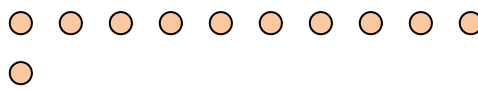
3) Il y a 11 formes ci-dessous. Combien de groupes de 6 pouvez-vous faire? Combien en restera-t-il?



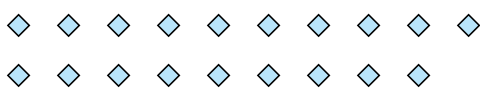
4) Il y a 16 formes ci-dessous. Combien de groupes de 3 pouvez-vous faire? Combien en restera-t-il?



5) Il y a 11 formes ci-dessous. Combien de groupes de 2 pouvez-vous faire? Combien en restera-t-il?




6) Il y a 19 formes ci-dessous. Combien de groupes de 5 pouvez-vous faire? Combien en restera-t-il?



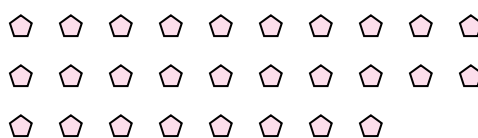
7) Il y a 13 formes ci-dessous. Combien de groupes de 9 pouvez-vous faire? Combien en restera-t-il?



8) Il y a 27 formes ci-dessous. Combien de groupes de 9 pouvez-vous faire? Combien en restera-t-il?



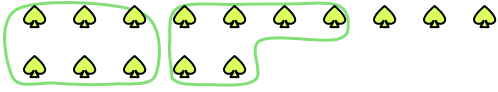
9) Il y a 28 formes ci-dessous. Combien de groupes de 2 pouvez-vous faire? Combien en restera-t-il?





Utilisez les formes pour répondre aux questions.

Ex) Il y a 15 formes ci-dessous. Combien de groupes de 6 pouvez-vous faire? Combien en restera-t-il?



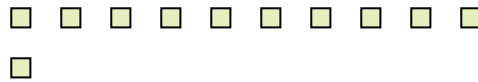
1) Il y a 30 formes ci-dessous. Combien de groupes de 5 pouvez-vous faire? Combien en restera-t-il?




2) Il y a 15 formes ci-dessous. Combien de groupes de 7 pouvez-vous faire? Combien en restera-t-il?



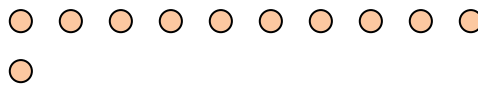
3) Il y a 11 formes ci-dessous. Combien de groupes de 6 pouvez-vous faire? Combien en restera-t-il?



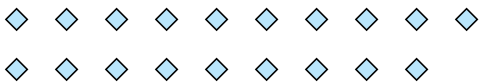
4) Il y a 16 formes ci-dessous. Combien de groupes de 3 pouvez-vous faire? Combien en restera-t-il?



5) Il y a 11 formes ci-dessous. Combien de groupes de 2 pouvez-vous faire? Combien en restera-t-il?




6) Il y a 19 formes ci-dessous. Combien de groupes de 5 pouvez-vous faire? Combien en restera-t-il?



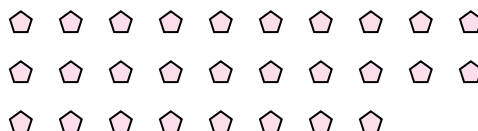
7) Il y a 13 formes ci-dessous. Combien de groupes de 9 pouvez-vous faire? Combien en restera-t-il?



8) Il y a 27 formes ci-dessous. Combien de groupes de 9 pouvez-vous faire? Combien en restera-t-il?



9) Il y a 28 formes ci-dessous. Combien de groupes de 2 pouvez-vous faire? Combien en restera-t-il?



**Réponses**

Ex.	2	3
1.	6	0
2.	2	1
3.	1	5
4.	5	1
5.	5	1
6.	3	4
7.	1	4
8.	3	0
9.	14	0