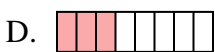
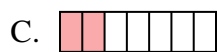
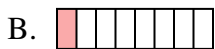
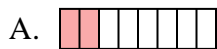

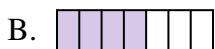
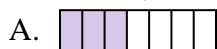



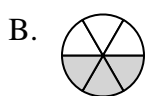
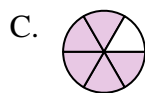


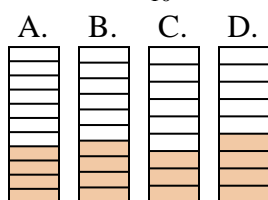

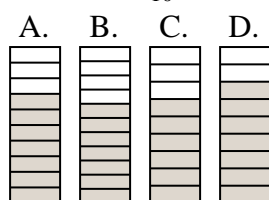




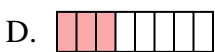
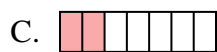
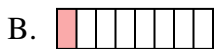
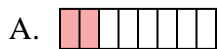
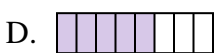

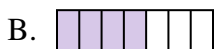
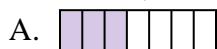




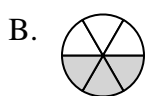
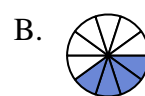
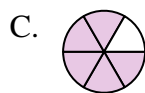

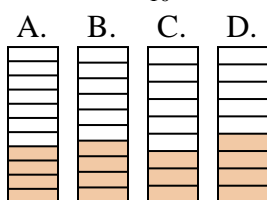

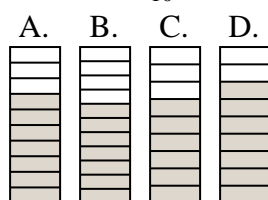
Quelle proposition permet de répondre à chaque question.

Réponses1) Laquelle de ces représentation représente la valeur de $\frac{2}{8}$?2) Laquelle de ces représentation représente la valeur de $\frac{6}{10}$?3) Laquelle de ces représentation représente la valeur de $\frac{4}{7}$?4) Laquelle de ces représentation représente la valeur de $\frac{3}{5}$?5) Laquelle de ces représentation représente la valeur de $\frac{3}{7}$?6) Laquelle de ces représentation représente la valeur de $\frac{3}{10}$?7) Laquelle de ces représentation représente la valeur de $\frac{2}{10}$?8) Laquelle de ces représentation représente la valeur de $\frac{4}{6}$?9) Laquelle de ces représentation représente la valeur de $\frac{4}{10}$?10) Laquelle de ces représentation représente la valeur de $\frac{7}{10}$?

1. _____
2. _____
3. _____
4. _____
5. _____
6. _____
7. _____
8. _____
9. _____
10. _____



Quelle proposition permet de répondre à chaque question.

Réponses1) Laquelle de ces représentation représente la valeur de $\frac{2}{8}$?2) Laquelle de ces représentation représente la valeur de $\frac{6}{10}$?3) Laquelle de ces représentation représente la valeur de $\frac{4}{7}$?4) Laquelle de ces représentation représente la valeur de $\frac{3}{5}$?5) Laquelle de ces représentation représente la valeur de $\frac{3}{7}$?6) Laquelle de ces représentation représente la valeur de $\frac{3}{10}$?7) Laquelle de ces représentation représente la valeur de $\frac{2}{10}$?8) Laquelle de ces représentation représente la valeur de $\frac{4}{6}$?9) Laquelle de ces représentation représente la valeur de $\frac{4}{10}$?10) Laquelle de ces représentation représente la valeur de $\frac{7}{10}$?1. **A** 2. **A** 3. **B** 4. **D** 5. **A** 6. **A** 7. **C** 8. **A** 9. **B** 10. **A**