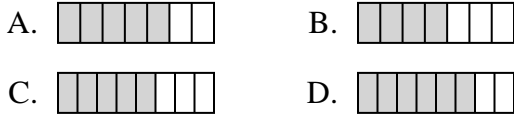




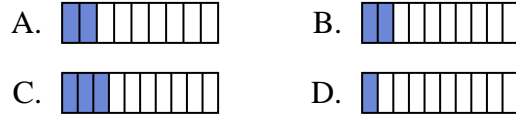
Quelle proposition permet de répondre à chaque question.

**Réponses**

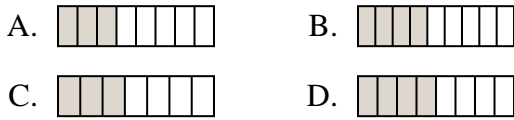
1) Laquelle de ces représentation représente la valeur de  $\frac{5}{8}$ ?



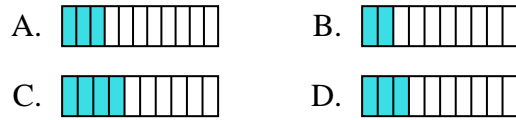
2) Laquelle de ces représentation représente la valeur de  $\frac{2}{10}$ ?



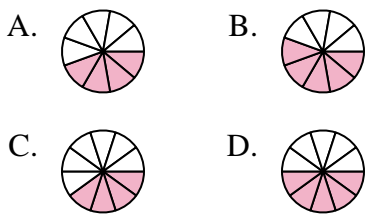
3) Laquelle de ces représentation représente la valeur de  $\frac{4}{8}$ ?



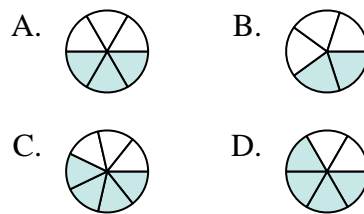
4) Laquelle de ces représentation représente la valeur de  $\frac{3}{10}$ ?



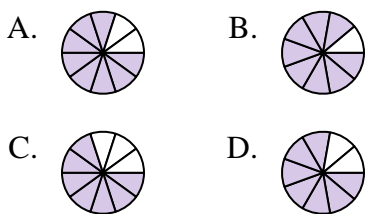
5) Laquelle de ces représentation représente la valeur de  $\frac{5}{10}$ ?



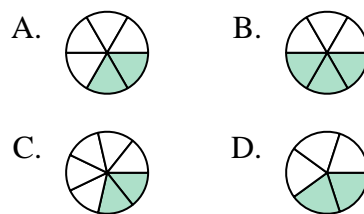
6) Laquelle de ces représentation représente la valeur de  $\frac{3}{6}$ ?



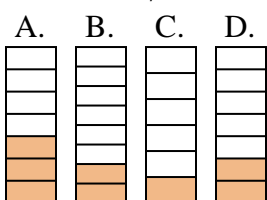
7) Laquelle de ces représentation représente la valeur de  $\frac{8}{10}$ ?



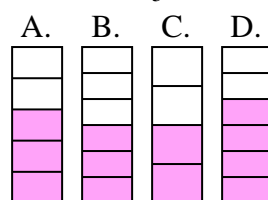
8) Laquelle de ces représentation représente la valeur de  $\frac{2}{6}$ ?



9) Laquelle de ces représentation représente la valeur de  $\frac{2}{7}$ ?





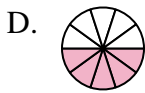
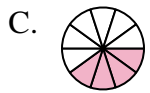
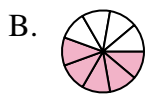
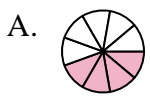
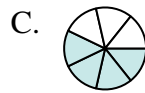
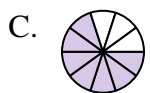
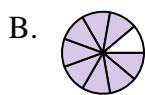
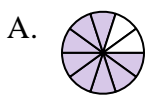
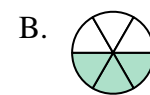
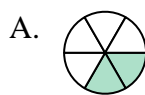
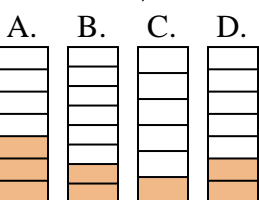

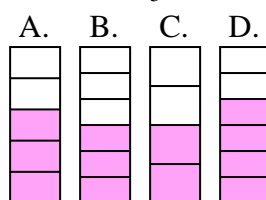
10) Laquelle de ces représentation représente la valeur de  $\frac{3}{5}$ ?



1. \_\_\_\_\_
2. \_\_\_\_\_
3. \_\_\_\_\_
4. \_\_\_\_\_
5. \_\_\_\_\_
6. \_\_\_\_\_
7. \_\_\_\_\_
8. \_\_\_\_\_
9. \_\_\_\_\_
10. \_\_\_\_\_



Quelle proposition permet de répondre à chaque question.

**Réponses**1) Laquelle de ces représentation représente la valeur de  $\frac{5}{8}$ ?2) Laquelle de ces représentation représente la valeur de  $\frac{2}{10}$ ?3) Laquelle de ces représentation représente la valeur de  $\frac{4}{8}$ ?4) Laquelle de ces représentation représente la valeur de  $\frac{3}{10}$ ?5) Laquelle de ces représentation représente la valeur de  $\frac{5}{10}$ ?6) Laquelle de ces représentation représente la valeur de  $\frac{3}{6}$ ?7) Laquelle de ces représentation représente la valeur de  $\frac{8}{10}$ ?8) Laquelle de ces représentation représente la valeur de  $\frac{2}{6}$ ?9) Laquelle de ces représentation représente la valeur de  $\frac{2}{7}$ ?10) Laquelle de ces représentation représente la valeur de  $\frac{3}{5}$ ?1. **C**2. **B**3. **D**4. **D**5. **D**6. **A**7. **A**8. **A**9. **D**10. **A**