

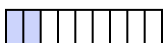
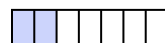







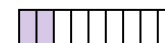
Quelle proposition permet de répondre à chaque question.

**Réponses**





1) Laquelle de ces représentation représente la valeur de  $\frac{2}{8}$ ?

- A.  B.   
 C.  D. 





2) Laquelle de ces représentation représente la valeur de  $\frac{3}{10}$ ?

- A.  B.   
 C.  D. 





3) Laquelle de ces représentation représente la valeur de  $\frac{6}{8}$ ?

- A.  B.   
 C.  D. 





4) Laquelle de ces représentation représente la valeur de  $\frac{4}{8}$ ?

- A.  B.   
 C.  D. 





5) Laquelle de ces représentation représente la valeur de  $\frac{3}{5}$ ?

- A.  B.   
 C.  D. 





6) Laquelle de ces représentation représente la valeur de  $\frac{3}{7}$ ?

- A.  B.   
 C.  D. 





7) Laquelle de ces représentation représente la valeur de  $\frac{4}{10}$ ?

- A.  B.   
 C.  D. 





8) Laquelle de ces représentation représente la valeur de  $\frac{2}{7}$ ?

- A.  B.   
 C.  D. 

9) Laquelle de ces représentation représente la valeur de  $\frac{3}{6}$ ?

- A.  B.   
 C.  D. 

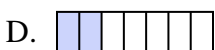
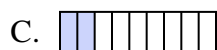
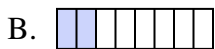
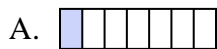
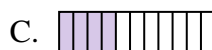
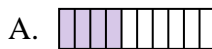
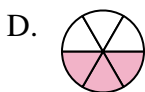
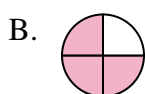


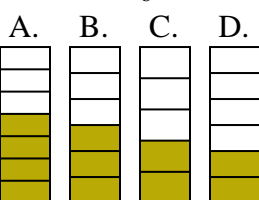


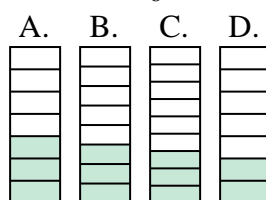
10) Laquelle de ces représentation représente la valeur de  $\frac{3}{8}$ ?

- A.  B.   
 C.  D. 

1. \_\_\_\_\_
2. \_\_\_\_\_
3. \_\_\_\_\_
4. \_\_\_\_\_
5. \_\_\_\_\_
6. \_\_\_\_\_
7. \_\_\_\_\_
8. \_\_\_\_\_
9. \_\_\_\_\_
10. \_\_\_\_\_



Quelle proposition permet de répondre à chaque question.

**Réponses**1) Laquelle de ces représentation représente la valeur de  $\frac{2}{8}$ ?2) Laquelle de ces représentation représente la valeur de  $\frac{3}{10}$ ?3) Laquelle de ces représentation représente la valeur de  $\frac{6}{8}$ ?4) Laquelle de ces représentation représente la valeur de  $\frac{4}{8}$ ?5) Laquelle de ces représentation représente la valeur de  $\frac{3}{5}$ ?6) Laquelle de ces représentation représente la valeur de  $\frac{3}{7}$ ?7) Laquelle de ces représentation représente la valeur de  $\frac{4}{10}$ ?8) Laquelle de ces représentation représente la valeur de  $\frac{2}{7}$ ?9) Laquelle de ces représentation représente la valeur de  $\frac{3}{6}$ ?10) Laquelle de ces représentation représente la valeur de  $\frac{3}{8}$ ?1. **B**2. **B**3. **D**4. **B**5. **C**6. **D**7. **A**8. **B**9. **B**10. **B**