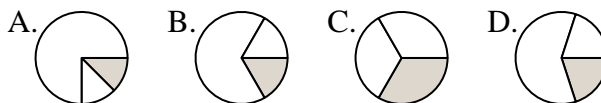




Déterminer quelle lettre représente le mieux chaque fraction.

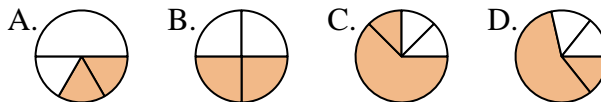
Réponses

1) Quelle réponse représente le mieux  $\frac{1}{3}$ ?



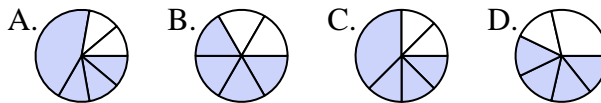
1. \_\_\_\_\_

2) Quelle réponse représente le mieux  $\frac{2}{4}$ ?



2. \_\_\_\_\_

3) Quelle réponse représente le mieux  $\frac{4}{6}$ ?



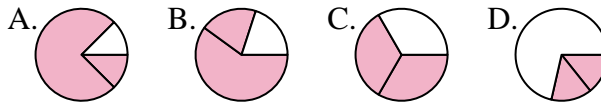
4. \_\_\_\_\_

4) Quelle réponse représente le mieux  $\frac{1}{8}$ ?



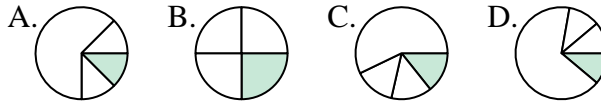
6. \_\_\_\_\_

5) Quelle réponse représente le mieux  $\frac{2}{3}$ ?



8. \_\_\_\_\_

6) Quelle réponse représente le mieux  $\frac{1}{4}$ ?



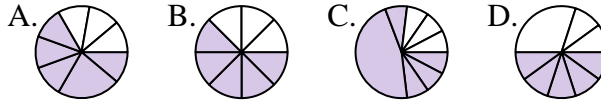
10. \_\_\_\_\_

7) Quelle réponse représente le mieux  $\frac{3}{6}$ ?



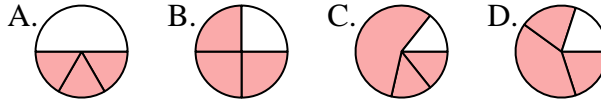
11. \_\_\_\_\_

8) Quelle réponse représente le mieux  $\frac{5}{8}$ ?

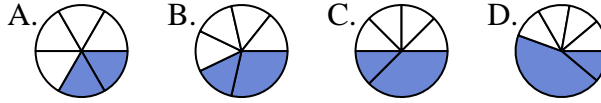


12. \_\_\_\_\_

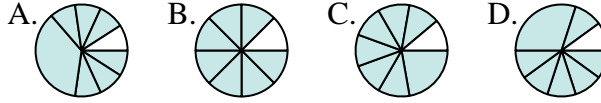
9) Quelle réponse représente le mieux  $\frac{3}{4}$ ?



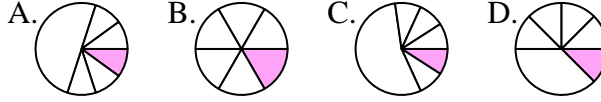
10) Quelle réponse représente le mieux  $\frac{2}{6}$ ?



11) Quelle réponse représente le mieux  $\frac{7}{8}$ ?



12) Quelle réponse représente le mieux  $\frac{1}{6}$ ?

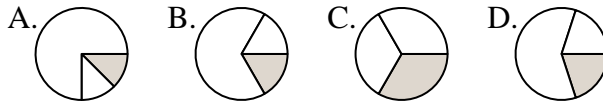




Déterminer quelle lettre représente le mieux chaque fraction.

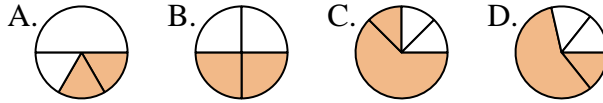
**Réponses**

1) Quelle réponse représente le mieux  $\frac{1}{3}$ ?



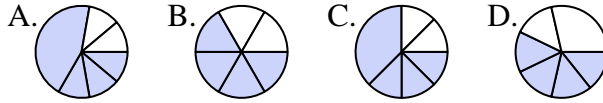
1.     **C**    

2) Quelle réponse représente le mieux  $\frac{2}{4}$ ?



2.     **B**    

3) Quelle réponse représente le mieux  $\frac{4}{6}$ ?



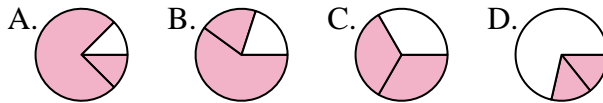
4.     **C**    

4) Quelle réponse représente le mieux  $\frac{1}{8}$ ?



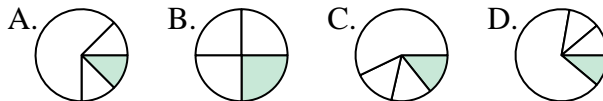
6.     **B**    

5) Quelle réponse représente le mieux  $\frac{2}{3}$ ?



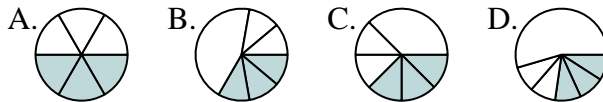
8.     **B**    

6) Quelle réponse représente le mieux  $\frac{1}{4}$ ?



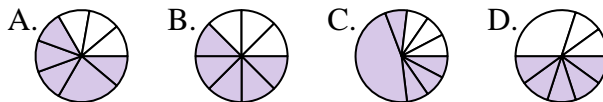
10.     **A**    

7) Quelle réponse représente le mieux  $\frac{3}{6}$ ?



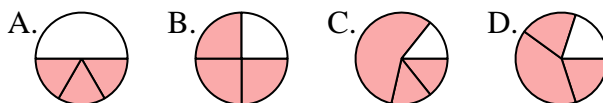
11.     **B**    

8) Quelle réponse représente le mieux  $\frac{5}{8}$ ?

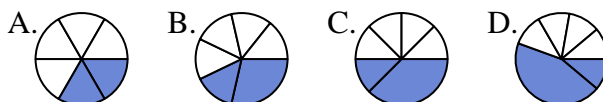


12.     **B**    

9) Quelle réponse représente le mieux  $\frac{3}{4}$ ?



10) Quelle réponse représente le mieux  $\frac{2}{6}$ ?



11) Quelle réponse représente le mieux  $\frac{7}{8}$ ?



12) Quelle réponse représente le mieux  $\frac{1}{6}$ ?

