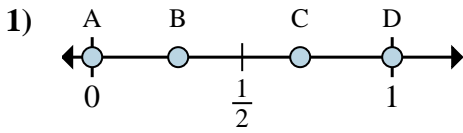


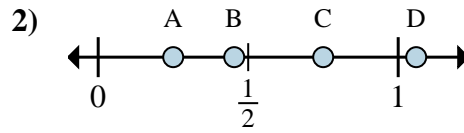


Déterminez quelle lettre représente la situation de la fraction sur la droite numérique.

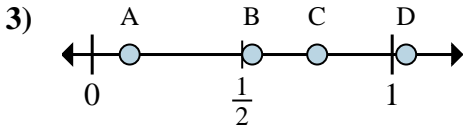
Réponses



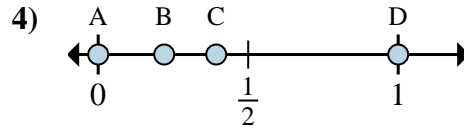
- a. Quelle lettre représente le mieux $\frac{0}{2}$
 b. Quelle lettre représente le mieux $\frac{2}{2}$



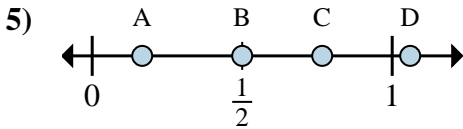
- a. Quelle lettre représente le mieux $\frac{1}{4}$
 b. Quelle lettre représente le mieux $\frac{3}{4}$



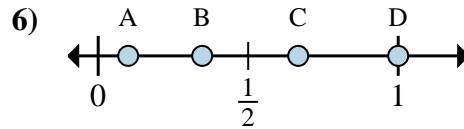
- a. Quelle lettre représente le mieux $\frac{6}{8}$
 b. Quelle lettre représente le mieux $\frac{1}{8}$



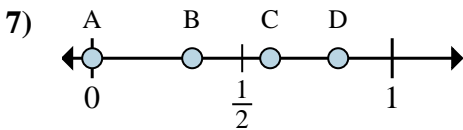
- a. Quelle lettre représente le mieux $\frac{0}{2}$
 b. Quelle lettre représente le mieux $\frac{2}{2}$



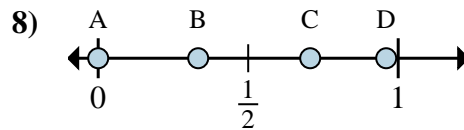
- a. Quelle lettre représente le mieux $\frac{3}{6}$
 b. Quelle lettre représente le mieux $\frac{1}{6}$



- a. Quelle lettre représente le mieux $\frac{2}{3}$
 b. Quelle lettre représente le mieux $\frac{3}{3}$



- a. Quelle lettre représente le mieux $\frac{0}{3}$
 b. Quelle lettre représente le mieux $\frac{1}{3}$



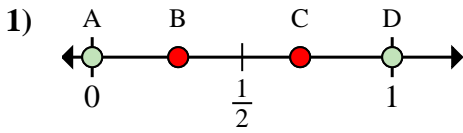
- a. Quelle lettre représente le mieux $\frac{0}{6}$
 b. Quelle lettre représente le mieux $\frac{2}{6}$

1. _____
 2. _____
 3. _____
 4. _____
 5. _____
 6. _____
 7. _____
 8. _____

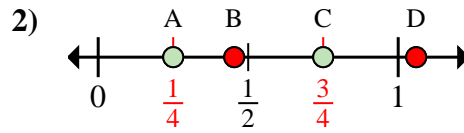


Déterminez quelle lettre représente la situation de la fraction sur la droite numérique.

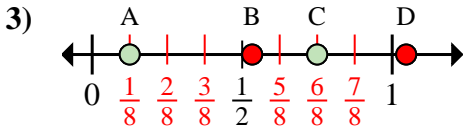
Réponses



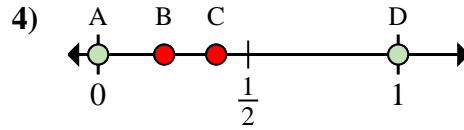
- a. Quelle lettre représente le mieux $\frac{0}{2}$
 b. Quelle lettre représente le mieux $\frac{2}{2}$



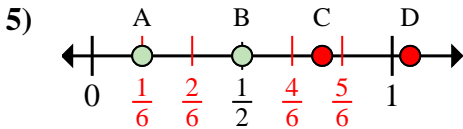
- a. Quelle lettre représente le mieux $\frac{1}{4}$
 b. Quelle lettre représente le mieux $\frac{3}{4}$



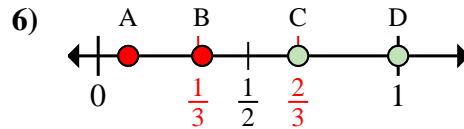
- a. Quelle lettre représente le mieux $\frac{6}{8}$
 b. Quelle lettre représente le mieux $\frac{1}{8}$



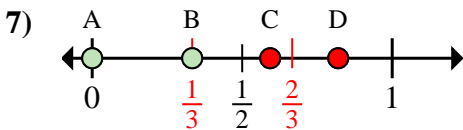
- a. Quelle lettre représente le mieux $\frac{0}{2}$
 b. Quelle lettre représente le mieux $\frac{2}{2}$



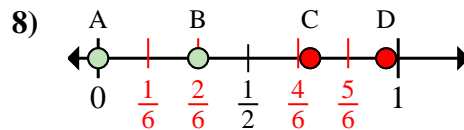
- a. Quelle lettre représente le mieux $\frac{3}{6}$
 b. Quelle lettre représente le mieux $\frac{1}{6}$



- a. Quelle lettre représente le mieux $\frac{2}{3}$
 b. Quelle lettre représente le mieux $\frac{3}{3}$



- a. Quelle lettre représente le mieux $\frac{0}{3}$
 b. Quelle lettre représente le mieux $\frac{1}{3}$



- a. Quelle lettre représente le mieux $\frac{0}{6}$
 b. Quelle lettre représente le mieux $\frac{2}{6}$

1. A D
 2. A C
 3. C A
 4. A D
 5. B A
 6. C D
 7. A B
 8. A B