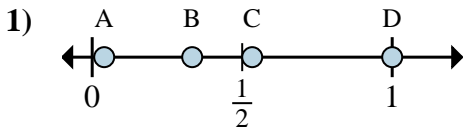


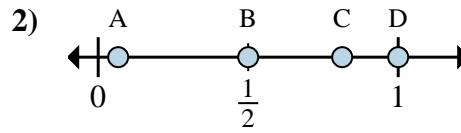


Déterminez quelle lettre représente la situation de la fraction sur la droite numérique.

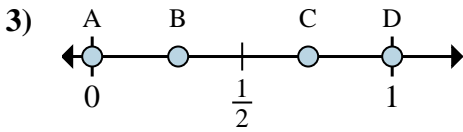
**Réponses**



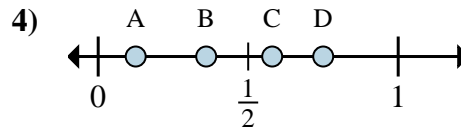
- a. Quelle lettre représente le mieux  $\frac{1}{3}$   
 b. Quelle lettre représente le mieux  $\frac{3}{3}$



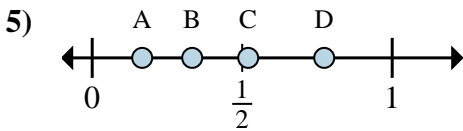
- a. Quelle lettre représente le mieux  $\frac{1}{2}$   
 b. Quelle lettre représente le mieux  $\frac{2}{2}$



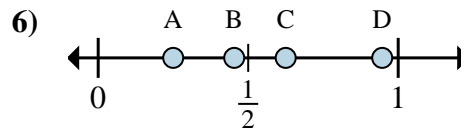
- a. Quelle lettre représente le mieux  $\frac{0}{6}$   
 b. Quelle lettre représente le mieux  $\frac{6}{6}$



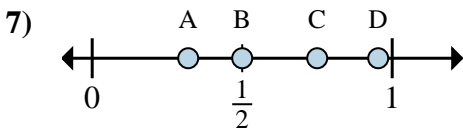
- a. Quelle lettre représente le mieux  $\frac{1}{8}$   
 b. Quelle lettre représente le mieux  $\frac{6}{8}$



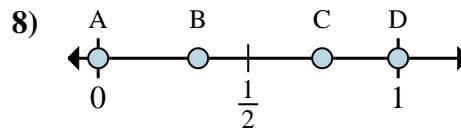
- a. Quelle lettre représente le mieux  $\frac{2}{6}$   
 b. Quelle lettre représente le mieux  $\frac{1}{6}$



- a. Quelle lettre représente le mieux  $\frac{5}{8}$   
 b. Quelle lettre représente le mieux  $\frac{2}{8}$



- a. Quelle lettre représente le mieux  $\frac{3}{4}$   
 b. Quelle lettre représente le mieux  $\frac{2}{4}$



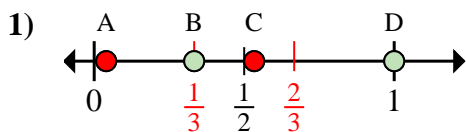
- a. Quelle lettre représente le mieux  $\frac{0}{6}$   
 b. Quelle lettre représente le mieux  $\frac{6}{6}$

1. \_\_\_\_\_  
 2. \_\_\_\_\_  
 3. \_\_\_\_\_  
 4. \_\_\_\_\_  
 5. \_\_\_\_\_  
 6. \_\_\_\_\_  
 7. \_\_\_\_\_  
 8. \_\_\_\_\_

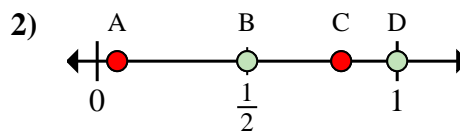


Déterminez quelle lettre représente la situation de la fraction sur la droite numérique.

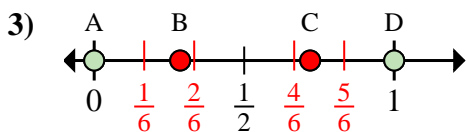
**Réponses**



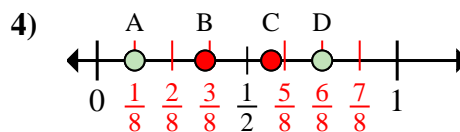
- a. Quelle lettre représente le mieux  $\frac{1}{3}$   
 b. Quelle lettre représente le mieux  $\frac{3}{3}$



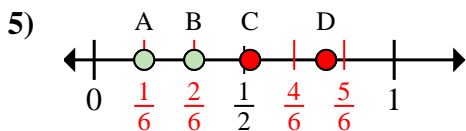
- a. Quelle lettre représente le mieux  $\frac{1}{2}$   
 b. Quelle lettre représente le mieux  $\frac{2}{2}$



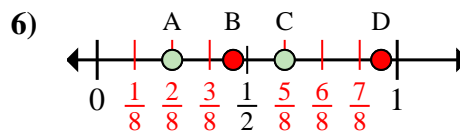
- a. Quelle lettre représente le mieux  $\frac{0}{6}$   
 b. Quelle lettre représente le mieux  $\frac{6}{6}$



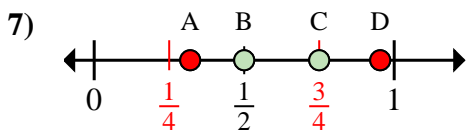
- a. Quelle lettre représente le mieux  $\frac{1}{8}$   
 b. Quelle lettre représente le mieux  $\frac{6}{8}$



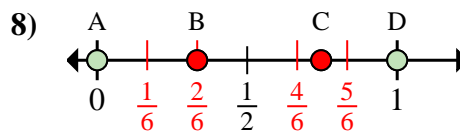
- a. Quelle lettre représente le mieux  $\frac{2}{6}$   
 b. Quelle lettre représente le mieux  $\frac{1}{6}$



- a. Quelle lettre représente le mieux  $\frac{5}{8}$   
 b. Quelle lettre représente le mieux  $\frac{2}{8}$



- a. Quelle lettre représente le mieux  $\frac{3}{4}$   
 b. Quelle lettre représente le mieux  $\frac{2}{4}$



- a. Quelle lettre représente le mieux  $\frac{0}{6}$   
 b. Quelle lettre représente le mieux  $\frac{6}{6}$

1. **B D**

2. **B D**

3. **A D**

4. **A D**

5. **B A**

6. **C A**

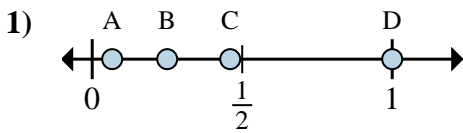
7. **C B**

8. **A D**

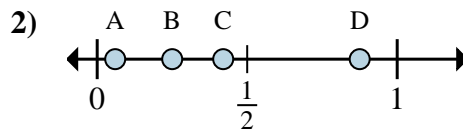


Déterminez quelle lettre représente la situation de la fraction sur la droite numérique.

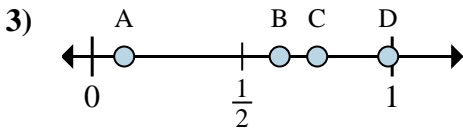
**Réponses**



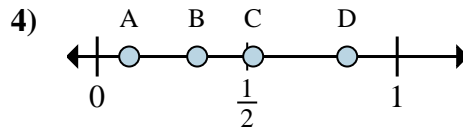
- a. Quelle lettre représente le mieux  $\frac{4}{4}$   
 b. Quelle lettre représente le mieux  $\frac{1}{4}$



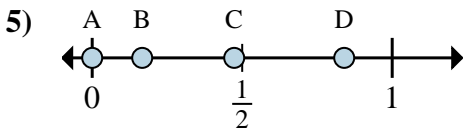
- a. Quelle lettre représente le mieux  $\frac{7}{8}$   
 b. Quelle lettre représente le mieux  $\frac{2}{8}$



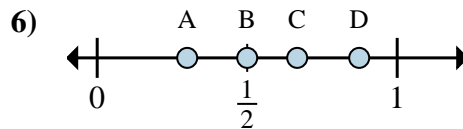
- a. Quelle lettre représente le mieux  $\frac{5}{8}$   
 b. Quelle lettre représente le mieux  $\frac{6}{8}$



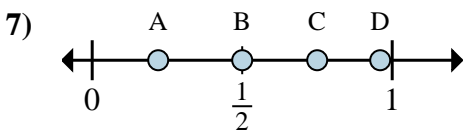
- a. Quelle lettre représente le mieux  $\frac{5}{6}$   
 b. Quelle lettre représente le mieux  $\frac{2}{6}$



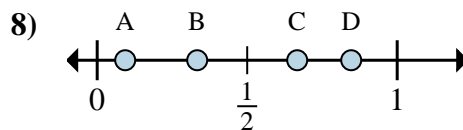
- a. Quelle lettre représente le mieux  $\frac{0}{6}$   
 b. Quelle lettre représente le mieux  $\frac{1}{6}$



- a. Quelle lettre représente le mieux  $\frac{3}{6}$   
 b. Quelle lettre représente le mieux  $\frac{4}{6}$



- a. Quelle lettre représente le mieux  $\frac{3}{4}$   
 b. Quelle lettre représente le mieux  $\frac{2}{4}$



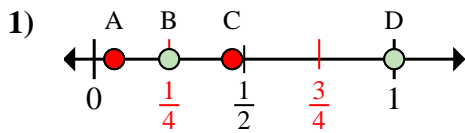
- a. Quelle lettre représente le mieux  $\frac{2}{3}$   
 b. Quelle lettre représente le mieux  $\frac{1}{3}$

1. \_\_\_\_\_  
 2. \_\_\_\_\_  
 3. \_\_\_\_\_  
 4. \_\_\_\_\_  
 5. \_\_\_\_\_  
 6. \_\_\_\_\_  
 7. \_\_\_\_\_  
 8. \_\_\_\_\_

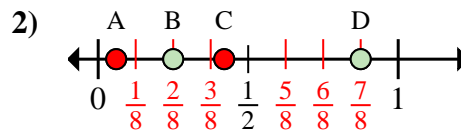


Déterminez quelle lettre représente la situation de la fraction sur la droite numérique.

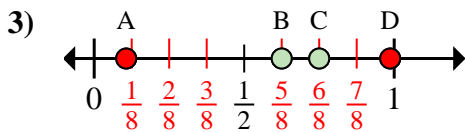
**Réponses**



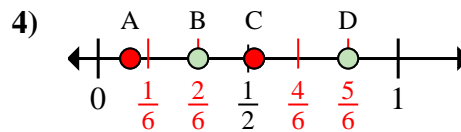
- a. Quelle lettre représente le mieux  $\frac{4}{4}$   
 b. Quelle lettre représente le mieux  $\frac{1}{4}$



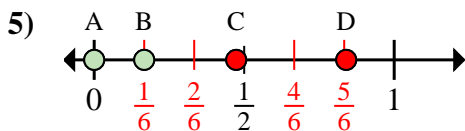
- a. Quelle lettre représente le mieux  $\frac{7}{8}$   
 b. Quelle lettre représente le mieux  $\frac{2}{8}$



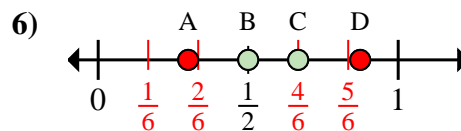
- a. Quelle lettre représente le mieux  $\frac{5}{8}$   
 b. Quelle lettre représente le mieux  $\frac{6}{8}$



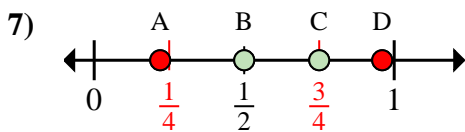
- a. Quelle lettre représente le mieux  $\frac{5}{6}$   
 b. Quelle lettre représente le mieux  $\frac{2}{6}$



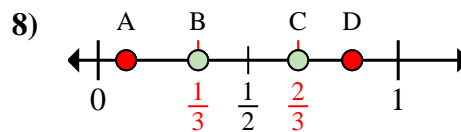
- a. Quelle lettre représente le mieux  $\frac{0}{6}$   
 b. Quelle lettre représente le mieux  $\frac{1}{6}$



- a. Quelle lettre représente le mieux  $\frac{3}{6}$   
 b. Quelle lettre représente le mieux  $\frac{4}{6}$



- a. Quelle lettre représente le mieux  $\frac{3}{4}$   
 b. Quelle lettre représente le mieux  $\frac{2}{4}$



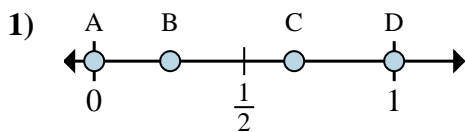
- a. Quelle lettre représente le mieux  $\frac{2}{3}$   
 b. Quelle lettre représente le mieux  $\frac{1}{3}$

1. D B  
 2. D B  
 3. B C  
 4. D B  
 5. A B  
 6. B C  
 7. C B  
 8. C B

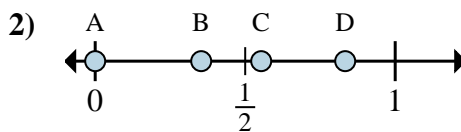


Déterminez quelle lettre représente la situation de la fraction sur la droite numérique.

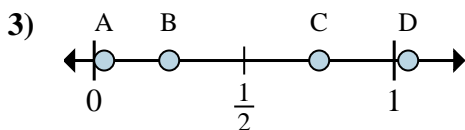
**Réponses**



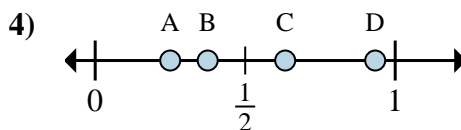
- a. Quelle lettre représente le mieux  $\frac{0}{3}$   
 b. Quelle lettre représente le mieux  $\frac{2}{3}$



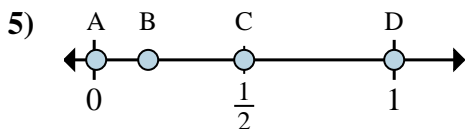
- a. Quelle lettre représente le mieux  $\frac{0}{6}$   
 b. Quelle lettre représente le mieux  $\frac{5}{6}$



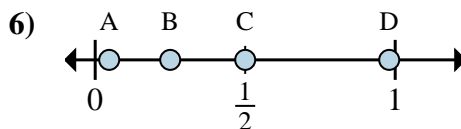
- a. Quelle lettre représente le mieux  $\frac{3}{4}$   
 b. Quelle lettre représente le mieux  $\frac{1}{4}$



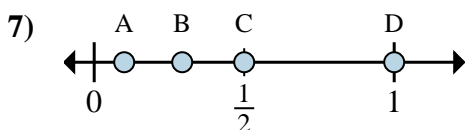
- a. Quelle lettre représente le mieux  $\frac{2}{8}$   
 b. Quelle lettre représente le mieux  $\frac{3}{8}$



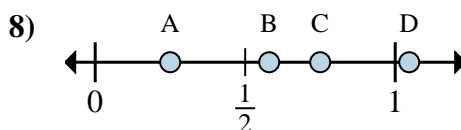
- a. Quelle lettre représente le mieux  $\frac{2}{4}$   
 b. Quelle lettre représente le mieux  $\frac{4}{4}$



- a. Quelle lettre représente le mieux  $\frac{1}{4}$   
 b. Quelle lettre représente le mieux  $\frac{2}{4}$



- a. Quelle lettre représente le mieux  $\frac{1}{2}$   
 b. Quelle lettre représente le mieux  $\frac{2}{2}$



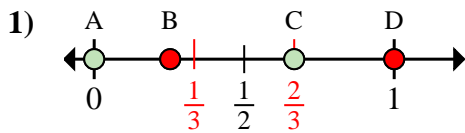
- a. Quelle lettre représente le mieux  $\frac{1}{4}$   
 b. Quelle lettre représente le mieux  $\frac{3}{4}$

1. \_\_\_\_\_  
 2. \_\_\_\_\_  
 3. \_\_\_\_\_  
 4. \_\_\_\_\_  
 5. \_\_\_\_\_  
 6. \_\_\_\_\_  
 7. \_\_\_\_\_  
 8. \_\_\_\_\_

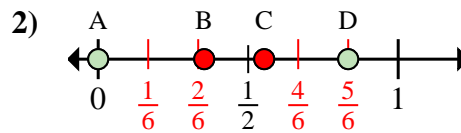


Déterminez quelle lettre représente la situation de la fraction sur la droite numérique.

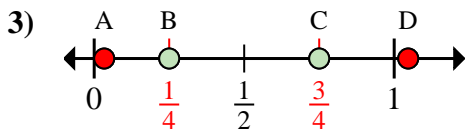
**Réponses**



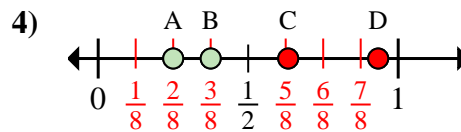
- a. Quelle lettre représente le mieux  $\frac{0}{3}$   
 b. Quelle lettre représente le mieux  $\frac{2}{3}$



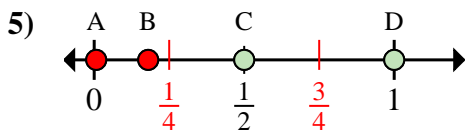
- a. Quelle lettre représente le mieux  $\frac{0}{6}$   
 b. Quelle lettre représente le mieux  $\frac{5}{6}$



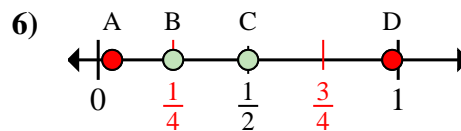
- a. Quelle lettre représente le mieux  $\frac{3}{4}$   
 b. Quelle lettre représente le mieux  $\frac{1}{4}$



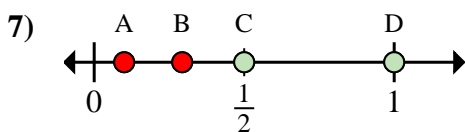
- a. Quelle lettre représente le mieux  $\frac{2}{8}$   
 b. Quelle lettre représente le mieux  $\frac{3}{8}$



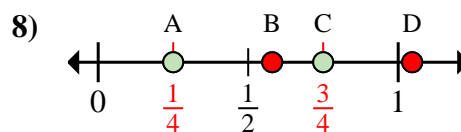
- a. Quelle lettre représente le mieux  $\frac{2}{4}$   
 b. Quelle lettre représente le mieux  $\frac{4}{4}$



- a. Quelle lettre représente le mieux  $\frac{1}{4}$   
 b. Quelle lettre représente le mieux  $\frac{2}{4}$



- a. Quelle lettre représente le mieux  $\frac{1}{2}$   
 b. Quelle lettre représente le mieux  $\frac{2}{2}$



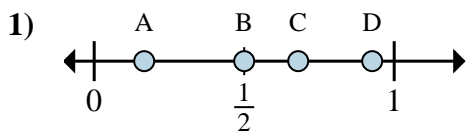
- a. Quelle lettre représente le mieux  $\frac{1}{4}$   
 b. Quelle lettre représente le mieux  $\frac{3}{4}$

1. A C  
 2. A D  
 3. C B  
 4. A B  
 5. C D  
 6. B C  
 7. C D  
 8. A C

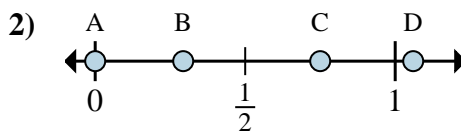


Déterminez quelle lettre représente la situation de la fraction sur la droite numérique.

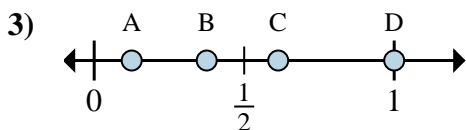
**Réponses**



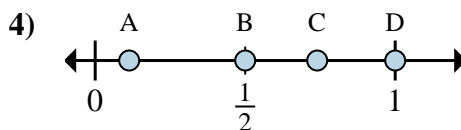
- a. Quelle lettre représente le mieux  $\frac{1}{6}$   
 b. Quelle lettre représente le mieux  $\frac{3}{6}$



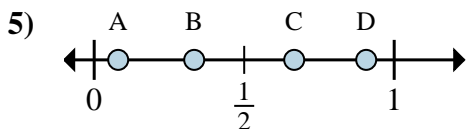
- a. Quelle lettre représente le mieux  $\frac{0}{4}$   
 b. Quelle lettre représente le mieux  $\frac{3}{4}$



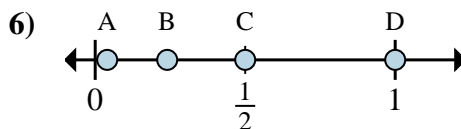
- a. Quelle lettre représente le mieux  $\frac{1}{8}$   
 b. Quelle lettre représente le mieux  $\frac{3}{8}$



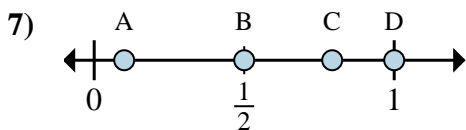
- a. Quelle lettre représente le mieux  $\frac{2}{2}$   
 b. Quelle lettre représente le mieux  $\frac{1}{2}$



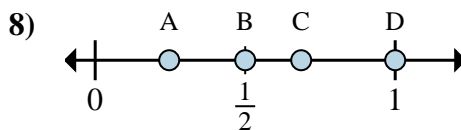
- a. Quelle lettre représente le mieux  $\frac{1}{3}$   
 b. Quelle lettre représente le mieux  $\frac{2}{3}$



- a. Quelle lettre représente le mieux  $\frac{2}{2}$   
 b. Quelle lettre représente le mieux  $\frac{1}{2}$



- a. Quelle lettre représente le mieux  $\frac{1}{2}$   
 b. Quelle lettre représente le mieux  $\frac{2}{2}$



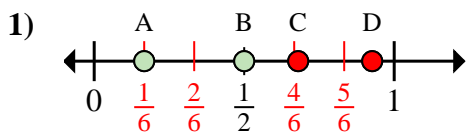
- a. Quelle lettre représente le mieux  $\frac{1}{2}$   
 b. Quelle lettre représente le mieux  $\frac{2}{2}$

1. \_\_\_\_\_  
 2. \_\_\_\_\_  
 3. \_\_\_\_\_  
 4. \_\_\_\_\_  
 5. \_\_\_\_\_  
 6. \_\_\_\_\_  
 7. \_\_\_\_\_  
 8. \_\_\_\_\_

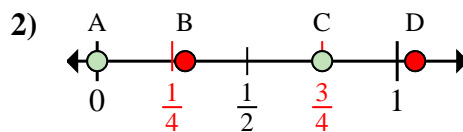


Déterminez quelle lettre représente la situation de la fraction sur la droite numérique.

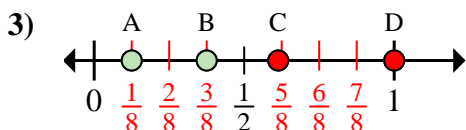
**Réponses**



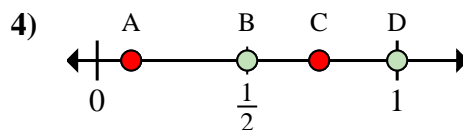
- a. Quelle lettre représente le mieux  $\frac{1}{6}$   
 b. Quelle lettre représente le mieux  $\frac{3}{6}$



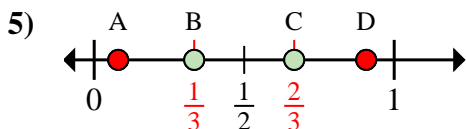
- a. Quelle lettre représente le mieux  $\frac{0}{4}$   
 b. Quelle lettre représente le mieux  $\frac{3}{4}$



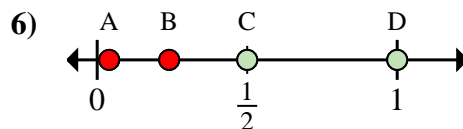
- a. Quelle lettre représente le mieux  $\frac{1}{8}$   
 b. Quelle lettre représente le mieux  $\frac{3}{8}$



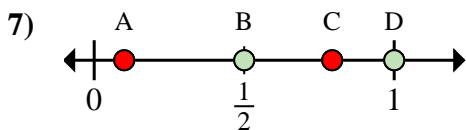
- a. Quelle lettre représente le mieux  $\frac{2}{2}$   
 b. Quelle lettre représente le mieux  $\frac{1}{2}$



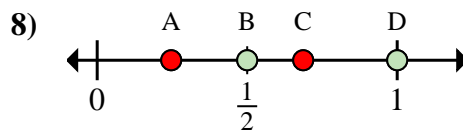
- a. Quelle lettre représente le mieux  $\frac{1}{3}$   
 b. Quelle lettre représente le mieux  $\frac{2}{3}$



- a. Quelle lettre représente le mieux  $\frac{2}{2}$   
 b. Quelle lettre représente le mieux  $\frac{1}{2}$



- a. Quelle lettre représente le mieux  $\frac{1}{2}$   
 b. Quelle lettre représente le mieux  $\frac{2}{2}$



- a. Quelle lettre représente le mieux  $\frac{1}{2}$   
 b. Quelle lettre représente le mieux  $\frac{2}{2}$

1. A B

2. A C

3. A B

4. D B

5. B C

6. D C

7. B D

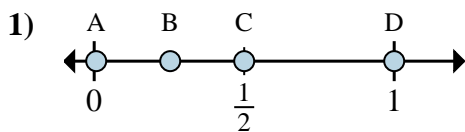
8. B D



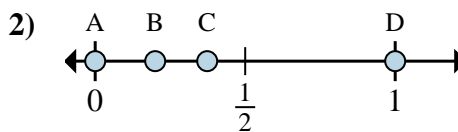


Déterminez quelle lettre représente la situation de la fraction sur la droite numérique.

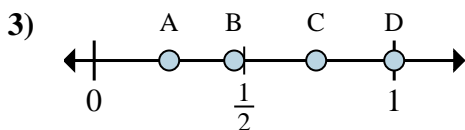
**Réponses**



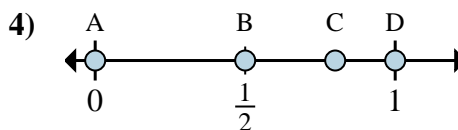
- a. Quelle lettre représente le mieux  $\frac{6}{6}$
- b. Quelle lettre représente le mieux  $\frac{3}{6}$



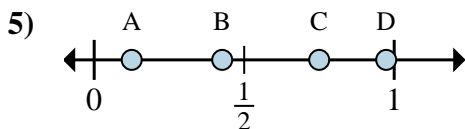
- a. Quelle lettre représente le mieux  $\frac{0}{2}$
- b. Quelle lettre représente le mieux  $\frac{2}{2}$



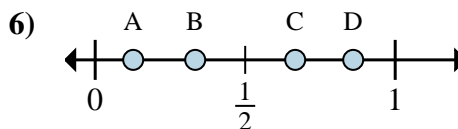
- a. Quelle lettre représente le mieux  $\frac{1}{4}$
- b. Quelle lettre représente le mieux  $\frac{4}{4}$



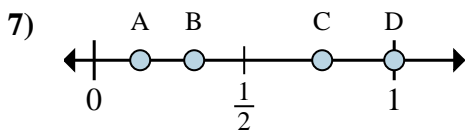
- a. Quelle lettre représente le mieux  $\frac{0}{3}$
- b. Quelle lettre représente le mieux  $\frac{3}{3}$



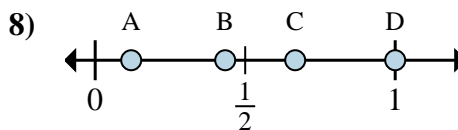
- a. Quelle lettre représente le mieux  $\frac{1}{8}$
- b. Quelle lettre représente le mieux  $\frac{6}{8}$



- a. Quelle lettre représente le mieux  $\frac{2}{3}$
- b. Quelle lettre représente le mieux  $\frac{1}{3}$



- a. Quelle lettre représente le mieux  $\frac{1}{3}$
- b. Quelle lettre représente le mieux  $\frac{3}{3}$



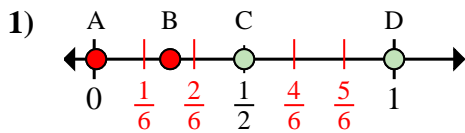
- a. Quelle lettre représente le mieux  $\frac{3}{3}$
- b. Quelle lettre représente le mieux  $\frac{2}{3}$

- 1. \_\_\_\_\_
- 2. \_\_\_\_\_
- 3. \_\_\_\_\_
- 4. \_\_\_\_\_
- 5. \_\_\_\_\_
- 6. \_\_\_\_\_
- 7. \_\_\_\_\_
- 8. \_\_\_\_\_

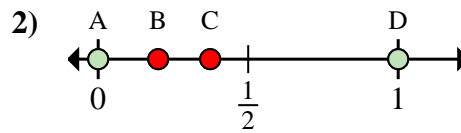


Déterminez quelle lettre représente la situation de la fraction sur la droite numérique.

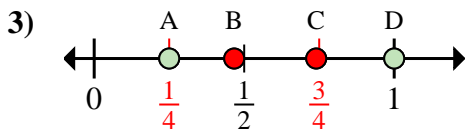
Réponses



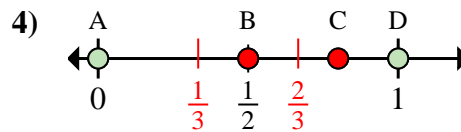
- a. Quelle lettre représente le mieux  $\frac{6}{6}$   
 b. Quelle lettre représente le mieux  $\frac{3}{6}$



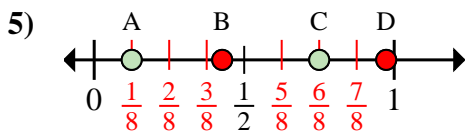
- a. Quelle lettre représente le mieux  $\frac{0}{2}$   
 b. Quelle lettre représente le mieux  $\frac{2}{2}$



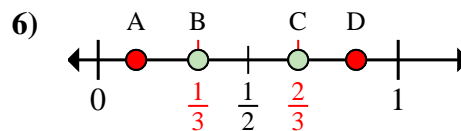
- a. Quelle lettre représente le mieux  $\frac{1}{4}$   
 b. Quelle lettre représente le mieux  $\frac{4}{4}$



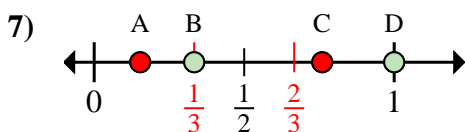
- a. Quelle lettre représente le mieux  $\frac{0}{3}$   
 b. Quelle lettre représente le mieux  $\frac{3}{3}$



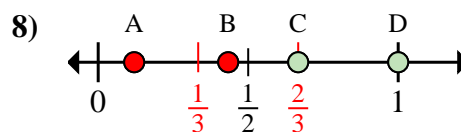
- a. Quelle lettre représente le mieux  $\frac{1}{8}$   
 b. Quelle lettre représente le mieux  $\frac{6}{8}$



- a. Quelle lettre représente le mieux  $\frac{2}{3}$   
 b. Quelle lettre représente le mieux  $\frac{1}{3}$



- a. Quelle lettre représente le mieux  $\frac{1}{3}$   
 b. Quelle lettre représente le mieux  $\frac{3}{3}$



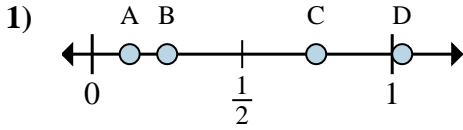
- a. Quelle lettre représente le mieux  $\frac{3}{3}$   
 b. Quelle lettre représente le mieux  $\frac{2}{3}$

1. D C  
 2. A D  
 3. A D  
 4. A D  
 5. A C  
 6. C B  
 7. B D  
 8. D C

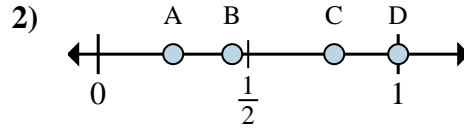


Déterminez quelle lettre représente la situation de la fraction sur la droite numérique.

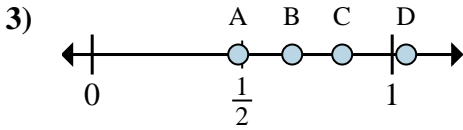
**Réponses**



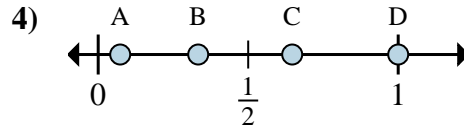
- a. Quelle lettre représente le mieux  $\frac{1}{8}$   
 b. Quelle lettre représente le mieux  $\frac{2}{8}$



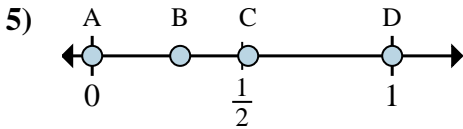
- a. Quelle lettre représente le mieux  $\frac{4}{4}$   
 b. Quelle lettre représente le mieux  $\frac{1}{4}$



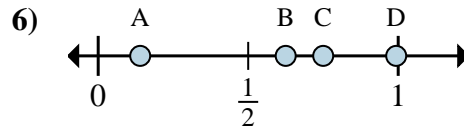
- a. Quelle lettre représente le mieux  $\frac{5}{6}$   
 b. Quelle lettre représente le mieux  $\frac{4}{6}$



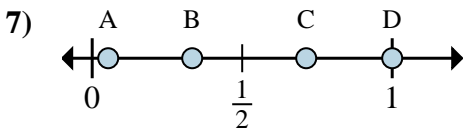
- a. Quelle lettre représente le mieux  $\frac{3}{3}$   
 b. Quelle lettre représente le mieux  $\frac{1}{3}$



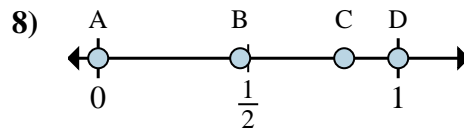
- a. Quelle lettre représente le mieux  $\frac{0}{2}$   
 b. Quelle lettre représente le mieux  $\frac{2}{2}$



- a. Quelle lettre représente le mieux  $\frac{6}{8}$   
 b. Quelle lettre représente le mieux  $\frac{5}{8}$



- a. Quelle lettre représente le mieux  $\frac{1}{3}$   
 b. Quelle lettre représente le mieux  $\frac{3}{3}$



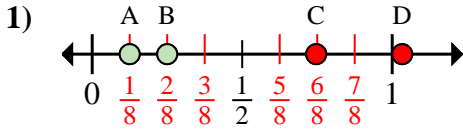
- a. Quelle lettre représente le mieux  $\frac{0}{2}$   
 b. Quelle lettre représente le mieux  $\frac{2}{2}$

1. \_\_\_\_\_  
 2. \_\_\_\_\_  
 3. \_\_\_\_\_  
 4. \_\_\_\_\_  
 5. \_\_\_\_\_  
 6. \_\_\_\_\_  
 7. \_\_\_\_\_  
 8. \_\_\_\_\_

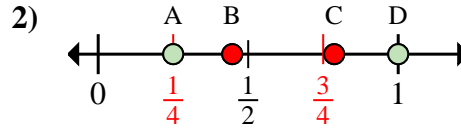


Déterminez quelle lettre représente la situation de la fraction sur la droite numérique.

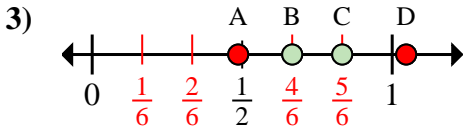
**Réponses**



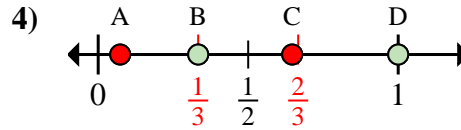
- a. Quelle lettre représente le mieux  $\frac{1}{8}$   
 b. Quelle lettre représente le mieux  $\frac{2}{8}$



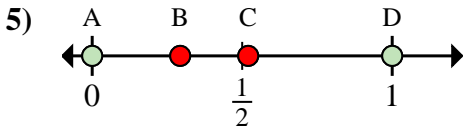
- a. Quelle lettre représente le mieux  $\frac{4}{4}$   
 b. Quelle lettre représente le mieux  $\frac{1}{4}$



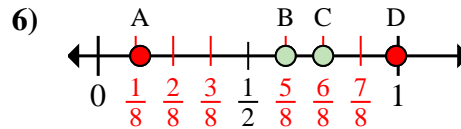
- a. Quelle lettre représente le mieux  $\frac{5}{6}$   
 b. Quelle lettre représente le mieux  $\frac{4}{6}$



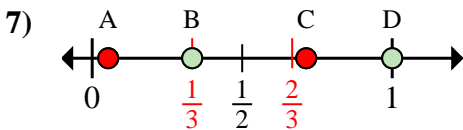
- a. Quelle lettre représente le mieux  $\frac{3}{3}$   
 b. Quelle lettre représente le mieux  $\frac{1}{3}$



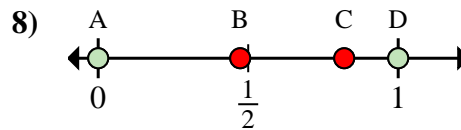
- a. Quelle lettre représente le mieux  $\frac{0}{2}$   
 b. Quelle lettre représente le mieux  $\frac{2}{2}$



- a. Quelle lettre représente le mieux  $\frac{6}{8}$   
 b. Quelle lettre représente le mieux  $\frac{5}{8}$



- a. Quelle lettre représente le mieux  $\frac{1}{3}$   
 b. Quelle lettre représente le mieux  $\frac{3}{3}$



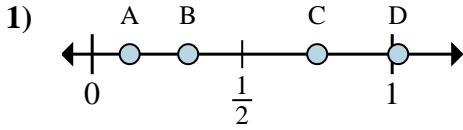
- a. Quelle lettre représente le mieux  $\frac{0}{2}$   
 b. Quelle lettre représente le mieux  $\frac{2}{2}$

1. A B  
 2. D A  
 3. C B  
 4. D B  
 5. A D  
 6. C B  
 7. B D  
 8. A D

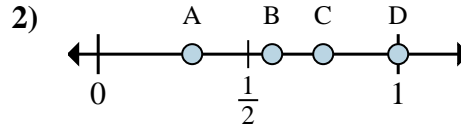


Déterminez quelle lettre représente la situation de la fraction sur la droite numérique.

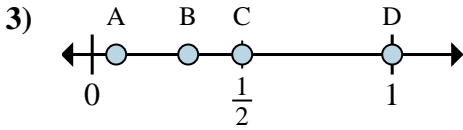
**Réponses**



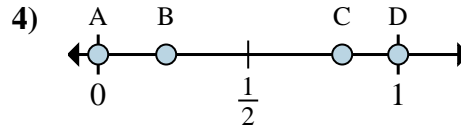
- a. Quelle lettre représente le mieux  $\frac{1}{8}$   
 b. Quelle lettre représente le mieux  $\frac{6}{8}$



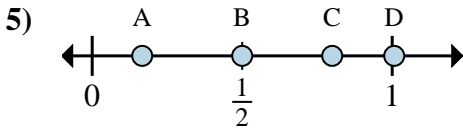
- a. Quelle lettre représente le mieux  $\frac{3}{4}$   
 b. Quelle lettre représente le mieux  $\frac{4}{4}$



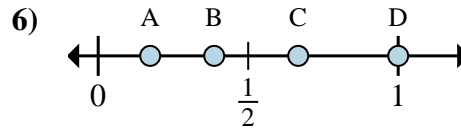
- a. Quelle lettre représente le mieux  $\frac{8}{8}$   
 b. Quelle lettre représente le mieux  $\frac{4}{8}$



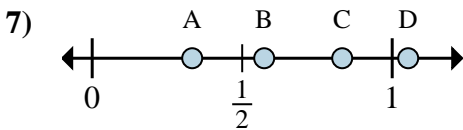
- a. Quelle lettre représente le mieux  $\frac{0}{2}$   
 b. Quelle lettre représente le mieux  $\frac{2}{2}$



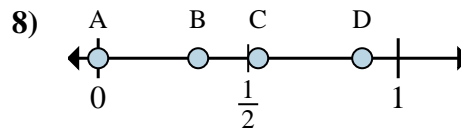
- a. Quelle lettre représente le mieux  $\frac{1}{6}$   
 b. Quelle lettre représente le mieux  $\frac{3}{6}$



- a. Quelle lettre représente le mieux  $\frac{2}{3}$   
 b. Quelle lettre représente le mieux  $\frac{3}{3}$



- a. Quelle lettre représente le mieux  $\frac{5}{6}$   
 b. Quelle lettre représente le mieux  $\frac{2}{6}$



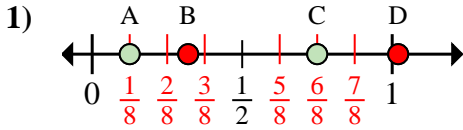
- a. Quelle lettre représente le mieux  $\frac{0}{3}$   
 b. Quelle lettre représente le mieux  $\frac{1}{3}$

1. \_\_\_\_\_  
 2. \_\_\_\_\_  
 3. \_\_\_\_\_  
 4. \_\_\_\_\_  
 5. \_\_\_\_\_  
 6. \_\_\_\_\_  
 7. \_\_\_\_\_  
 8. \_\_\_\_\_

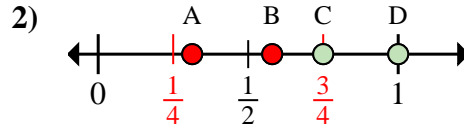


Déterminez quelle lettre représente la situation de la fraction sur la droite numérique.

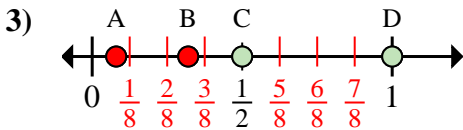
**Réponses**



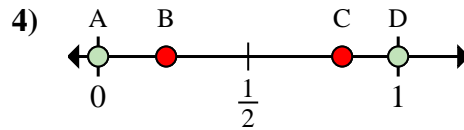
- a. Quelle lettre représente le mieux  $\frac{1}{8}$   
 b. Quelle lettre représente le mieux  $\frac{6}{8}$



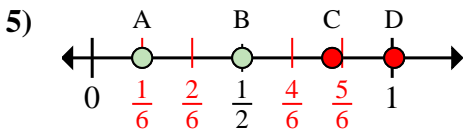
- a. Quelle lettre représente le mieux  $\frac{3}{4}$   
 b. Quelle lettre représente le mieux  $\frac{4}{4}$



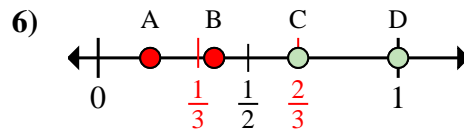
- a. Quelle lettre représente le mieux  $\frac{8}{8}$   
 b. Quelle lettre représente le mieux  $\frac{4}{8}$



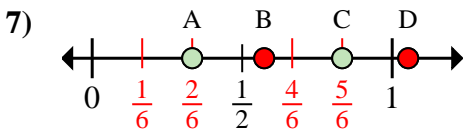
- a. Quelle lettre représente le mieux  $\frac{0}{2}$   
 b. Quelle lettre représente le mieux  $\frac{2}{2}$



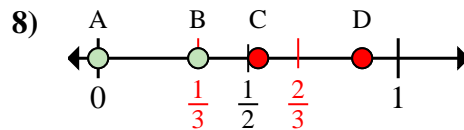
- a. Quelle lettre représente le mieux  $\frac{1}{6}$   
 b. Quelle lettre représente le mieux  $\frac{3}{6}$



- a. Quelle lettre représente le mieux  $\frac{2}{3}$   
 b. Quelle lettre représente le mieux  $\frac{3}{3}$



- a. Quelle lettre représente le mieux  $\frac{5}{6}$   
 b. Quelle lettre représente le mieux  $\frac{2}{6}$



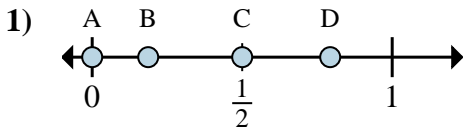
- a. Quelle lettre représente le mieux  $\frac{0}{3}$   
 b. Quelle lettre représente le mieux  $\frac{1}{3}$

1. A C  
 2. C D  
 3. D C  
 4. A D  
 5. A B  
 6. C D  
 7. C A  
 8. A B

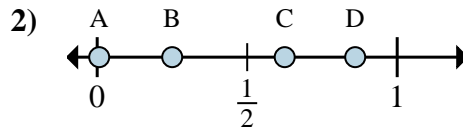


Déterminez quelle lettre représente la situation de la fraction sur la droite numérique.

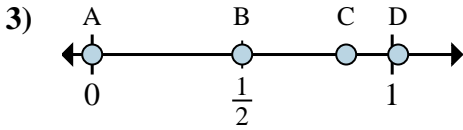
**Réponses**



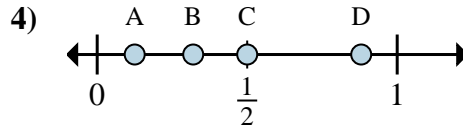
- a. Quelle lettre représente le mieux  $\frac{0}{2}$   
 b. Quelle lettre représente le mieux  $\frac{1}{2}$



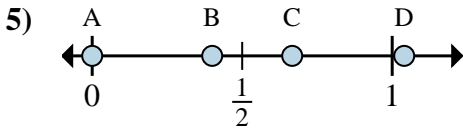
- a. Quelle lettre représente le mieux  $\frac{2}{8}$   
 b. Quelle lettre représente le mieux  $\frac{5}{8}$



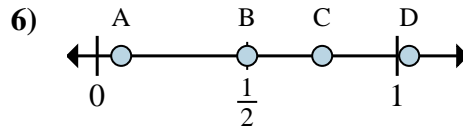
- a. Quelle lettre représente le mieux  $\frac{0}{6}$   
 b. Quelle lettre représente le mieux  $\frac{3}{6}$



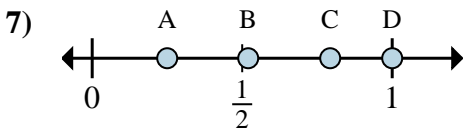
- a. Quelle lettre représente le mieux  $\frac{1}{8}$   
 b. Quelle lettre représente le mieux  $\frac{4}{8}$



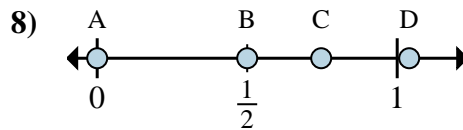
- a. Quelle lettre représente le mieux  $\frac{0}{3}$   
 b. Quelle lettre représente le mieux  $\frac{2}{3}$



- a. Quelle lettre représente le mieux  $\frac{2}{4}$   
 b. Quelle lettre représente le mieux  $\frac{3}{4}$



- a. Quelle lettre représente le mieux  $\frac{1}{4}$   
 b. Quelle lettre représente le mieux  $\frac{4}{4}$



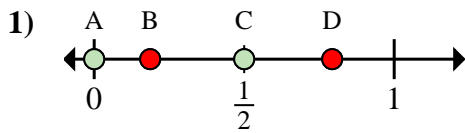
- a. Quelle lettre représente le mieux  $\frac{0}{2}$   
 b. Quelle lettre représente le mieux  $\frac{1}{2}$

1. \_\_\_\_\_  
 2. \_\_\_\_\_  
 3. \_\_\_\_\_  
 4. \_\_\_\_\_  
 5. \_\_\_\_\_  
 6. \_\_\_\_\_  
 7. \_\_\_\_\_  
 8. \_\_\_\_\_

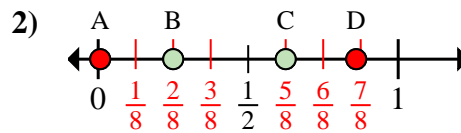


Déterminez quelle lettre représente la situation de la fraction sur la droite numérique.

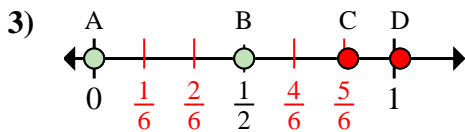
Réponses



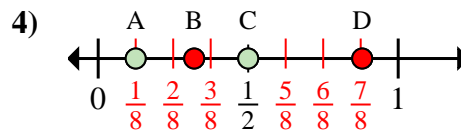
- a. Quelle lettre représente le mieux  $\frac{0}{2}$   
 b. Quelle lettre représente le mieux  $\frac{1}{2}$



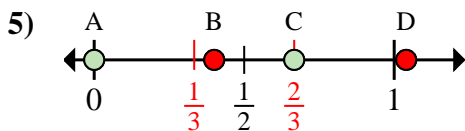
- a. Quelle lettre représente le mieux  $\frac{2}{8}$   
 b. Quelle lettre représente le mieux  $\frac{5}{8}$



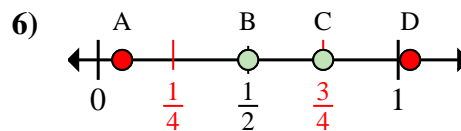
- a. Quelle lettre représente le mieux  $\frac{0}{6}$   
 b. Quelle lettre représente le mieux  $\frac{3}{6}$



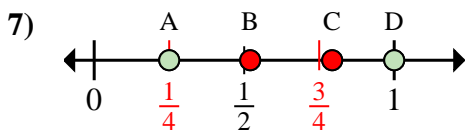
- a. Quelle lettre représente le mieux  $\frac{1}{8}$   
 b. Quelle lettre représente le mieux  $\frac{4}{8}$



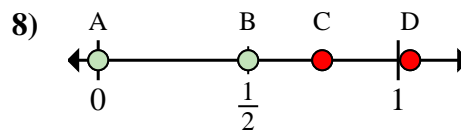
- a. Quelle lettre représente le mieux  $\frac{0}{3}$   
 b. Quelle lettre représente le mieux  $\frac{2}{3}$



- a. Quelle lettre représente le mieux  $\frac{2}{4}$   
 b. Quelle lettre représente le mieux  $\frac{3}{4}$



- a. Quelle lettre représente le mieux  $\frac{1}{4}$   
 b. Quelle lettre représente le mieux  $\frac{4}{4}$



- a. Quelle lettre représente le mieux  $\frac{0}{2}$   
 b. Quelle lettre représente le mieux  $\frac{1}{2}$

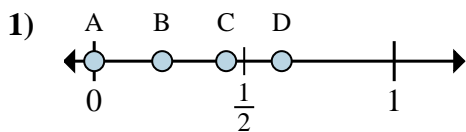
1. A C  
 2. B C  
 3. A B  
 4. A C  
 5. A C  
 6. B C  
 7. A D  
 8. A B



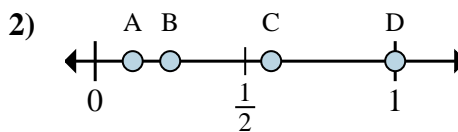


Déterminez quelle lettre représente la situation de la fraction sur la droite numérique.

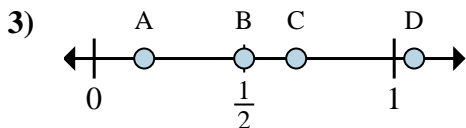
**Réponses**



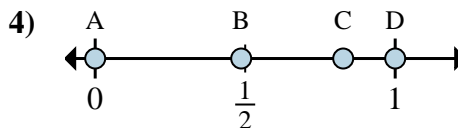
- a. Quelle lettre représente le mieux  $\frac{0}{8}$
- b. Quelle lettre représente le mieux  $\frac{5}{8}$



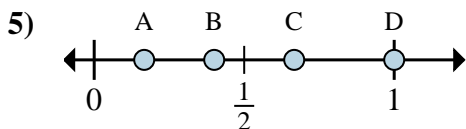
- a. Quelle lettre représente le mieux  $\frac{1}{8}$
- b. Quelle lettre représente le mieux  $\frac{2}{8}$



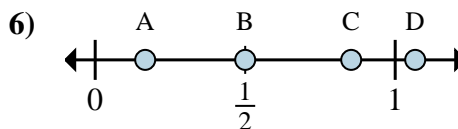
- a. Quelle lettre représente le mieux  $\frac{1}{6}$
- b. Quelle lettre représente le mieux  $\frac{3}{6}$



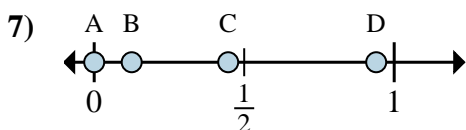
- a. Quelle lettre représente le mieux  $\frac{0}{2}$
- b. Quelle lettre représente le mieux  $\frac{2}{2}$



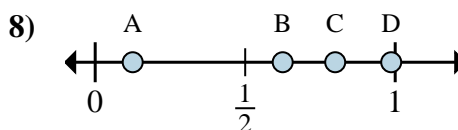
- a. Quelle lettre représente le mieux  $\frac{3}{3}$
- b. Quelle lettre représente le mieux  $\frac{2}{3}$



- a. Quelle lettre représente le mieux  $\frac{3}{6}$
- b. Quelle lettre représente le mieux  $\frac{1}{6}$



- a. Quelle lettre représente le mieux  $\frac{0}{8}$
- b. Quelle lettre représente le mieux  $\frac{1}{8}$



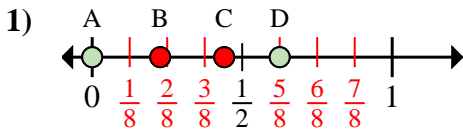
- a. Quelle lettre représente le mieux  $\frac{5}{8}$
- b. Quelle lettre représente le mieux  $\frac{1}{8}$

- 1. \_\_\_\_\_
- 2. \_\_\_\_\_
- 3. \_\_\_\_\_
- 4. \_\_\_\_\_
- 5. \_\_\_\_\_
- 6. \_\_\_\_\_
- 7. \_\_\_\_\_
- 8. \_\_\_\_\_

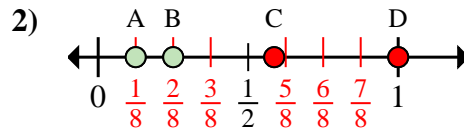


Déterminez quelle lettre représente la situation de la fraction sur la droite numérique.

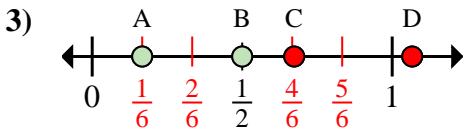
Réponses



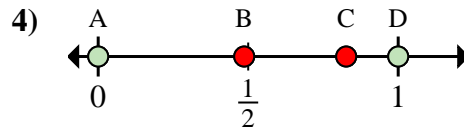
- a. Quelle lettre représente le mieux  $\frac{0}{8}$   
 b. Quelle lettre représente le mieux  $\frac{5}{8}$



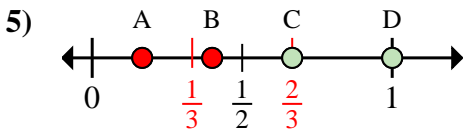
- a. Quelle lettre représente le mieux  $\frac{1}{8}$   
 b. Quelle lettre représente le mieux  $\frac{2}{8}$



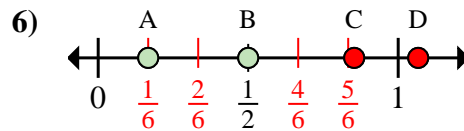
- a. Quelle lettre représente le mieux  $\frac{1}{6}$   
 b. Quelle lettre représente le mieux  $\frac{3}{6}$



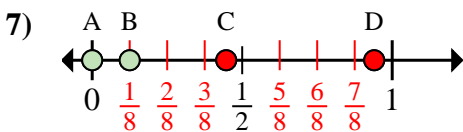
- a. Quelle lettre représente le mieux  $\frac{0}{2}$   
 b. Quelle lettre représente le mieux  $\frac{2}{2}$



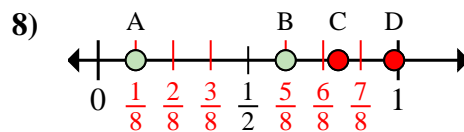
- a. Quelle lettre représente le mieux  $\frac{3}{3}$   
 b. Quelle lettre représente le mieux  $\frac{2}{3}$



- a. Quelle lettre représente le mieux  $\frac{3}{6}$   
 b. Quelle lettre représente le mieux  $\frac{1}{6}$



- a. Quelle lettre représente le mieux  $\frac{0}{8}$   
 b. Quelle lettre représente le mieux  $\frac{1}{8}$



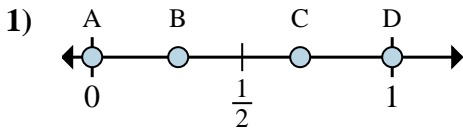
- a. Quelle lettre représente le mieux  $\frac{5}{8}$   
 b. Quelle lettre représente le mieux  $\frac{1}{8}$

1. A D  
 2. A B  
 3. A B  
 4. A D  
 5. D C  
 6. B A  
 7. A B  
 8. B A

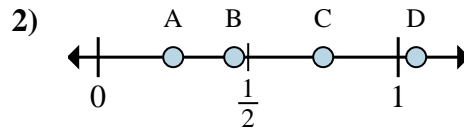


Déterminez quelle lettre représente la situation de la fraction sur la droite numérique.

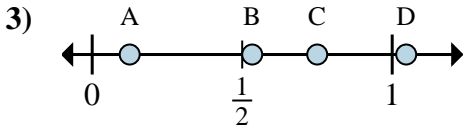
**Réponses**



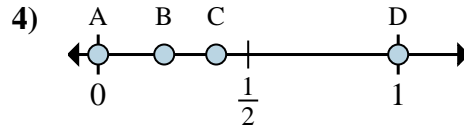
- a. Quelle lettre représente le mieux  $\frac{0}{2}$   
 b. Quelle lettre représente le mieux  $\frac{2}{2}$



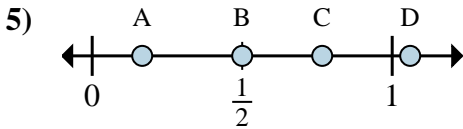
- a. Quelle lettre représente le mieux  $\frac{1}{4}$   
 b. Quelle lettre représente le mieux  $\frac{3}{4}$



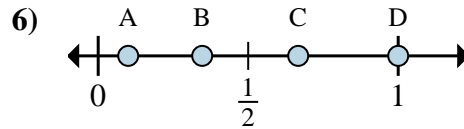
- a. Quelle lettre représente le mieux  $\frac{6}{8}$   
 b. Quelle lettre représente le mieux  $\frac{1}{8}$



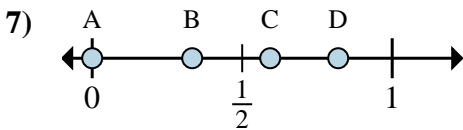
- a. Quelle lettre représente le mieux  $\frac{0}{2}$   
 b. Quelle lettre représente le mieux  $\frac{2}{2}$



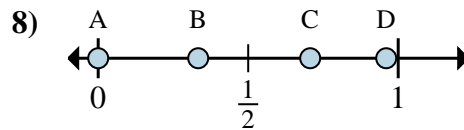
- a. Quelle lettre représente le mieux  $\frac{3}{6}$   
 b. Quelle lettre représente le mieux  $\frac{1}{6}$



- a. Quelle lettre représente le mieux  $\frac{2}{3}$   
 b. Quelle lettre représente le mieux  $\frac{3}{3}$



- a. Quelle lettre représente le mieux  $\frac{0}{3}$   
 b. Quelle lettre représente le mieux  $\frac{1}{3}$



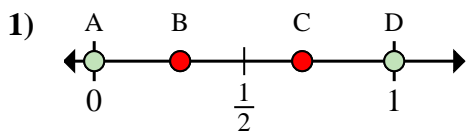
- a. Quelle lettre représente le mieux  $\frac{0}{6}$   
 b. Quelle lettre représente le mieux  $\frac{2}{6}$

1. \_\_\_\_\_  
 2. \_\_\_\_\_  
 3. \_\_\_\_\_  
 4. \_\_\_\_\_  
 5. \_\_\_\_\_  
 6. \_\_\_\_\_  
 7. \_\_\_\_\_  
 8. \_\_\_\_\_

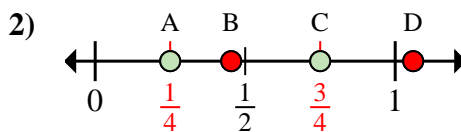


Déterminez quelle lettre représente la situation de la fraction sur la droite numérique.

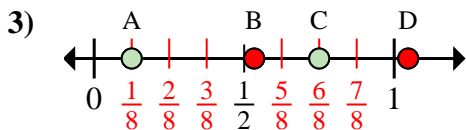
**Réponses**



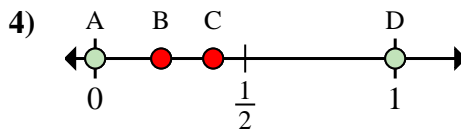
- a. Quelle lettre représente le mieux  $\frac{0}{2}$   
 b. Quelle lettre représente le mieux  $\frac{2}{2}$



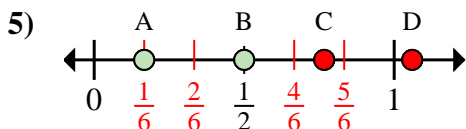
- a. Quelle lettre représente le mieux  $\frac{1}{4}$   
 b. Quelle lettre représente le mieux  $\frac{3}{4}$



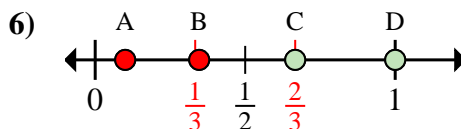
- a. Quelle lettre représente le mieux  $\frac{6}{8}$   
 b. Quelle lettre représente le mieux  $\frac{1}{8}$



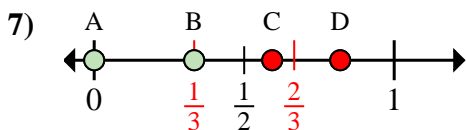
- a. Quelle lettre représente le mieux  $\frac{0}{2}$   
 b. Quelle lettre représente le mieux  $\frac{2}{2}$



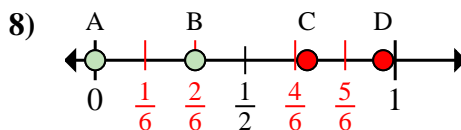
- a. Quelle lettre représente le mieux  $\frac{3}{6}$   
 b. Quelle lettre représente le mieux  $\frac{1}{6}$



- a. Quelle lettre représente le mieux  $\frac{2}{3}$   
 b. Quelle lettre représente le mieux  $\frac{3}{3}$



- a. Quelle lettre représente le mieux  $\frac{0}{3}$   
 b. Quelle lettre représente le mieux  $\frac{1}{3}$



- a. Quelle lettre représente le mieux  $\frac{0}{6}$   
 b. Quelle lettre représente le mieux  $\frac{2}{6}$

1. **A D**

2. **A C**

3. **C A**

4. **A D**

5. **B A**

6. **C D**

7. **A B**

8. **A B**