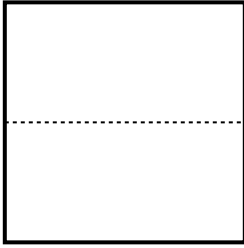





**Partitionnez chaque cercle et indiquez leur valeur.**

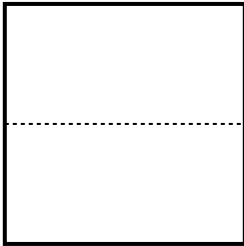
**Ex)** *Partitionnez la figure en 4 quartiers égaux et indiquez leur valeur en fraction.*




**2)** *Partitionnez la figure en 2 quartiers égaux et indiquez leur valeur en fraction.*




**4)** *Partitionnez la figure en 8 quartiers égaux et indiquez leur valeur en fraction.*




**6)** *Partitionnez la figure en 6 quartiers égaux et indiquez leur valeur en fraction.*



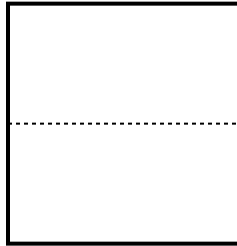
**8)** *Partitionnez la figure en 8 quartiers égaux et indiquez leur valeur en fraction.*




**1)** *Partitionnez la figure en 3 quartiers égaux et indiquez leur valeur en fraction.*




**3)** *Partitionnez la figure en 6 quartiers égaux et indiquez leur valeur en fraction.*



**5)** *Partitionnez la figure en 3 quartiers égaux et indiquez leur valeur en fraction.*



**7)** *Partitionnez la figure en 4 quartiers égaux et indiquez leur valeur en fraction.*



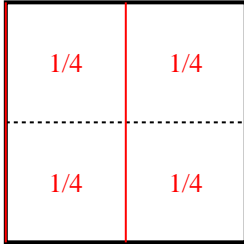
**9)** *Partitionnez la figure en 2 quartiers égaux et indiquez leur valeur en fraction.*






**Partitionnez chaque cercle et indiquez leur valeur.**

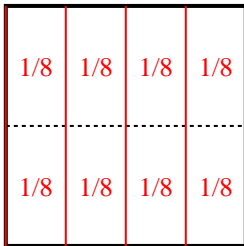
**Ex)** *Partitionnez la figure en 4 quartiers égaux et indiquez leur valeur en fraction.*



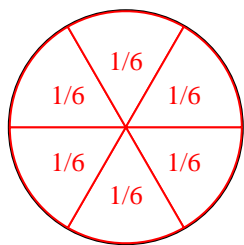
**2)** *Partitionnez la figure en 2 quartiers égaux et indiquez leur valeur en fraction.*



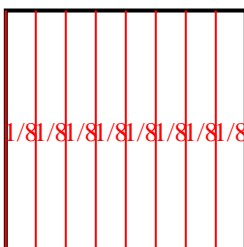
**4)** *Partitionnez la figure en 8 quartiers égaux et indiquez leur valeur en fraction.*



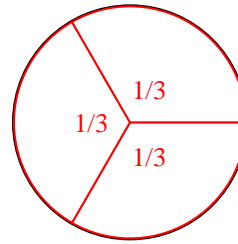
**6)** *Partitionnez la figure en 6 quartiers égaux et indiquez leur valeur en fraction.*



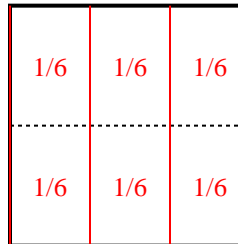
**8)** *Partitionnez la figure en 8 quartiers égaux et indiquez leur valeur en fraction.*




**1)** *Partitionnez la figure en 3 quartiers égaux et indiquez leur valeur en fraction.*



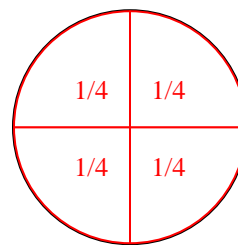
**3)** *Partitionnez la figure en 6 quartiers égaux et indiquez leur valeur en fraction.*



**5)** *Partitionnez la figure en 3 quartiers égaux et indiquez leur valeur en fraction.*



**7)** *Partitionnez la figure en 4 quartiers égaux et indiquez leur valeur en fraction.*



**9)** *Partitionnez la figure en 2 quartiers égaux et indiquez leur valeur en fraction.*

