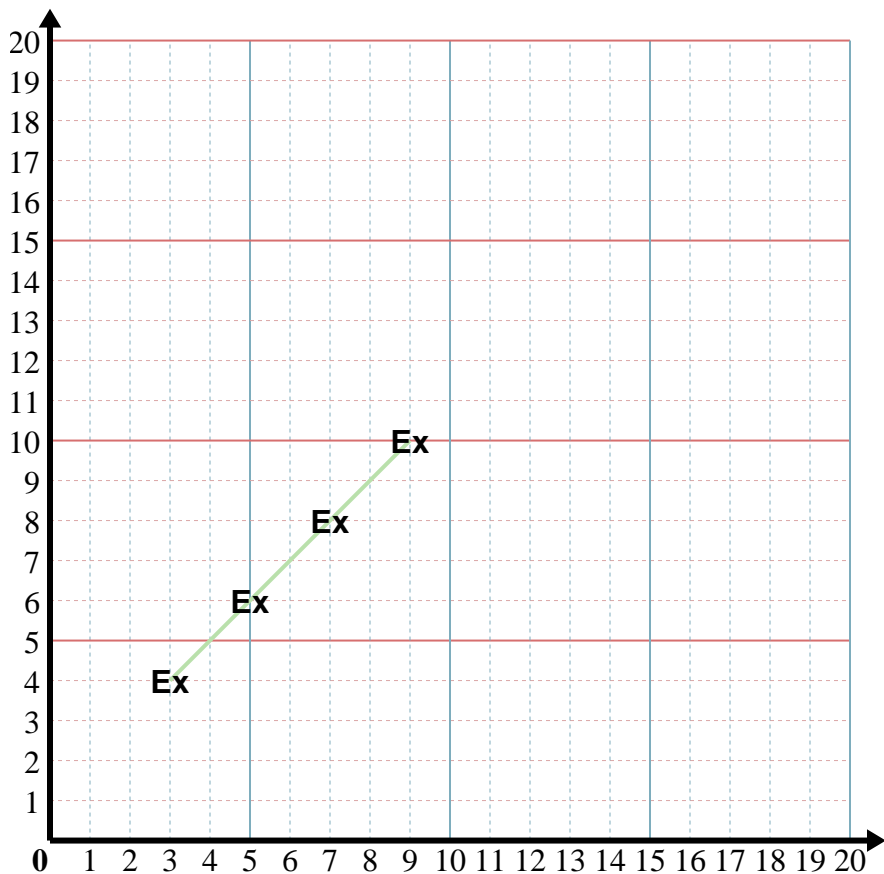




Dans le graphique ci-dessous reliez les points.



Réponses

Ex. (9 10)

1. _____

2. _____

3. _____

4. _____

5. _____

Ex) X: Démarrez à 3 et ajouter 2.
 Y: Démarrez à 4 et ajouter 2.
 x: 3 5 7 9
 y: 4 6 8 10

1) X: Démarrez à 7 et ajouter 2.
 Y: Démarrez à 19 et soustraire 3.
 x: _____
 y: _____

2) X: Démarrez à 8 et ajouter 1.
 Y: Démarrez à 7 et soustraire 2.
 x: _____
 y: _____

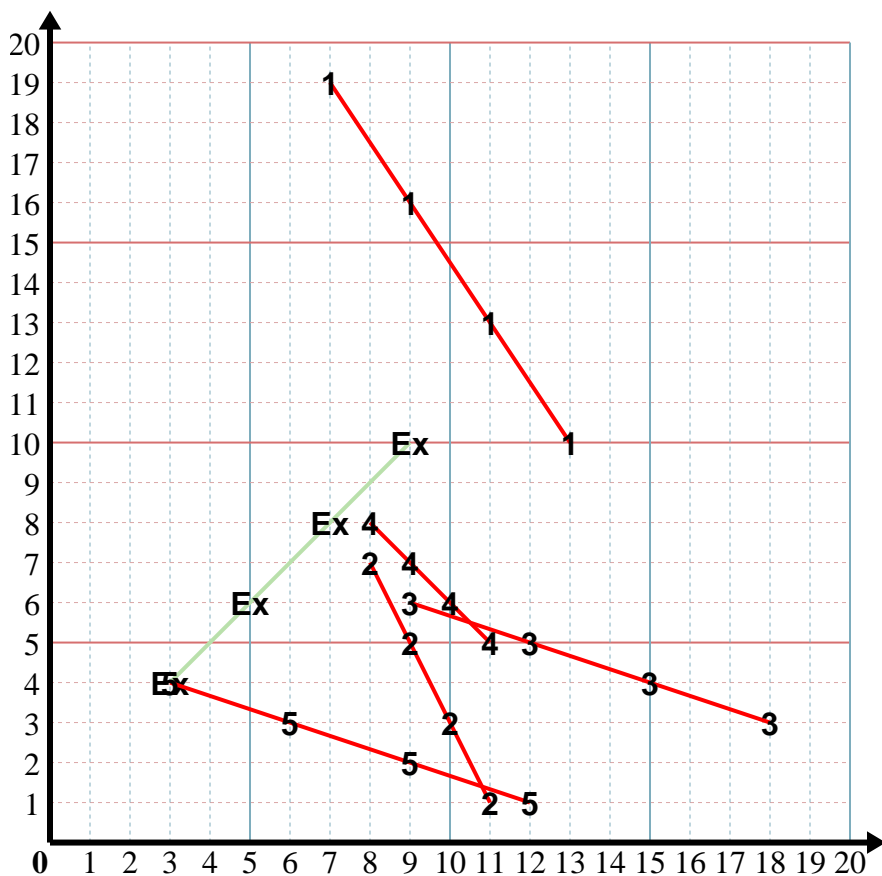
3) X: Démarrez à 9 et ajouter 3.
 Y: Démarrez à 6 et soustraire 1.
 x: _____
 y: _____

4) X: Démarrez à 8 et ajouter 1.
 Y: Démarrez à 8 et soustraire 1.
 x: _____
 y: _____

5) X: Démarrez à 12 et soustraire 3.
 Y: Démarrez à 1 et ajouter 1.
 x: _____
 y: _____



Dans le graphique ci-dessous reliez les points.



Réponses

Ex. (9 10)

1. (13 10)

2. (11 1)

3. (18 3)

4. (11 5)

5. (3 4)

Ex) X: Démarrez à 3 et ajouter 2.
 Y: Démarrez à 4 et ajouter 2.
 x: 3 5 7 9
 y: 4 6 8 10

1) X: Démarrez à 7 et ajouter 2.
 Y: Démarrez à 19 et soustraire 3.
 x: 7 9 11 13
 y: 19 16 13 10

2) X: Démarrez à 8 et ajouter 1.
 Y: Démarrez à 7 et soustraire 2.
 x: 8 9 10 11
 y: 7 5 3 1

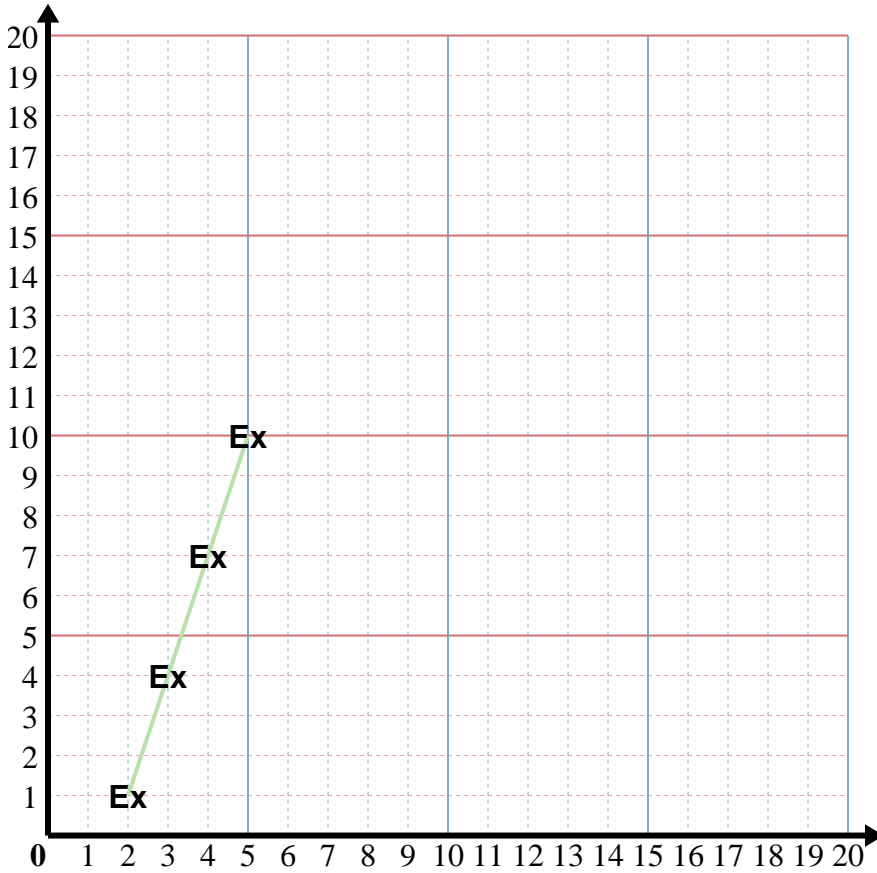
3) X: Démarrez à 9 et ajouter 3.
 Y: Démarrez à 6 et soustraire 1.
 x: 9 12 15 18
 y: 6 5 4 3

4) X: Démarrez à 8 et ajouter 1.
 Y: Démarrez à 8 et soustraire 1.
 x: 8 9 10 11
 y: 8 7 6 5

5) X: Démarrez à 12 et soustraire 3.
 Y: Démarrez à 1 et ajouter 1.
 x: 12 9 6 3
 y: 1 2 3 4



Dans le graphique ci-dessous reliez les points.



Réponses

Ex. (5 10)

1. _____

2. _____

3. _____

4. _____

5. _____

Ex) X: Démarrez à 2 et ajouter 1.
 Y: Démarrez à 1 et ajouter 3.
 x: 2 3 4 5
 y: 1 4 7 10

1) X: Démarrez à 6 et ajouter 1.
 Y: Démarrez à 13 et soustraire 1.
 x: _____
 y: _____

2) X: Démarrez à 4 et ajouter 1.
 Y: Démarrez à 11 et soustraire 1.
 x: _____
 y: _____

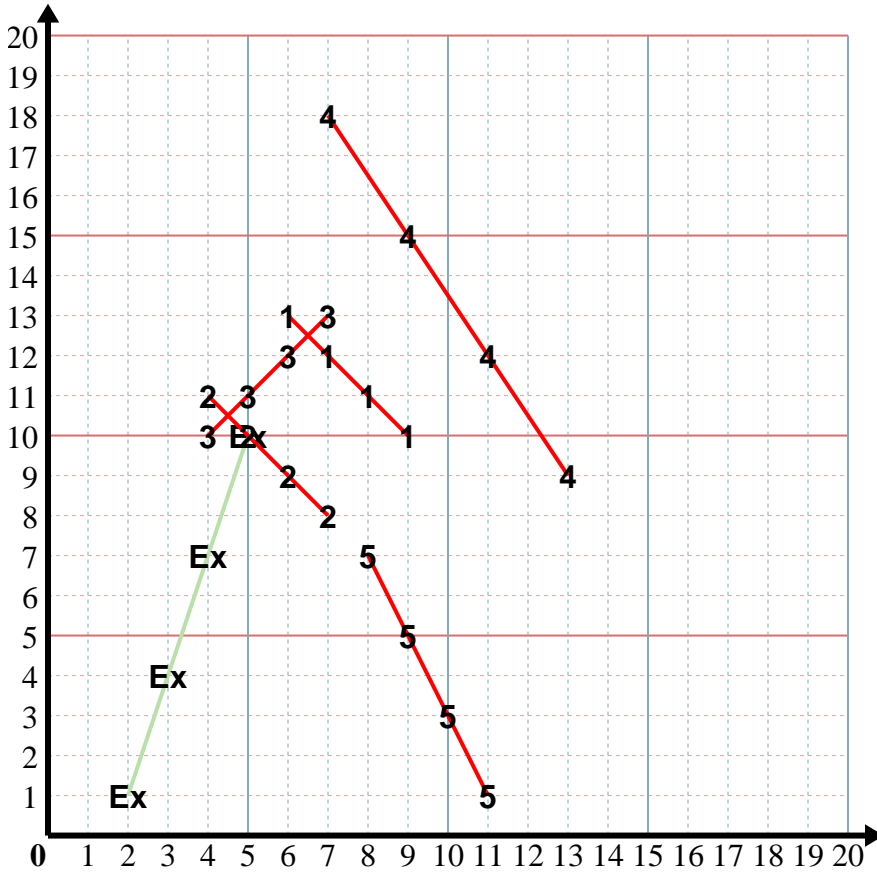
3) X: Démarrez à 4 et ajouter 1.
 Y: Démarrez à 10 et ajouter 1.
 x: _____
 y: _____

4) X: Démarrez à 13 et soustraire 2.
 Y: Démarrez à 9 et ajouter 3.
 x: _____
 y: _____

5) X: Démarrez à 11 et soustraire 1.
 Y: Démarrez à 1 et ajouter 2.
 x: _____
 y: _____



Dans le graphique ci-dessous reliez les points.

**Réponses**Ex. (5 10)1. (9 10)2. (7 8)3. (7 13)4. (7 18)5. (8 7)

Ex) X: Démarrez à 2 et ajouter 1.

Y: Démarrez à 1 et ajouter 3.

x: 2 3 4 5y: 1 4 7 10

1) X: Démarrez à 6 et ajouter 1.

Y: Démarrez à 13 et soustraire 1.

x: 6 7 8 9y: 13 12 11 10

2) X: Démarrez à 4 et ajouter 1.

Y: Démarrez à 11 et soustraire 1.

x: 4 5 6 7y: 11 10 9 8

3) X: Démarrez à 4 et ajouter 1.

Y: Démarrez à 10 et ajouter 1.

x: 4 5 6 7y: 10 11 12 13

4) X: Démarrez à 13 et soustraire 2.

Y: Démarrez à 9 et ajouter 3.

x: 13 11 9 7y: 9 12 15 18

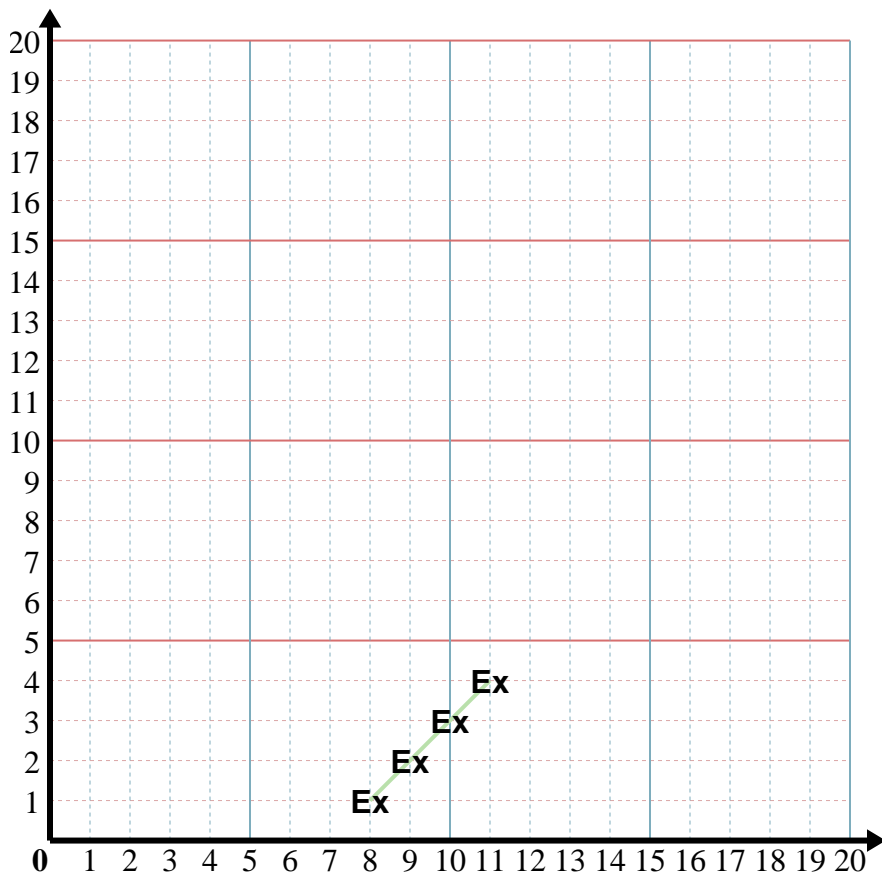
5) X: Démarrez à 11 et soustraire 1.

Y: Démarrez à 1 et ajouter 2.

x: 11 10 9 8y: 1 3 5 7



Dans le graphique ci-dessous reliez les points.



Réponses

Ex. (8 1)

1. _____

2. _____

3. _____

4. _____

5. _____

Ex) X: Démarrez à 11 et soustraire 1.
 Y: Démarrez à 4 et soustraire 1.
 x: 11 10 9 8
 y: 4 3 2 1

1) X: Démarrez à 3 et ajouter 3.
 Y: Démarrez à 12 et soustraire 3.
 x: _____
 y: _____

2) X: Démarrez à 13 et soustraire 3.
 Y: Démarrez à 4 et ajouter 2.
 x: _____
 y: _____

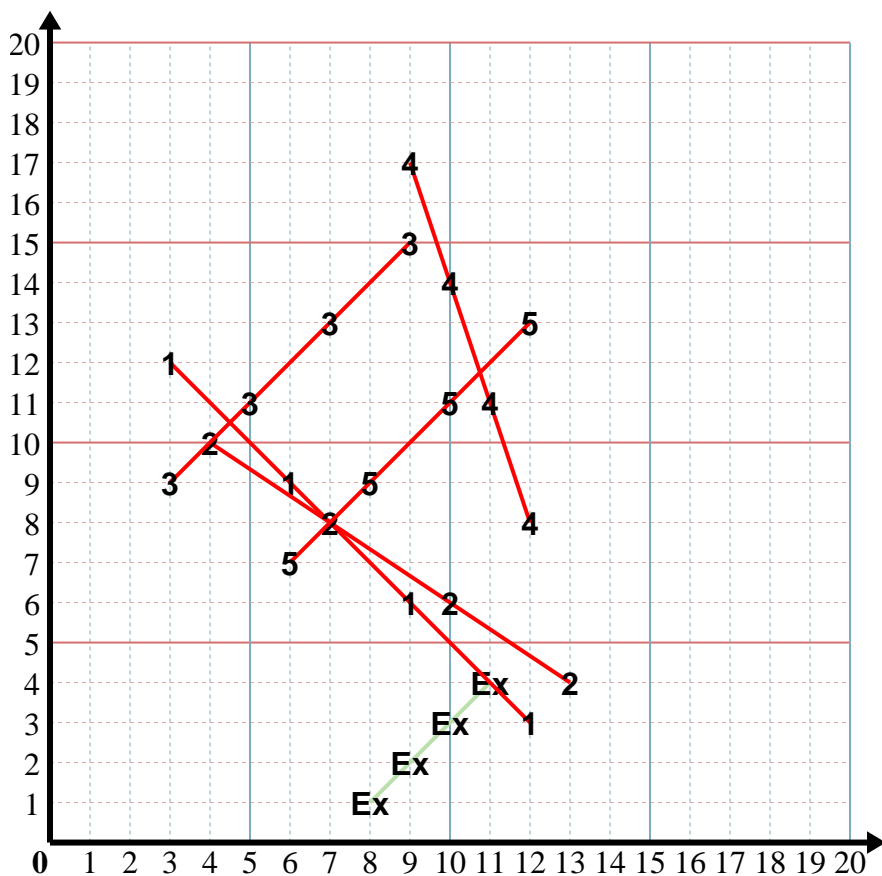
3) X: Démarrez à 3 et ajouter 2.
 Y: Démarrez à 9 et ajouter 2.
 x: _____
 y: _____

4) X: Démarrez à 12 et soustraire 1.
 Y: Démarrez à 8 et ajouter 3.
 x: _____
 y: _____

5) X: Démarrez à 12 et soustraire 2.
 Y: Démarrez à 13 et soustraire 2.
 x: _____
 y: _____



Dans le graphique ci-dessous reliez les points.

**Réponses**Ex. (8 1)1. (12 3)2. (4 10)3. (9 15)4. (9 17)5. (6 7)

Ex) X: Démarrez à 11 et soustraire 1.

Y: Démarrez à 4 et soustraire 1.

x: $\frac{11}{4}$ $\frac{10}{3}$ $\frac{9}{2}$ $\frac{8}{1}$

y: $\frac{4}{4}$ $\frac{3}{3}$ $\frac{2}{2}$ $\frac{1}{1}$

1) X: Démarrez à 3 et ajouter 3.

Y: Démarrez à 12 et soustraire 3.

x: $\frac{3}{12}$ $\frac{6}{9}$ $\frac{9}{6}$ $\frac{12}{3}$

y: $\frac{12}{9}$ $\frac{9}{11}$ $\frac{6}{13}$ $\frac{3}{15}$

2) X: Démarrez à 13 et soustraire 3.

Y: Démarrez à 4 et ajouter 2.

x: $\frac{13}{4}$ $\frac{10}{6}$ $\frac{7}{8}$ $\frac{4}{10}$

y: $\frac{4}{4}$ $\frac{6}{6}$ $\frac{8}{8}$ $\frac{10}{10}$

3) X: Démarrez à 3 et ajouter 2.

Y: Démarrez à 9 et ajouter 2.

x: $\frac{3}{9}$ $\frac{5}{11}$ $\frac{7}{13}$ $\frac{9}{15}$

y: $\frac{9}{9}$ $\frac{11}{11}$ $\frac{13}{13}$ $\frac{15}{15}$

4) X: Démarrez à 12 et soustraire 1.

Y: Démarrez à 8 et ajouter 3.

x: $\frac{12}{8}$ $\frac{11}{11}$ $\frac{10}{14}$ $\frac{9}{17}$

y: $\frac{8}{8}$ $\frac{11}{11}$ $\frac{14}{14}$ $\frac{17}{17}$

5) X: Démarrez à 12 et soustraire 2.

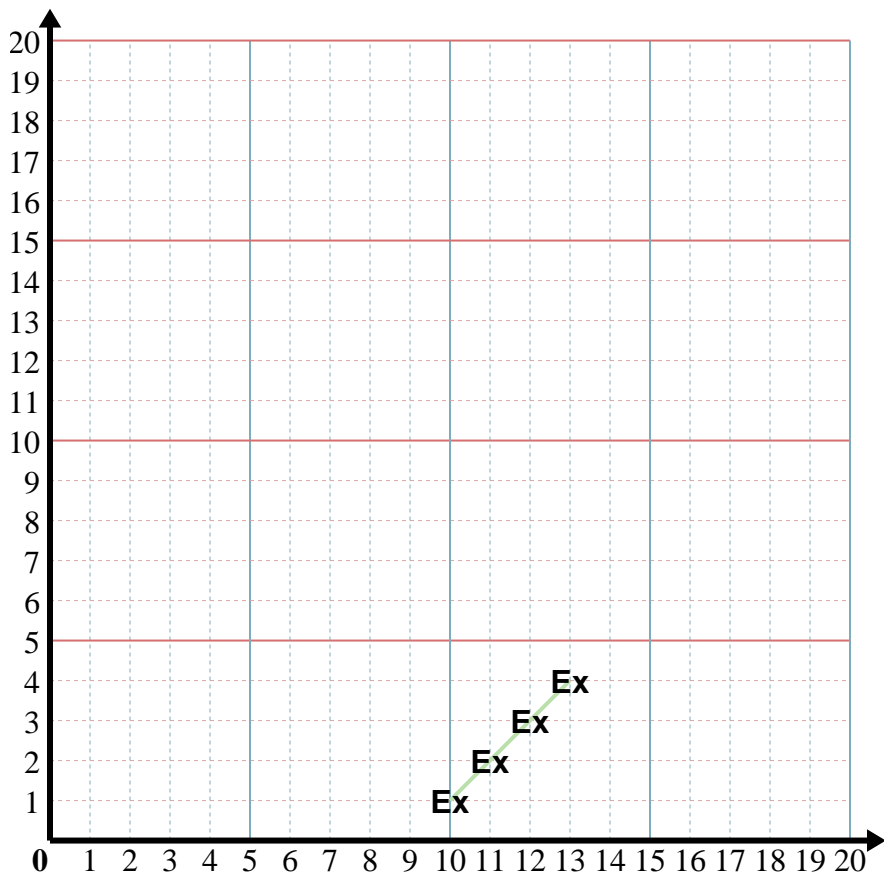
Y: Démarrez à 13 et soustraire 2.

x: $\frac{12}{13}$ $\frac{10}{11}$ $\frac{8}{9}$ $\frac{6}{7}$

y: $\frac{13}{13}$ $\frac{11}{11}$ $\frac{9}{9}$ $\frac{7}{7}$



Dans le graphique ci-dessous reliez les points.



Réponses

Ex. (10 1)

1. _____

2. _____

3. _____

4. _____

5. _____

Ex) X: Démarrez à 13 et soustraire 1.
 Y: Démarrez à 4 et soustraire 1.
 x: 13 12 11 10
 y: 4 3 2 1

1) X: Démarrez à 7 et ajouter 2.
 Y: Démarrez à 19 et soustraire 3.
 x: _____
 y: _____

2) X: Démarrez à 5 et ajouter 1.
 Y: Démarrez à 1 et ajouter 2.
 x: _____
 y: _____

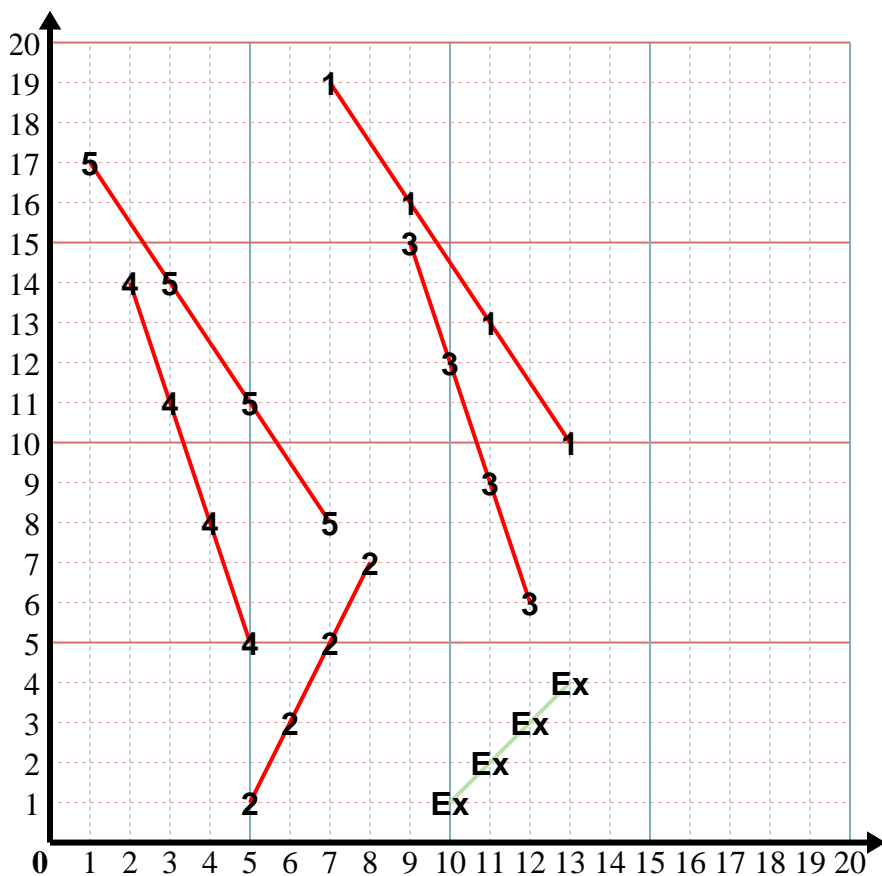
3) X: Démarrez à 12 et soustraire 1.
 Y: Démarrez à 6 et ajouter 3.
 x: _____
 y: _____

4) X: Démarrez à 5 et soustraire 1.
 Y: Démarrez à 5 et ajouter 3.
 x: _____
 y: _____

5) X: Démarrez à 7 et soustraire 2.
 Y: Démarrez à 8 et ajouter 3.
 x: _____
 y: _____



Dans le graphique ci-dessous reliez les points.

**Réponses**Ex. (10 1)1. (13 10)2. (8 7)3. (9 15)4. (2 14)5. (1 17)

Ex) X: Démarrez à 13 et soustraire 1.

Y: Démarrez à 4 et soustraire 1.

x: 13 12 11 10y: 4 3 2 1

1) X: Démarrez à 7 et ajouter 2.

Y: Démarrez à 19 et soustraire 3.

x: 7 9 11 13y: 19 16 13 10

2) X: Démarrez à 5 et ajouter 1.

Y: Démarrez à 1 et ajouter 2.

x: 5 6 7 8y: 1 3 5 7

3) X: Démarrez à 12 et soustraire 1.

Y: Démarrez à 6 et ajouter 3.

x: 12 11 10 9y: 6 9 12 15

4) X: Démarrez à 5 et soustraire 1.

Y: Démarrez à 5 et ajouter 3.

x: 5 4 3 2y: 5 8 11 14

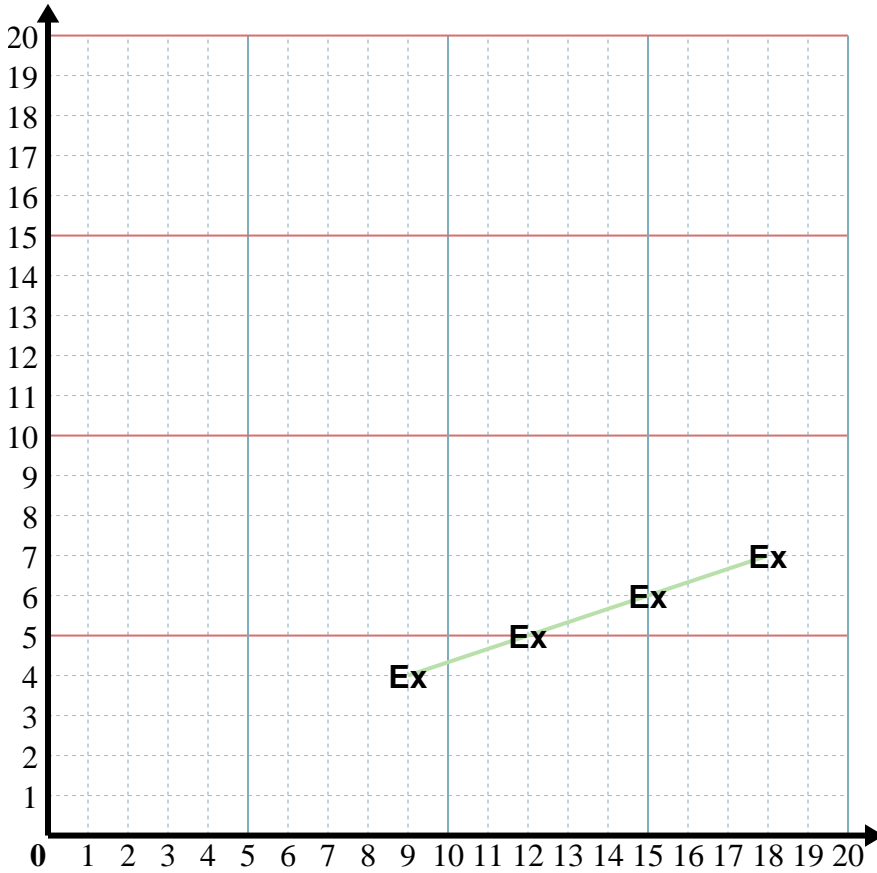
5) X: Démarrez à 7 et soustraire 2.

Y: Démarrez à 8 et ajouter 3.

x: 7 5 3 1y: 8 11 14 17



Dans le graphique ci-dessous reliez les points.



Réponses

Ex. (18 7)

1. _____

2. _____

3. _____

4. _____

5. _____

Ex) X: Démarrez à 9 et ajouter 3.
 Y: Démarrez à 4 et ajouter 1.
 x: 9 12 15 18
 y: 4 5 6 7

1) X: Démarrez à 15 et soustraire 3.
 Y: Démarrez à 10 et soustraire 3.
 x: _____
 y: _____

2) X: Démarrez à 2 et ajouter 3.
 Y: Démarrez à 14 et soustraire 2.
 x: _____
 y: _____

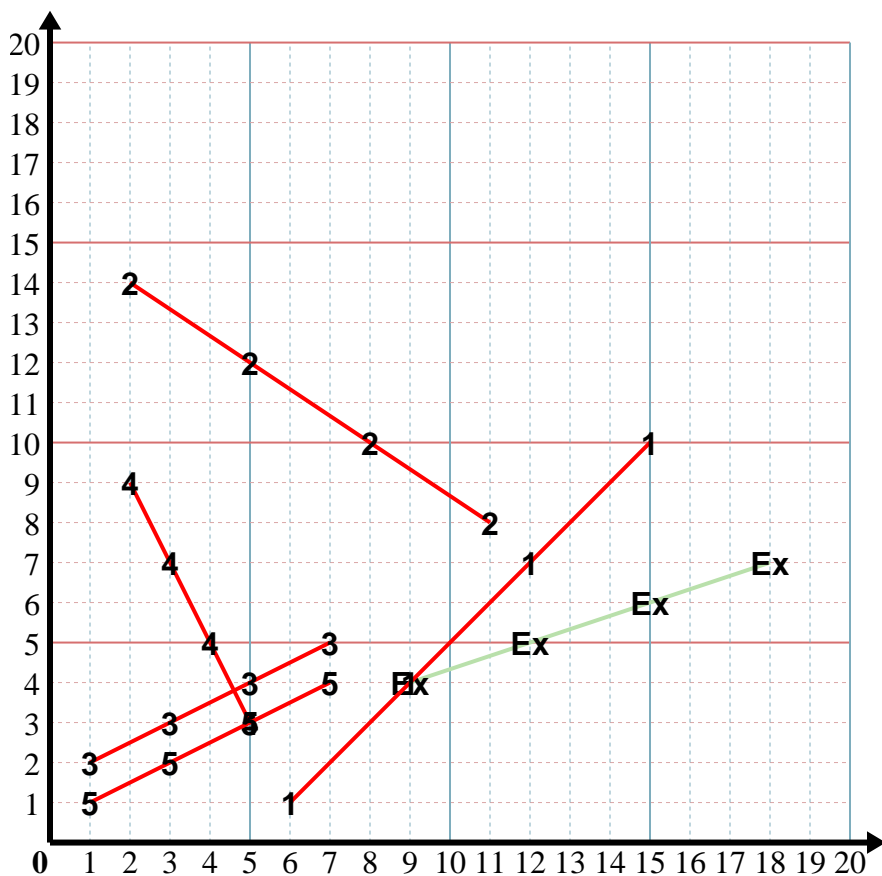
3) X: Démarrez à 1 et ajouter 2.
 Y: Démarrez à 2 et ajouter 1.
 x: _____
 y: _____

4) X: Démarrez à 2 et ajouter 1.
 Y: Démarrez à 9 et soustraire 2.
 x: _____
 y: _____

5) X: Démarrez à 1 et ajouter 2.
 Y: Démarrez à 1 et ajouter 1.
 x: _____
 y: _____



Dans le graphique ci-dessous reliez les points.

**Réponses**Ex. (187)1. (61)2. (118)3. (75)4. (53)5. (74)

Ex) X: Démarrez à 9 et ajouter 3.

Y: Démarrez à 4 et ajouter 1.

x: 9 12 15 18y: 4 5 6 7

1) X: Démarrez à 15 et soustraire 3.

Y: Démarrez à 10 et soustraire 3.

x: 15 12 9 6y: 10 7 4 1

2) X: Démarrez à 2 et ajouter 3.

Y: Démarrez à 14 et soustraire 2.

x: 2 5 8 11y: 14 12 10 8

3) X: Démarrez à 1 et ajouter 2.

Y: Démarrez à 2 et ajouter 1.

x: 1 3 5 7y: 2 3 4 5

4) X: Démarrez à 2 et ajouter 1.

Y: Démarrez à 9 et soustraire 2.

x: 2 3 4 5y: 9 7 5 3

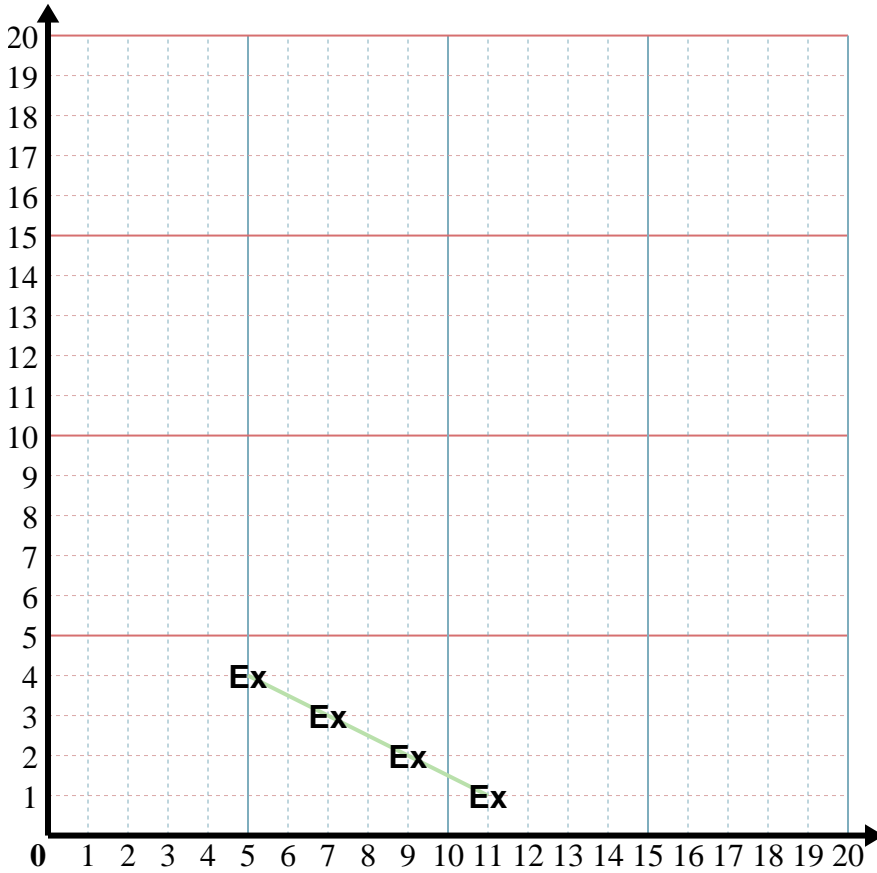
5) X: Démarrez à 1 et ajouter 2.

Y: Démarrez à 1 et ajouter 1.

x: 1 3 5 7y: 1 2 3 4



Dans le graphique ci-dessous reliez les points.



Réponses

Ex. (54)

1. _____

2. _____

3. _____

4. _____

5. _____

Ex) X: Démarrez à 11 et soustraire 2.
 Y: Démarrez à 1 et ajouter 1.
 x: 11 9 7 5
 y: 1 2 3 4

1) X: Démarrez à 9 et ajouter 2.
 Y: Démarrez à 1 et ajouter 1.
 x: _____
 y: _____

2) X: Démarrez à 12 et soustraire 3.
 Y: Démarrez à 11 et soustraire 2.
 x: _____
 y: _____

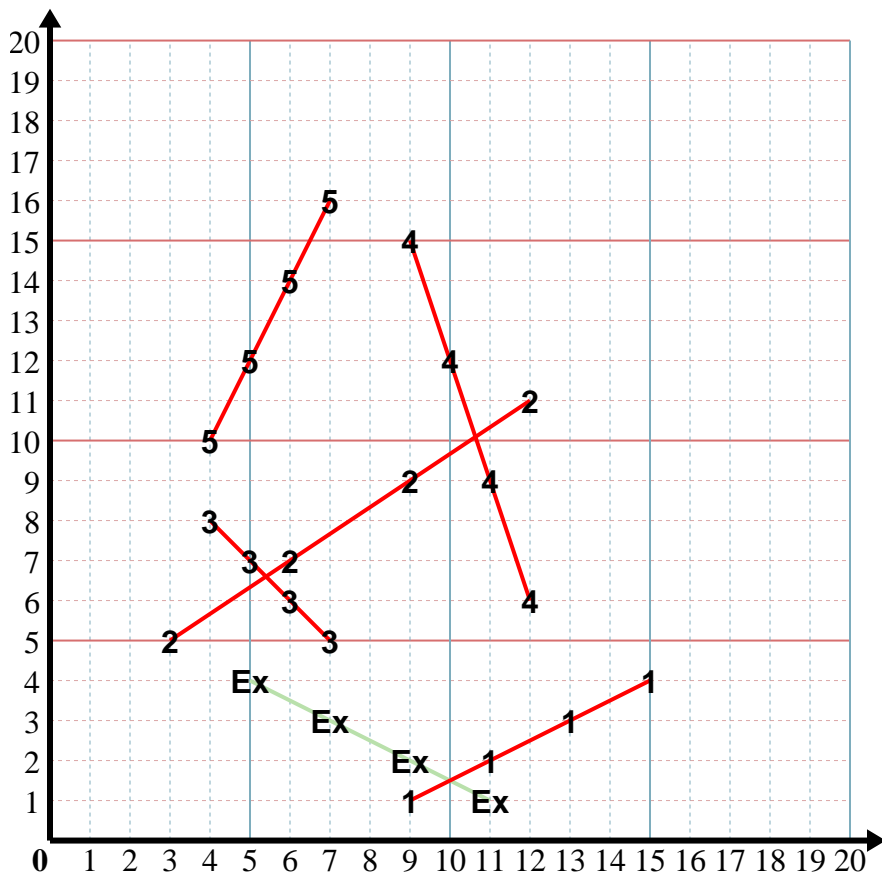
3) X: Démarrez à 4 et ajouter 1.
 Y: Démarrez à 8 et soustraire 1.
 x: _____
 y: _____

4) X: Démarrez à 9 et ajouter 1.
 Y: Démarrez à 15 et soustraire 3.
 x: _____
 y: _____

5) X: Démarrez à 4 et ajouter 1.
 Y: Démarrez à 10 et ajouter 2.
 x: _____
 y: _____



Dans le graphique ci-dessous reliez les points.

**Réponses**Ex. (54)1. (154)2. (35)3. (75)4. (126)5. (716)

Ex) X: Démarrez à 11 et soustraire 2.

Y: Démarrez à 1 et ajouter 1.

x: 11 9 7 5y: 1 2 3 4

1) X: Démarrez à 9 et ajouter 2.

Y: Démarrez à 1 et ajouter 1.

x: 9 11 13 15y: 1 2 3 4

2) X: Démarrez à 12 et soustraire 3.

Y: Démarrez à 11 et soustraire 2.

x: 12 9 6 3y: 11 9 7 5

3) X: Démarrez à 4 et ajouter 1.

Y: Démarrez à 8 et soustraire 1.

x: 4 5 6 7y: 8 7 6 5

4) X: Démarrez à 9 et ajouter 1.

Y: Démarrez à 15 et soustraire 3.

x: 9 10 11 12y: 15 12 9 6

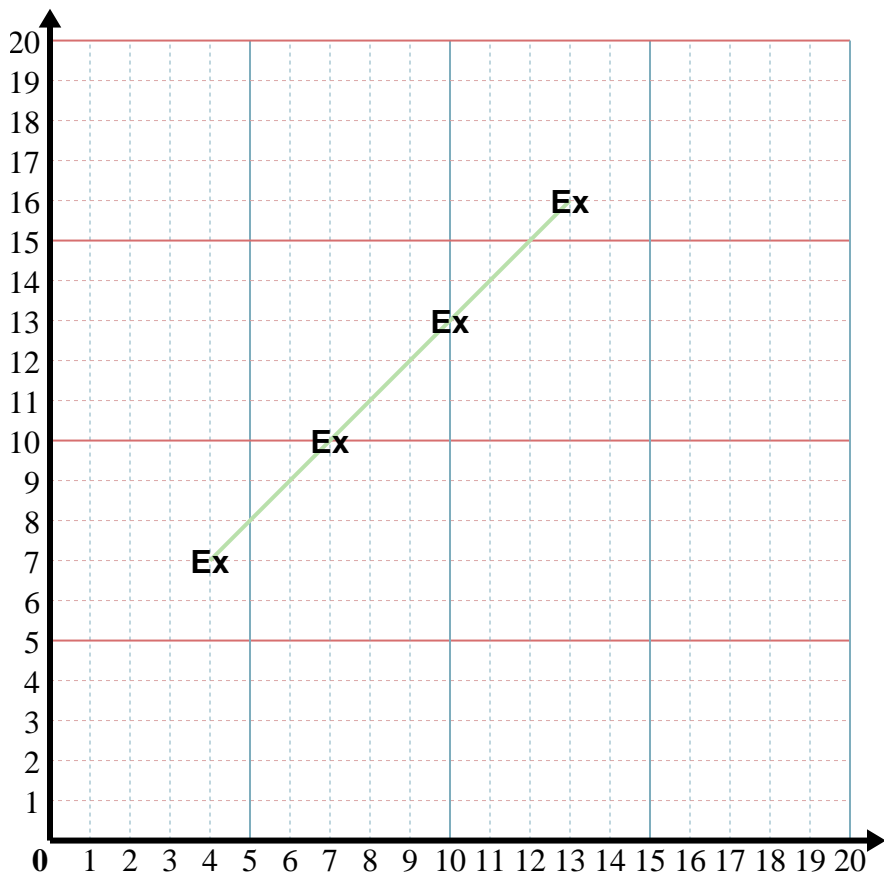
5) X: Démarrez à 4 et ajouter 1.

Y: Démarrez à 10 et ajouter 2.

x: 4 5 6 7y: 10 12 14 16



Dans le graphique ci-dessous reliez les points.



Réponses

Ex. (47)

1. _____

2. _____

3. _____

4. _____

5. _____

Ex) X: Démarrez à 13 et soustraire 3.
 Y: Démarrez à 16 et soustraire 3.
 x: 13 10 7 4
 y: 16 13 10 7

1) X: Démarrez à 16 et soustraire 2.
 Y: Démarrez à 3 et ajouter 2.
 x: _____
 y: _____

2) X: Démarrez à 7 et ajouter 1.
 Y: Démarrez à 4 et ajouter 2.
 x: _____
 y: _____

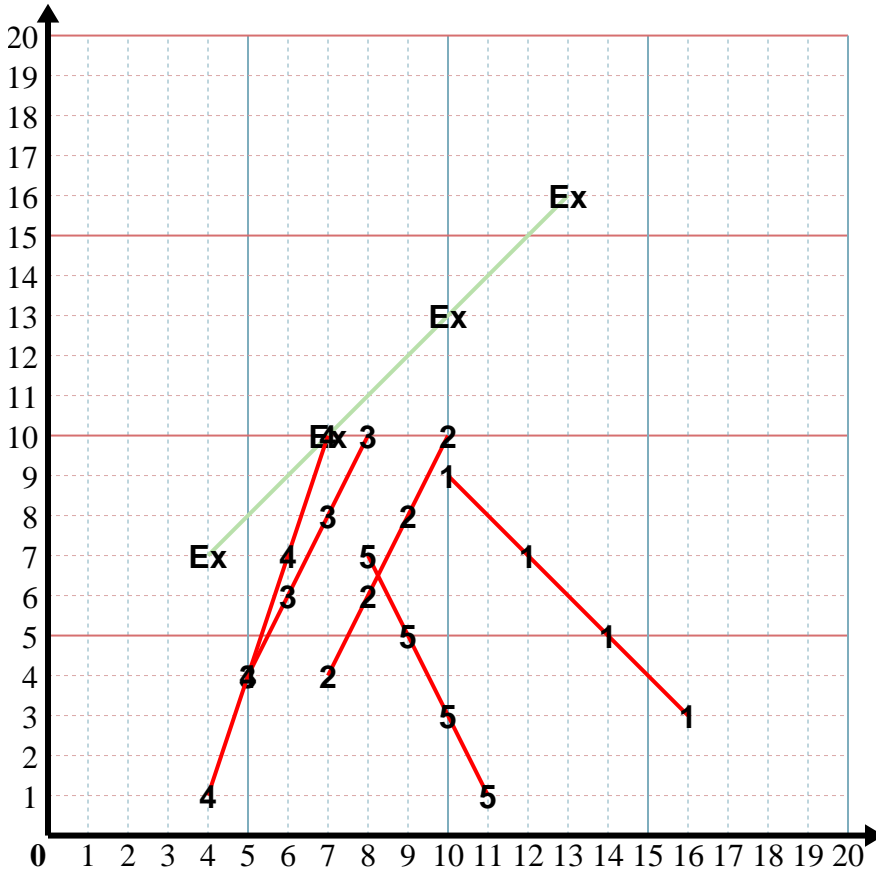
3) X: Démarrez à 8 et soustraire 1.
 Y: Démarrez à 10 et soustraire 2.
 x: _____
 y: _____

4) X: Démarrez à 7 et soustraire 1.
 Y: Démarrez à 10 et soustraire 3.
 x: _____
 y: _____

5) X: Démarrez à 8 et ajouter 1.
 Y: Démarrez à 7 et soustraire 2.
 x: _____
 y: _____



Dans le graphique ci-dessous reliez les points.

**Réponses**Ex. (4 7)1. (10 9)2. (10 10)3. (5 4)4. (4 1)5. (11 1)

Ex) X: Démarrez à 13 et soustraire 3.
Y: Démarrez à 16 et soustraire 3.

$$x: \frac{13}{16} \quad \frac{10}{13} \quad \frac{7}{10} \quad \frac{4}{7}$$

1) X: Démarrez à 16 et soustraire 2.
Y: Démarrez à 3 et ajouter 2.

$$x: \frac{16}{3} \quad \frac{14}{5} \quad \frac{12}{7} \quad \frac{10}{9}$$

2) X: Démarrez à 7 et ajouter 1.
Y: Démarrez à 4 et ajouter 2.

$$x: \frac{7}{4} \quad \frac{8}{6} \quad \frac{9}{8} \quad \frac{10}{10}$$

3) X: Démarrez à 8 et soustraire 1.
Y: Démarrez à 10 et soustraire 2.

$$x: \frac{8}{10} \quad \frac{7}{8} \quad \frac{6}{6} \quad \frac{5}{4}$$

4) X: Démarrez à 7 et soustraire 1.
Y: Démarrez à 10 et soustraire 3.

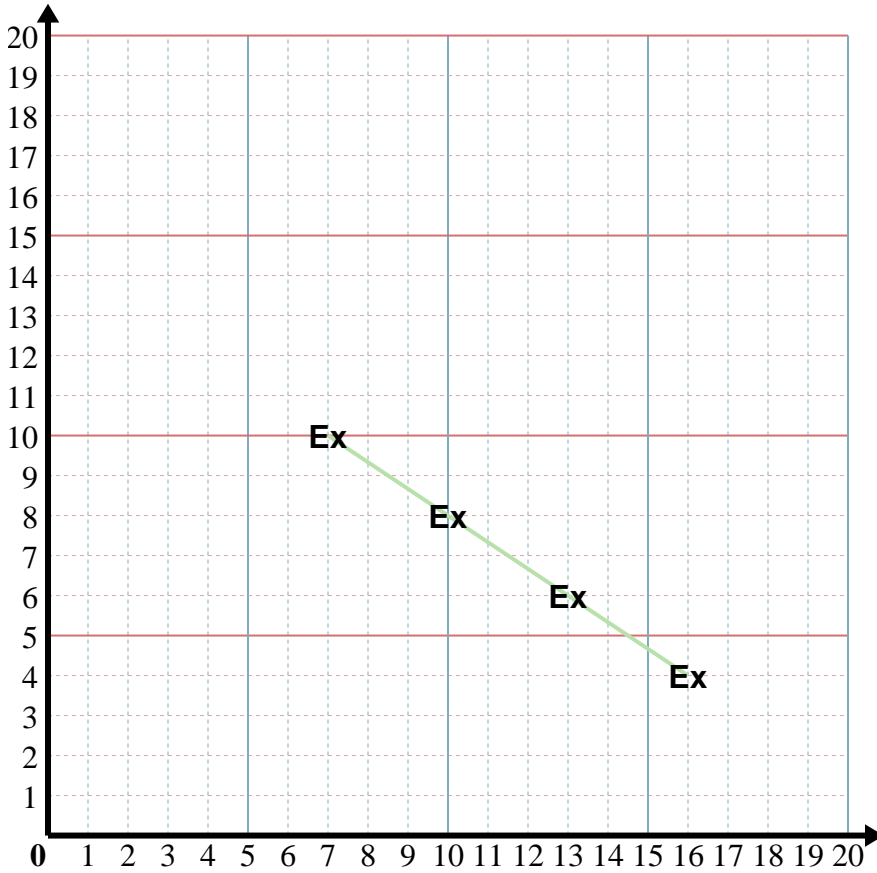
$$x: \frac{7}{10} \quad \frac{6}{7} \quad \frac{5}{4} \quad \frac{4}{1}$$

5) X: Démarrez à 8 et ajouter 1.
Y: Démarrez à 7 et soustraire 2.

$$x: \frac{8}{7} \quad \frac{9}{5} \quad \frac{10}{3} \quad \frac{11}{1}$$



Dans le graphique ci-dessous reliez les points.



Réponses

Ex. (7 10)

1. _____

2. _____

3. _____

4. _____

5. _____

Ex) X: Démarrez à 16 et soustraire 3.
 Y: Démarrez à 4 et ajouter 2.
 x: 16 13 10 7
 y: 4 6 8 10

1) X: Démarrez à 11 et soustraire 3.
 Y: Démarrez à 15 et soustraire 2.
 x: _____
 y: _____

2) X: Démarrez à 16 et soustraire 3.
 Y: Démarrez à 4 et ajouter 2.
 x: _____
 y: _____

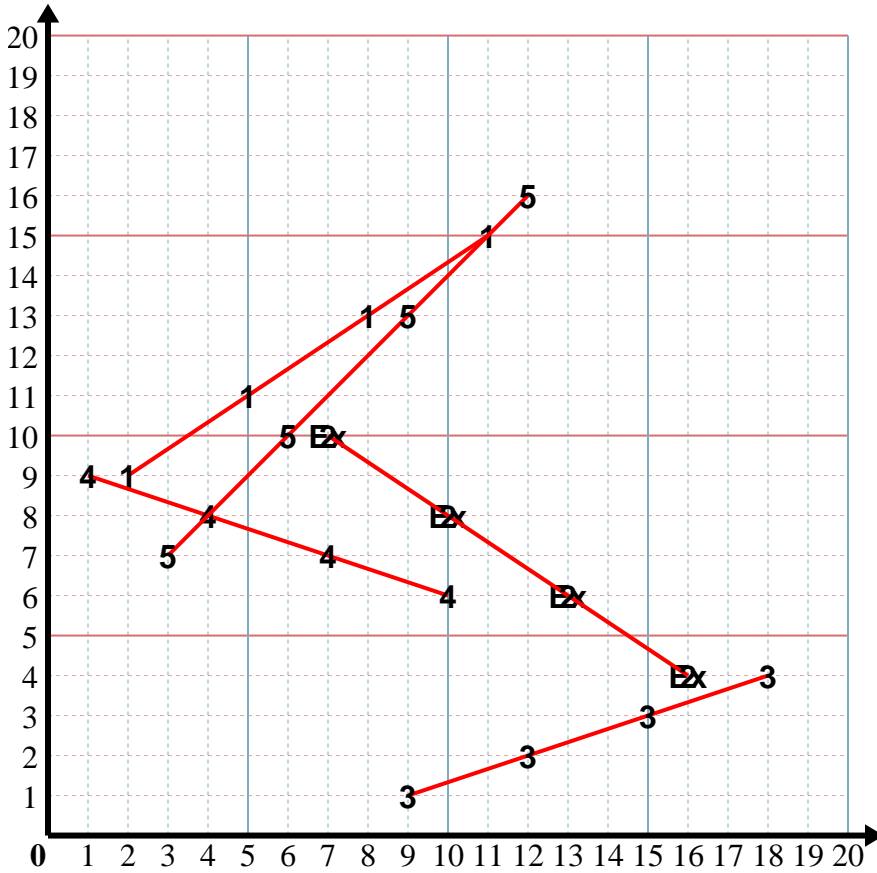
3) X: Démarrez à 9 et ajouter 3.
 Y: Démarrez à 1 et ajouter 1.
 x: _____
 y: _____

4) X: Démarrez à 10 et soustraire 3.
 Y: Démarrez à 6 et ajouter 1.
 x: _____
 y: _____

5) X: Démarrez à 12 et soustraire 3.
 Y: Démarrez à 16 et soustraire 3.
 x: _____
 y: _____



Dans le graphique ci-dessous reliez les points.



Réponses

Ex. (7 10)

1. (2 9)

2. (7 10)

3. (18 4)

4. (1 9)

5. (3 7)

Ex) X: Démarrez à 16 et soustraire 3.
Y: Démarrez à 4 et ajouter 2.
x: 16 13 10 7
y: 4 6 8 10

1) X: Démarrez à 11 et soustraire 3.
Y: Démarrez à 15 et soustraire 2.
x: 11 8 5 2
y: 15 13 11 9

2) X: Démarrez à 16 et soustraire 3.
Y: Démarrez à 4 et ajouter 2.
x: 16 13 10 7
y: 4 6 8 10

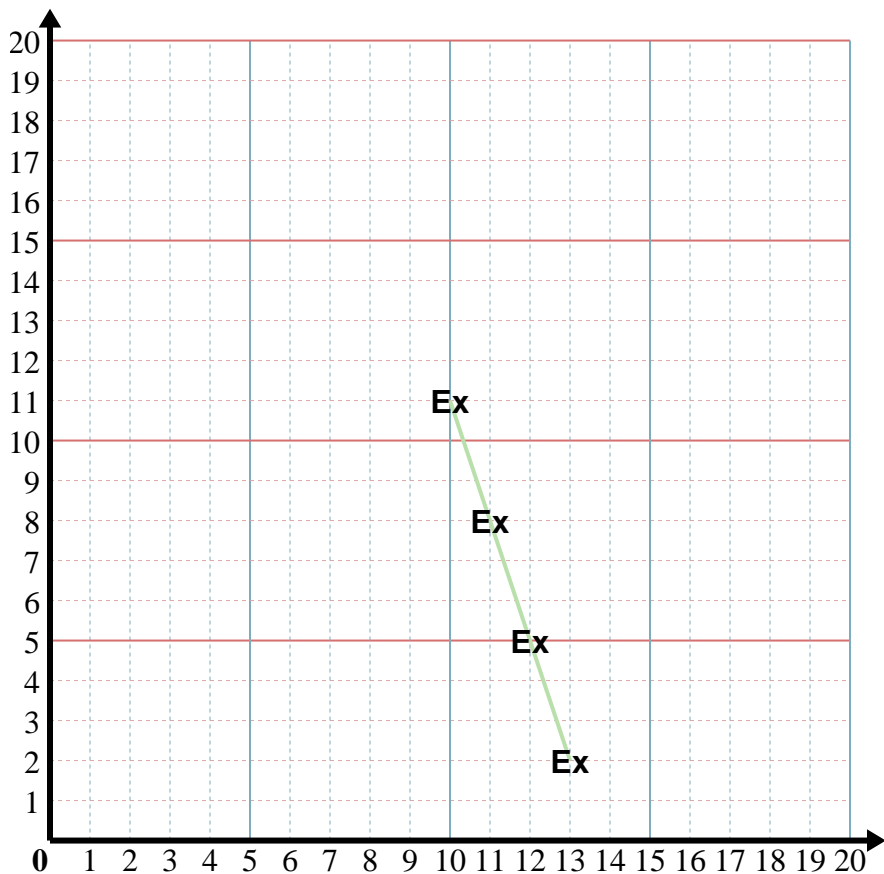
3) X: Démarrez à 9 et ajouter 3.
Y: Démarrez à 1 et ajouter 1.
x: 9 12 15 18
y: 1 2 3 4

4) X: Démarrez à 10 et soustraire 3.
Y: Démarrez à 6 et ajouter 1.
x: 10 7 4 1
y: 6 7 8 9

5) X: Démarrez à 12 et soustraire 3.
Y: Démarrez à 16 et soustraire 3.
x: 12 9 6 3
y: 16 13 10 7



Dans le graphique ci-dessous reliez les points.



Réponses

Ex. (10 11)

1. _____

2. _____

3. _____

4. _____

5. _____

Ex) X: Démarrez à 13 et soustraire 1.

Y: Démarrez à 2 et ajouter 3.

x: 13 12 11 10

y: 2 5 8 11

1) X: Démarrez à 3 et ajouter 1.

Y: Démarrez à 15 et soustraire 3.

x: _____

y: _____

2) X: Démarrez à 4 et ajouter 2.

Y: Démarrez à 9 et ajouter 3.

x: _____

y: _____

3) X: Démarrez à 10 et soustraire 3.

Y: Démarrez à 4 et ajouter 1.

x: _____

y: _____

4) X: Démarrez à 12 et soustraire 2.

Y: Démarrez à 13 et soustraire 3.

x: _____

y: _____

5) X: Démarrez à 7 et ajouter 3.

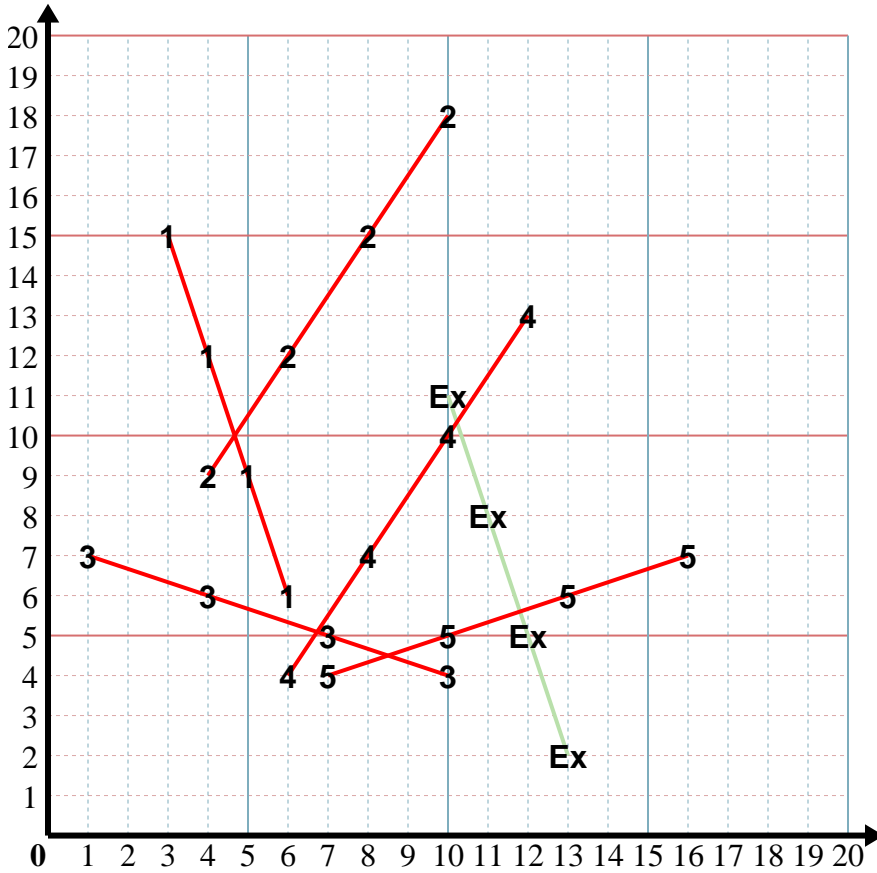
Y: Démarrez à 4 et ajouter 1.

x: _____

y: _____



Dans le graphique ci-dessous reliez les points.

**Réponses**Ex. (10 11)1. (6 6)2. (10 18)3. (1 7)4. (6 4)5. (16 7)

Ex) X: Démarrez à 13 et soustraire 1.

Y: Démarrez à 2 et ajouter 3.

x: $\frac{13}{2}$ $\frac{12}{5}$ $\frac{11}{8}$ $\frac{10}{11}$ y: $\frac{2}{13}$ $\frac{5}{12}$ $\frac{8}{11}$ $\frac{11}{10}$

1) X: Démarrez à 3 et ajouter 1.

Y: Démarrez à 15 et soustraire 3.

x: $\frac{3}{15}$ $\frac{4}{12}$ $\frac{5}{9}$ $\frac{6}{6}$ y: $\frac{15}{3}$ $\frac{12}{4}$ $\frac{9}{5}$ $\frac{6}{6}$

2) X: Démarrez à 4 et ajouter 2.

Y: Démarrez à 9 et ajouter 3.

x: $\frac{4}{9}$ $\frac{6}{12}$ $\frac{8}{15}$ $\frac{10}{18}$ y: $\frac{9}{4}$ $\frac{12}{6}$ $\frac{15}{8}$ $\frac{18}{10}$

3) X: Démarrez à 10 et soustraire 3.

Y: Démarrez à 4 et ajouter 1.

x: $\frac{10}{4}$ $\frac{7}{5}$ $\frac{4}{6}$ $\frac{1}{7}$ y: $\frac{4}{10}$ $\frac{5}{7}$ $\frac{6}{4}$ $\frac{7}{1}$

4) X: Démarrez à 12 et soustraire 2.

Y: Démarrez à 13 et soustraire 3.

x: $\frac{12}{13}$ $\frac{10}{10}$ $\frac{8}{7}$ $\frac{6}{4}$ y: $\frac{13}{12}$ $\frac{10}{10}$ $\frac{7}{8}$ $\frac{4}{6}$

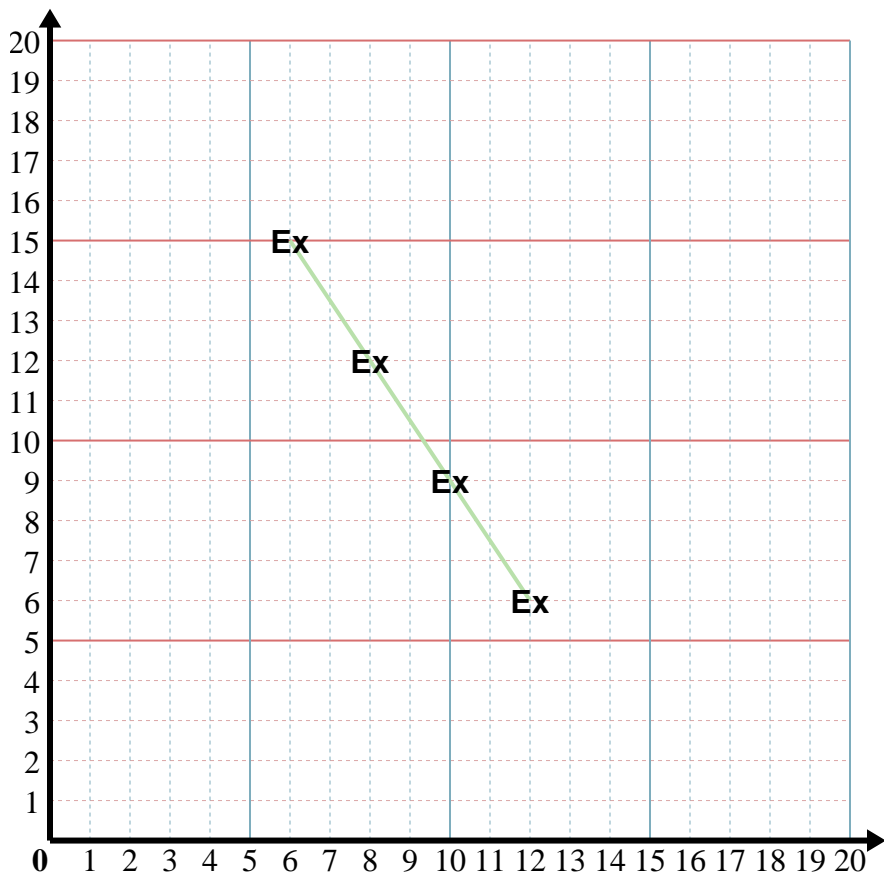
5) X: Démarrez à 7 et ajouter 3.

Y: Démarrez à 4 et ajouter 1.

x: $\frac{7}{4}$ $\frac{10}{5}$ $\frac{13}{6}$ $\frac{16}{7}$ y: $\frac{4}{7}$ $\frac{5}{10}$ $\frac{6}{13}$ $\frac{7}{16}$



Dans le graphique ci-dessous reliez les points.



Réponses

Ex. (12 6)

1. _____

2. _____

3. _____

4. _____

5. _____

Ex) X: Démarrez à 6 et ajouter 2.
 Y: Démarrez à 15 et soustraire 3.
 x: 6 8 10 12
 y: 15 12 9 6

1) X: Démarrez à 8 et ajouter 2.
 Y: Démarrez à 10 et ajouter 3.
 x: _____
 y: _____

2) X: Démarrez à 2 et ajouter 1.
 Y: Démarrez à 5 et soustraire 1.
 x: _____
 y: _____

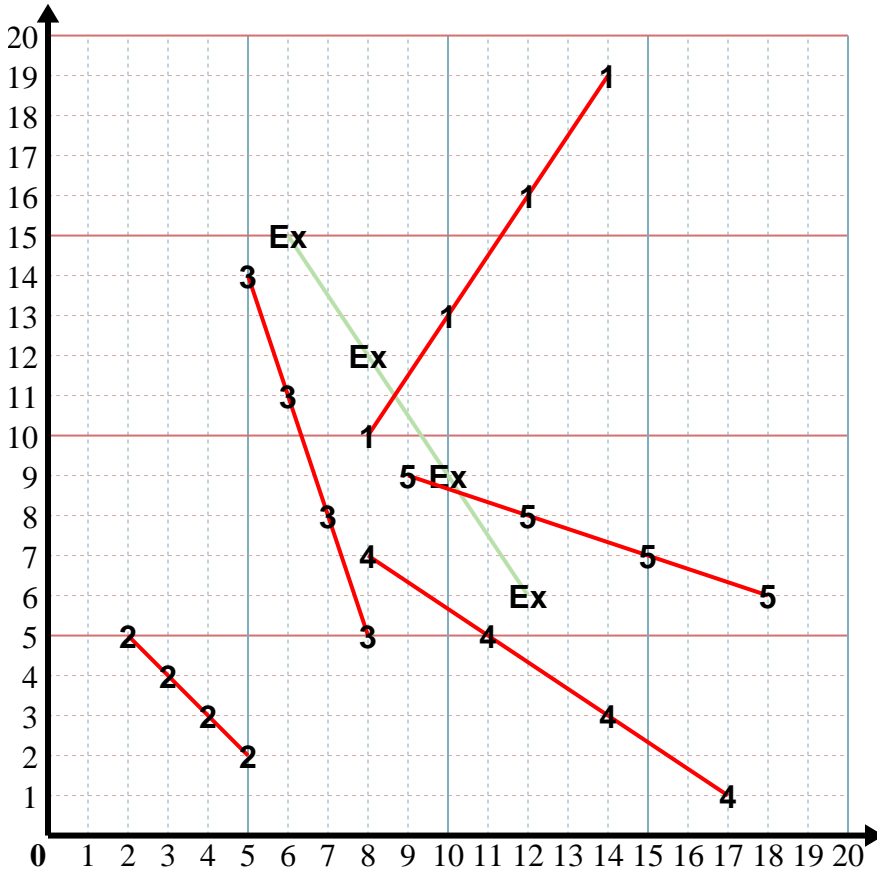
3) X: Démarrez à 8 et soustraire 1.
 Y: Démarrez à 5 et ajouter 3.
 x: _____
 y: _____

4) X: Démarrez à 17 et soustraire 3.
 Y: Démarrez à 1 et ajouter 2.
 x: _____
 y: _____

5) X: Démarrez à 18 et soustraire 3.
 Y: Démarrez à 6 et ajouter 1.
 x: _____
 y: _____



Dans le graphique ci-dessous reliez les points.



Réponses

Ex. (12 6)

1. (14 19)

2. (5 2)

3. (5 14)

4. (8 7)

5. (9 9)

Ex) X: Démarrez à 6 et ajouter 2.
 Y: Démarrez à 15 et soustraire 3.
 x: 6 8 10 12
 y: 15 12 9 6

1) X: Démarrez à 8 et ajouter 2.
 Y: Démarrez à 10 et ajouter 3.
 x: 8 10 12 14
 y: 10 13 16 19

2) X: Démarrez à 2 et ajouter 1.
 Y: Démarrez à 5 et soustraire 1.
 x: 2 3 4 5
 y: 5 4 3 2

3) X: Démarrez à 8 et soustraire 1.
 Y: Démarrez à 5 et ajouter 3.
 x: 8 7 6 5
 y: 5 8 11 14

4) X: Démarrez à 17 et soustraire 3.
 Y: Démarrez à 1 et ajouter 2.
 x: 17 14 11 8
 y: 1 3 5 7

5) X: Démarrez à 18 et soustraire 3.
 Y: Démarrez à 6 et ajouter 1.
 x: 18 15 12 9
 y: 6 7 8 9