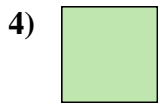





Mesurez la largeur de chaque barre en centimètres.



**Réponses**

Ex. 1 2-3

1. \_\_\_\_\_

2. \_\_\_\_\_

3. \_\_\_\_\_

4. \_\_\_\_\_

5. \_\_\_\_\_

6. \_\_\_\_\_


7. \_\_\_\_\_

8. \_\_\_\_\_

9. \_\_\_\_\_



Mesurez la largeur de chaque barre en centimètres.



**Réponses**

Ex. 1    2 - 3

1. 1 1/2    3 - 4

2. 5    12 - 13

3. 5 1/2    13 - 14

4. 0 1/2    1 - 2

5. 3    7 - 8

6. 2    5 - 6

7. 4    10 - 11

8. 4 1/2    11 - 12

9. 3 1/2    8 - 9