



Mesurez la largeur de chaque barre en centimètres.



**Réponses**

Ex. 2 1/2 6 - 7



1. \_\_\_\_\_



2. \_\_\_\_\_



3. \_\_\_\_\_



4. \_\_\_\_\_



5. \_\_\_\_\_



6. \_\_\_\_\_



7. \_\_\_\_\_




8. \_\_\_\_\_



9. \_\_\_\_\_



Mesurez la largeur de chaque barre en centimètres.



**Réponses**

Ex. 2 1/2 6 - 7

1. 4 1/2 11 - 12

2. 3 7 - 8

3. 5 12 - 13

4. 2 5 - 6

5. 3 1/2 8 - 9

6. 5 1/2 13 - 14

7. 0 1/2 1 - 2

8. 1 2 - 3

9. 4 10 - 11



Mesurez la largeur de chaque barre en centimètres.

Ex)



**Réponses**

Ex. 1 2-3

1)



1. \_\_\_\_\_

2)




2. \_\_\_\_\_

3)



3. \_\_\_\_\_

4)



4. \_\_\_\_\_

5)



5. \_\_\_\_\_

6)



6. \_\_\_\_\_

7)



7. \_\_\_\_\_

8)



8. \_\_\_\_\_

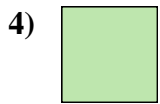

9)



9. \_\_\_\_\_



Mesurez la largeur de chaque barre en centimètres.



**Réponses**

Ex. 1    2 - 3

1. 1 1/2    3 - 4

2. 5    12 - 13

3. 5 1/2    13 - 14

4. 0 1/2    1 - 2

5. 3    7 - 8

6. 2    5 - 6

7. 4    10 - 11

8. 4 1/2    11 - 12

9. 3 1/2    8 - 9



Mesurez la largeur de chaque barre en centimètres.

Ex)



**Réponses**

Ex. 4 1/2 11 - 12

1)



1. \_\_\_\_\_

2)




2. \_\_\_\_\_

3)



3. \_\_\_\_\_

4)



4. \_\_\_\_\_

5)



5. \_\_\_\_\_

6)



6. \_\_\_\_\_

7)



7. \_\_\_\_\_

8)



8. \_\_\_\_\_

9)



9. \_\_\_\_\_



Mesurez la largeur de chaque barre en centimètres.



**Réponses**

Ex. 4 1/2 11 - 12

1. 5 1/2 13 - 14

2. 1 2 - 3

3. 1 1/2 3 - 4

4. 4 10 - 11

5. 2 5 - 6

6. 2 1/2 6 - 7

7. 3 7 - 8

8. 0 1/2 1 - 2

9. 5 12 - 13



Mesurez la largeur de chaque barre en centimètres.



**Réponses**

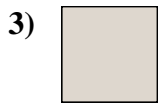
Ex. 3 7 - 8



1. \_\_\_\_\_



2. \_\_\_\_\_



3. \_\_\_\_\_



4. \_\_\_\_\_



5. \_\_\_\_\_



6. \_\_\_\_\_



7. \_\_\_\_\_



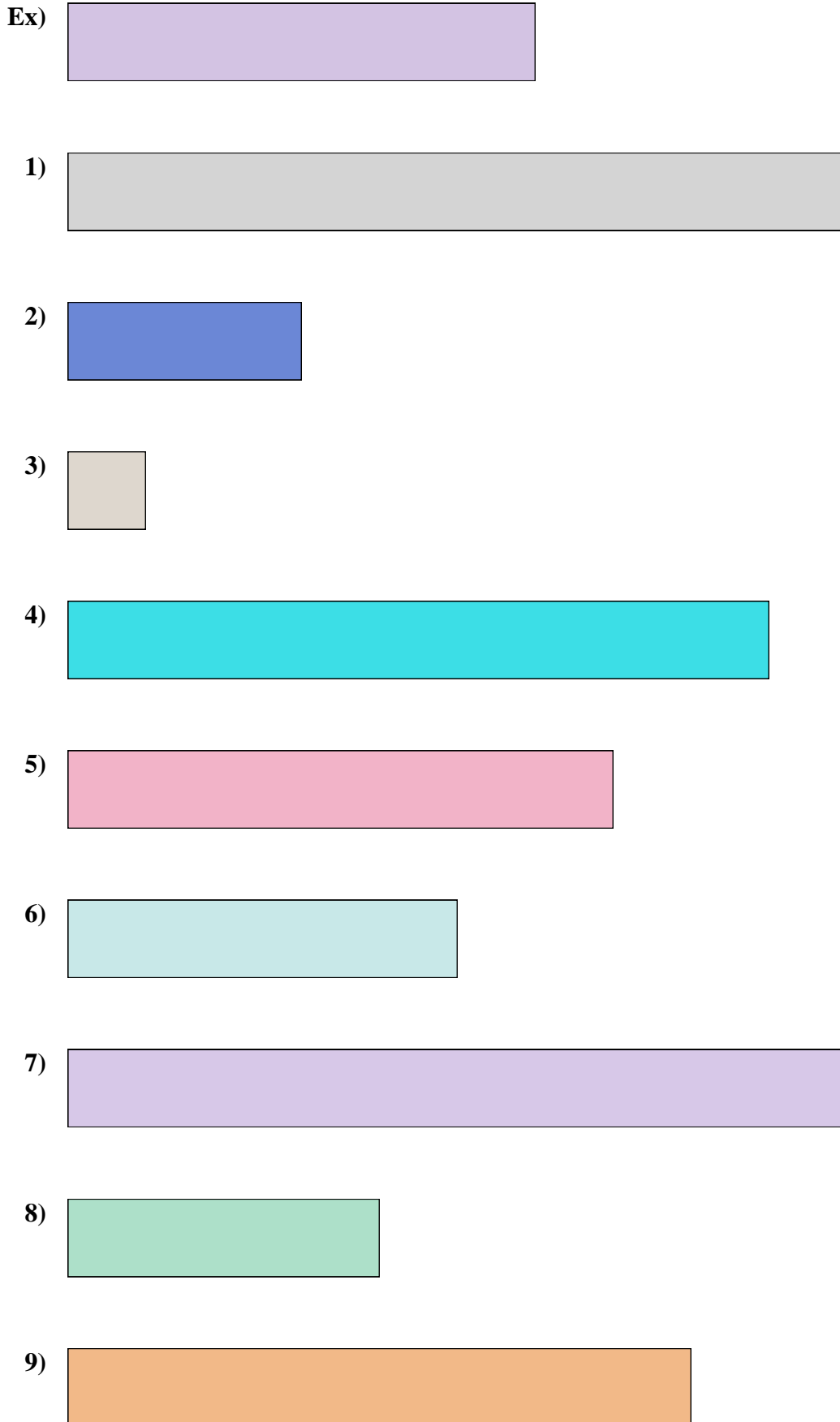
8. \_\_\_\_\_



9. \_\_\_\_\_



Mesurez la largeur de chaque barre en centimètres.


**Réponses**

Ex.	<u>3</u>	<u>7 - 8</u>
1.	<u>5</u>	<u>12 - 13</u>
2.	<u>1 1/2</u>	<u>3 - 4</u>
3.	<u>0 1/2</u>	<u>1 - 2</u>
4.	<u>4 1/2</u>	<u>11 - 12</u>
5.	<u>3 1/2</u>	<u>8 - 9</u>
6.	<u>2 1/2</u>	<u>6 - 7</u>
7.	<u>5 1/2</u>	<u>13 - 14</u>
8.	<u>2</u>	<u>5 - 6</u>
9.	<u>4</u>	<u>10 - 11</u>





Mesurez la largeur de chaque barre en centimètres.



**Réponses**

Ex. 3 7 - 8

1. \_\_\_\_\_

2. \_\_\_\_\_

3. \_\_\_\_\_

4. \_\_\_\_\_

5. \_\_\_\_\_

6. \_\_\_\_\_

7. \_\_\_\_\_

8. \_\_\_\_\_

9. \_\_\_\_\_



Mesurez la largeur de chaque barre en centimètres.



**Réponses**

Ex. 3    7 - 8

1. 1 1/2    3 - 4

2. 0 1/2    1 - 2

3. 5 1/2    13 - 14

4. 1    2 - 3

5. 4 1/2    11 - 12

6. 4    10 - 11


7. 5    12 - 13


8. 2    5 - 6


9. 2 1/2    6 - 7





Mesurez la largeur de chaque barre en centimètres.


Ex) 


1) 


2) 


3) 


4) 

5) 

6) 

7) 

8) 


9) 


**Réponses**


- Ex. 5 1/2 13 - 14
1. \_\_\_\_\_
2. \_\_\_\_\_
3. \_\_\_\_\_
4. \_\_\_\_\_
5. \_\_\_\_\_
6. \_\_\_\_\_
7. \_\_\_\_\_
8. \_\_\_\_\_
9. \_\_\_\_\_





Mesurez la largeur de chaque barre en centimètres.


Ex) 


1) 


2) 


3) 


4) 

5) 

6) 

7) 

8) 

9) 

**Réponses**

- Ex. 5 1/2    13 - 14
1. 3 1/2    8 - 9
2. 4    10 - 11
3. 5    12 - 13
4. 1    2 - 3
5. 3    7 - 8
6. 0 1/2    1 - 2
7. 1 1/2    3 - 4
8. 2    5 - 6
9. 4 1/2    11 - 12



Mesurez la largeur de chaque barre en centimètres.

Ex)



1)



2)



3)



4)



5)



6)



7)



8)



9)



**Réponses**

Ex. 4 10 - 11

1. \_\_\_\_\_

2. \_\_\_\_\_

3. \_\_\_\_\_

4. \_\_\_\_\_

5. \_\_\_\_\_

6. \_\_\_\_\_

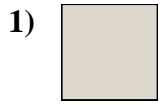
7. \_\_\_\_\_

8. \_\_\_\_\_

9. \_\_\_\_\_



Mesurez la largeur de chaque barre en centimètres.



**Réponses**

Ex. 4    10 - 11

1. 0 1/2    1 - 2

2. 1 1/2    3 - 4

3. 5 1/2    13 - 14

4. 3    7 - 8

5. 2 1/2    6 - 7

6. 1    2 - 3

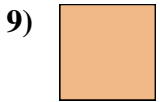
7. 2    5 - 6

8. 4 1/2    11 - 12

9. 3 1/2    8 - 9



Mesurez la largeur de chaque barre en centimètres.



**Réponses**

Ex. 3 1/2 8 - 9

1. \_\_\_\_\_

2. \_\_\_\_\_

3. \_\_\_\_\_

4. \_\_\_\_\_

5. \_\_\_\_\_

6. \_\_\_\_\_


7. \_\_\_\_\_

8. \_\_\_\_\_

9. \_\_\_\_\_



Mesurez la largeur de chaque barre en centimètres.



**Réponses**

Ex. 3 1/2    8 - 9

1. 1    2 - 3

2. 1 1/2    3 - 4

3. 5 1/2    13 - 14

4. 5    12 - 13

5. 2    5 - 6

6. 3    7 - 8

7. 4 1/2    11 - 12

8. 2 1/2    6 - 7

9. 0 1/2    1 - 2





Mesurez la largeur de chaque barre en centimètres.

Ex)



**Réponses**

Ex. 4 10 - 11

1)



1. \_\_\_\_\_

2)




2. \_\_\_\_\_

3)



3. \_\_\_\_\_

4)



4. \_\_\_\_\_

5)



5. \_\_\_\_\_

6)



6. \_\_\_\_\_

7)



7. \_\_\_\_\_

8)



8. \_\_\_\_\_

9)



9. \_\_\_\_\_



Mesurez la largeur de chaque barre en centimètres.



**Réponses**

Ex. 4    10 - 11

1. 2    5 - 6

2. 3    7 - 8

3. 3 1/2    8 - 9

4. 0 1/2    1 - 2

5. 1 1/2    3 - 4

6. 2 1/2    6 - 7

7. 5    12 - 13

8. 4 1/2    11 - 12

9. 5 1/2    13 - 14



Mesurez la largeur de chaque barre en centimètres.

Ex)



**Réponses**

Ex. 1 2-3

1)



1. \_\_\_\_\_

2)




2. \_\_\_\_\_

3)



3. \_\_\_\_\_

4)



4. \_\_\_\_\_

5)



5. \_\_\_\_\_

6)



6. \_\_\_\_\_

7)




7. \_\_\_\_\_

8)



8. \_\_\_\_\_


9)



9. \_\_\_\_\_



Mesurez la largeur de chaque barre en centimètres.



**Réponses**

Ex. 1    2 - 3

1. 3 1/2    8 - 9

2. 5 1/2    13 - 14

3. 5    12 - 13

4. 4 1/2    11 - 12

5. 1 1/2    3 - 4

6. 4    10 - 11

7. 2    5 - 6

8. 3    7 - 8

9. 0 1/2    1 - 2