



Mesurez la longueur et la largeur de chaque barre en centimètres.

Ex)



Réponses

Ex. 1 0 1/2 2,5 1,3

1. _____

2. _____


3. _____

4. _____

1)



2)



3)



4)





Mesurez la longueur et la largeur de chaque barre en centimètres.


Ex)




1)



2)



3)



4)



Réponses

Ex. 1 0 1/2 2,5 1,3

1. 3 1/2 0 1/2 8,9 1,3

2. 5 1/2 1 14 2,5

3. 5 1 12,7 2,5

4. 4 1/2 1 11,4 2,5