




Mesurez la longueur et la largeur de chaque barre en centimètres.

Ex)



Réponses

Ex. 2 1/2 1 6,4 2,5


1. _____

2. _____


3. _____

4. _____


1)



2)



3)



4)





Mesurez la longueur et la largeur de chaque barre en centimètres.

Ex)



Réponses

Ex. 2 1/2 1 6,4 2,5


1. 4 1/2 1 1/2 11,4 3,8

2. 3 1 7,6 2,5


3. 5 1 1/2 12,7 3,8

4. 2 0 1/2 5,1 1,3


1)



2)



3)




4)






Mesurez la longueur et la largeur de chaque barre en centimètres.


Ex)



1)




2)



3)



4)



Réponses

Ex. 1 1 1/2 2,5 3,8

1. _____

2. _____


3. _____

4. _____




Mesurez la longueur et la largeur de chaque barre en centimètres.


Ex)



1)




2)



3)



4)



Réponses

Ex. 1 1 1/2 2,5 3,8

1. 1 1/2 1 1/2 3,8 3,8

2. 5 1 12,7 2,5

3. 5 1/2 0 1/2 14 1,3

4. 0 1/2 1 1/2 1,3 3,8




Mesurez la longueur et la largeur de chaque barre en centimètres.

Ex)



1)




2)



3)



4)



Réponses

Ex. $4\frac{1}{2}$ **1** 11,4 2,5

1. _____

2. _____

3. _____

4. _____



Mesurez la longueur et la largeur de chaque barre en centimètres.

Ex)



Réponses

Ex. 4 1/2 **1** 11,4 2,5


1. 5 1/2 1 1/2 **14** **3,8**

2. **1** 0 1/2 **2,5** **1,3**

3. 1 1/2 0 1/2 **3,8** **1,3**

4. **4** 1 1/2 10,2 **3,8**

1)




2)



3)




4)





Mesurez la longueur et la largeur de chaque barre en centimètres.

Ex)



Réponses

Ex. 3 1 7,6 2,5

1. _____

2. _____

3. _____

4. _____

1)



2)

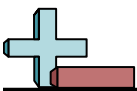


3)




4)





Mesurez la longueur et la largeur de chaque barre en centimètres.

Ex)



Réponses

Ex. 3 1 7,6 2,5

1. 5 0 1/2 12,7 1,3

2. 1 1/2 0 1/2 3,8 1,3

3. 0 1/2 1 1,3 2,5

4. 4 1/2 0 1/2 11,4 1,3

1)



2)



3)



4)





Mesurez la longueur et la largeur de chaque barre en centimètres.

Ex)



Réponses

Ex. 3 0 1/2 7,6 1,3

1. _____

2. _____

3. _____

4. _____

1)




2)



3)



4)





Mesurez la longueur et la largeur de chaque barre en centimètres.

Ex)



Réponses

Ex. 3 0 1/2 7,6 1,3


1. 1 1/2 1 3,8 2,5

2. 0 1/2 1 1,3 2,5


3. 5 1/2 1 14 2,5

4. 1 1 1/2 2,5 3,8

1)




2)



3)



4)





Mesurez la longueur et la largeur de chaque barre en centimètres.

Ex)



Réponses

Ex. 5 1/2 0 1/2 **14** **1,3**


1. _____

2. _____


3. _____

4. _____


1)




2)



3)



4)





Mesurez la longueur et la largeur de chaque barre en centimètres.

Ex)



Réponses

Ex. 5 1/2 0 1/2 **14** **1,3**


1. 3 1/2 1 1/2 **8,9** **3,8**

2. **4** 0 1/2 10,2 **1,3**


3. **5** **1** 12,7 2,5

4. **1** **1** 2,5 2,5

1)




2)



3)



4)





Mesurez la longueur et la largeur de chaque barre en centimètres.

Ex)



Réponses

Ex. 4 0 1/2 10,2 1,3

1. _____

2. _____

3. _____

4. _____

1)




2)



3)



4)





Mesurez la longueur et la largeur de chaque barre en centimètres.

Ex)



Réponses

Ex. 4 0 1/2 10,2 1,3

1. 0 1/2 1 1/2 1,3 3,8

2. 1 1/2 0 1/2 3,8 1,3

3. 5 1/2 0 1/2 14 1,3

4. 3 1 1/2 7,6 3,8

1)




2)



3)



4)





Mesurez la longueur et la largeur de chaque barre en centimètres.

Réponses

Ex)



Ex. $3\frac{1}{2}$ $0\frac{1}{2}$ **8,9** **1,3**


1. _____

2. _____

3. _____

4. _____

1)




2)



3)



4)





Mesurez la longueur et la largeur de chaque barre en centimètres.

Ex)



Réponses

Ex. 3 1/2 0 1/2 **8,9** **1,3**


1. **1** 1 1/2 **2,5** **3,8**

2. 1 1/2 **1** **3,8** 2,5

3. 5 1/2 1 1/2 **14** **3,8**

4. **5** 1 12,7 2,5


1)




2)



3)



4)





Mesurez la longueur et la largeur de chaque barre en centimètres.

Réponses

Ex)



Ex. 4 1 1/2 10,2 3,8


1. _____

2. _____

3. _____

4. _____

1)




2)



3)



4)






Mesurez la longueur et la largeur de chaque barre en centimètres.

Ex)



1)




2)



3)



4)



Réponses

Ex. 4 1 1/2 10,2 3,8

1. 2 1 1/2 5,1 3,8

2. 3 0 1/2 7,6 1,3

3. 3 1/2 1 1/2 8,9 3,8

4. 0 1/2 0 1/2 1,3 1,3



Mesurez la longueur et la largeur de chaque barre en centimètres.

Ex)



Réponses

Ex. 1 0 1/2 2,5 1,3

1. _____

2. _____


3. _____

4. _____

1)



2)



3)



4)





Mesurez la longueur et la largeur de chaque barre en centimètres.


Ex)



1)



2)



3)



4)



Réponses

Ex. 1 0 1/2 2,5 1,3

1. 3 1/2 0 1/2 8,9 1,3

2. 5 1/2 1 14 2,5

3. 5 1 12,7 2,5

4. 4 1/2 1 11,4 2,5