




Mesurez la longueur et la largeur de chaque barre en centimètres.

Ex)



Réponses

Ex. 0 1/2 0 1/2 1,3 1,3

1. _____

2. _____

3. _____

4. _____

1)




2)



3)




4)





Mesurez la longueur et la largeur de chaque barre en centimètres.

Ex)



Réponses

Ex. 0 1/2 0 1/2 1,3 1,3


1. 5 1 12,7 2,5

2. 5 1/2 1 14 2,5

3. 3 1 7,6 2,5

4. 2 1 1/2 5,1 3,8

1)



2)



3)



4)

