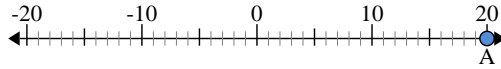




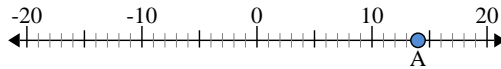
Utilisez les droites numériques pour identifier la valeur absolue.

1) a. Quelle est la valeur de A?



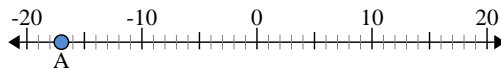
b. Quelle est la distance de A à 0 (valeur absolue)?

2) a. Quelle est la valeur de A?



b. Quelle est la distance de A à 0 (valeur absolue)?

3) a. Quelle est la valeur de A?



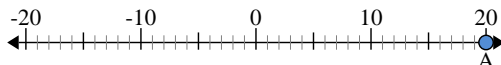
Réponses

- 1. _____
2. _____
3. _____
4. _____
5. _____
6. _____
7. _____
8. _____
9. _____
10. _____



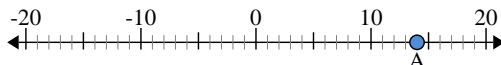
Utilisez les droites numériques pour identifier la valeur absolue.

1) a. Quelle est la valeur de A?



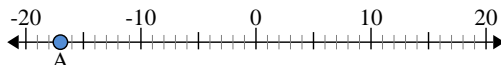
b. Quelle est la distance de A à 0 (valeur absolue)?

2) a. Quelle est la valeur de A?



b. Quelle est la distance de A à 0 (valeur absolue)?

3) a. Quelle est la valeur de A?



Réponses

1.	20	20
2.	14	14
3.	-17	17
4.	18	18
5.	-16	16
6.	-10	10
7.	-9	9
8.	-12	12
9.	-7	7
10.	13	13