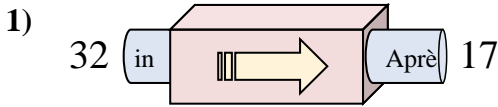
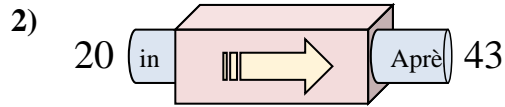




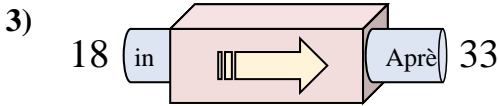
Déterminez la règle appliquée à chaque machine à fonctions.

Réponses

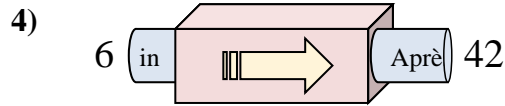
- A. Soustraire 20
- B. Soustraire 14
- C. Ajouter 12
- D. Soustraire 15



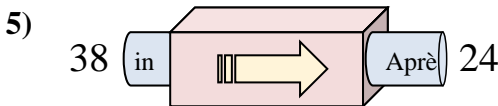
- A. Ajouter 24
- B. Ajouter 21
- C. Ajouter 20
- D. Ajouter 23



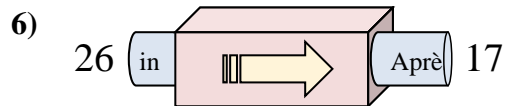
- A. Ajouter 15
- B. Soustraire 19
- C. Ajouter 17
- D. Ajouter 10



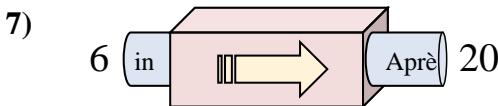
- A. Ajouter 31
- B. Soustraire 31
- C. Ajouter 36
- D. Soustraire 40



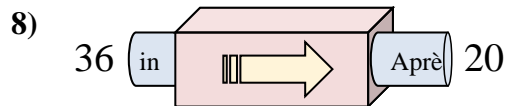
- A. Soustraire 12
- B. Soustraire 14
- C. Soustraire 13
- D. Ajouter 11



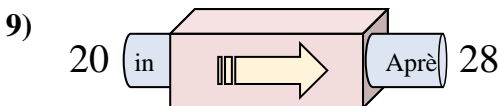
- A. Ajouter 6
- B. Soustraire 8
- C. Soustraire 9
- D. Soustraire 4



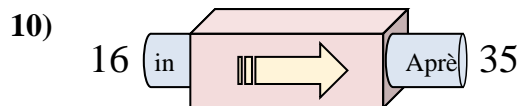
- A. Soustraire 13
- B. Soustraire 14
- C. Ajouter 18
- D. Ajouter 14



- A. Soustraire 16
- B. Soustraire 11
- C. Ajouter 16
- D. Soustraire 13



- A. Ajouter 5
- B. Ajouter 8
- C. Soustraire 11
- D. Ajouter 7

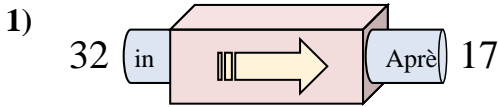


- A. Ajouter 24
- B. Ajouter 19
- C. Soustraire 16
- D. Soustraire 24

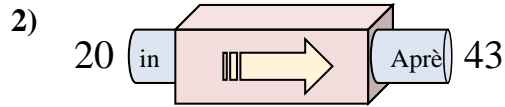
1. _____
2. _____
3. _____
4. _____
5. _____
6. _____
7. _____
8. _____
9. _____
10. _____



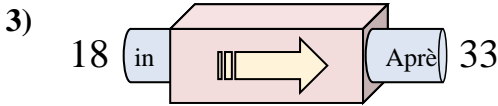
Déterminez la règle appliquée à chaque machine à fonctions.

Réponses

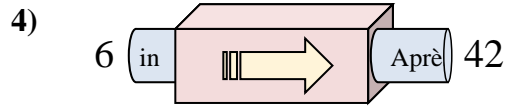
- A. Soustraire 20
- B. Soustraire 14
- C. Ajouter 12
- D. Soustraire 15



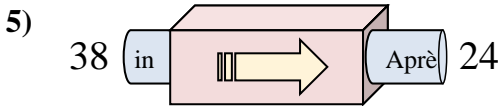
- A. Ajouter 24
- B. Ajouter 21
- C. Ajouter 20
- D. Ajouter 23



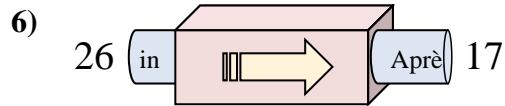
- A. Ajouter 15
- B. Soustraire 19
- C. Ajouter 17
- D. Ajouter 10



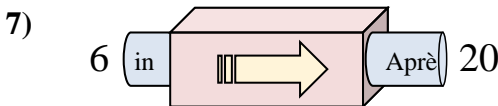
- A. Ajouter 31
- B. Soustraire 31
- C. Ajouter 36
- D. Soustraire 40



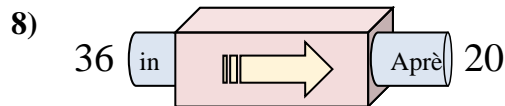
- A. Soustraire 12
- B. Soustraire 14
- C. Soustraire 13
- D. Ajouter 11



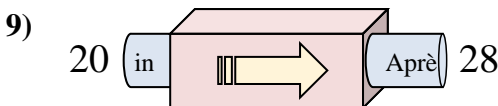
- A. Ajouter 6
- B. Soustraire 8
- C. Soustraire 9
- D. Soustraire 4



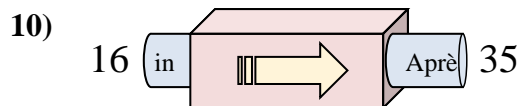
- A. Soustraire 13
- B. Soustraire 14
- C. Ajouter 18
- D. Ajouter 14



- A. Soustraire 16
- B. Soustraire 11
- C. Ajouter 16
- D. Soustraire 13



- A. Ajouter 5
- B. Ajouter 8
- C. Soustraire 11
- D. Ajouter 7



- A. Ajouter 24
- B. Ajouter 19
- C. Soustraire 16
- D. Soustraire 24

1. **D**
2. **D**
3. **A**
4. **C**
5. **B**
6. **C**
7. **D**
8. **A**
9. **B**
10. **B**