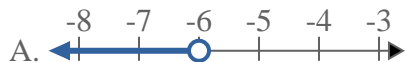
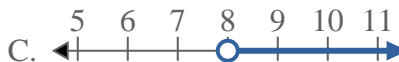
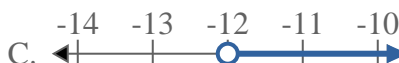
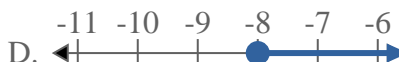
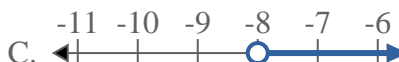
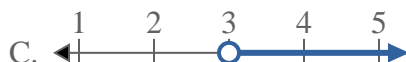
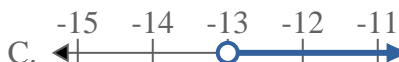




Résoudre chaque problème.

Réponses

1) Quelle réponse représente le mieux $X < -6$ 2) Quelle réponse représente le mieux $X < 8$ 3) Quelle réponse représente le mieux $X \leq 5$ 4) Quelle réponse représente le mieux $X \geq -12$ 5) Quelle réponse représente le mieux $X \geq -18$ 6) Quelle réponse représente le mieux $X \geq -8$ 7) Quelle réponse représente le mieux $X < 3$ 8) Quelle réponse représente le mieux $X < -13$ 

1. _____

2. _____

3. _____

4. _____

5. _____

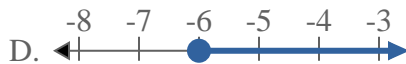
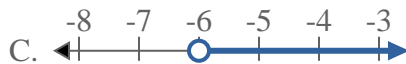
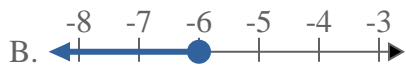
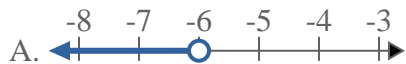
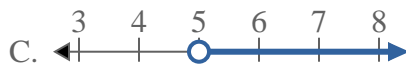
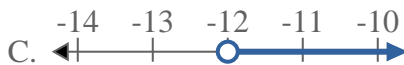
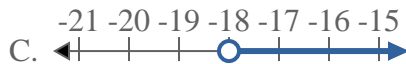
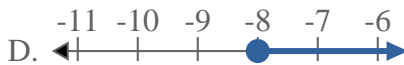
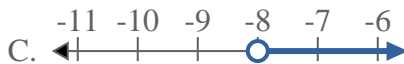
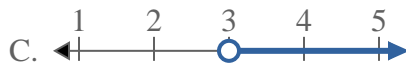
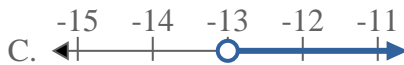
6. _____

7. _____

8. _____



Résoudre chaque problème.

Réponses1) Quelle réponse représente le mieux $X < -6$ 2) Quelle réponse représente le mieux $X < 8$ 3) Quelle réponse représente le mieux $X \leq 5$ 4) Quelle réponse représente le mieux $X \geq -12$ 5) Quelle réponse représente le mieux $X \geq -18$ 6) Quelle réponse représente le mieux $X \geq -8$ 7) Quelle réponse représente le mieux $X < 3$ 8) Quelle réponse représente le mieux $X < -13$ 1. **A**2. **A**3. **B**4. **D**5. **D**6. **D**7. **A**8. **A**