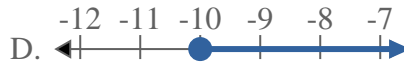
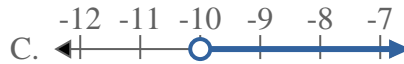
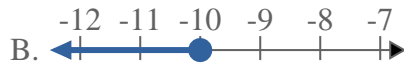
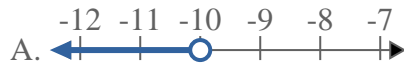
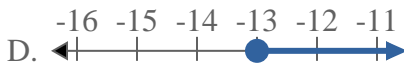
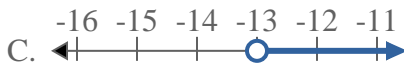
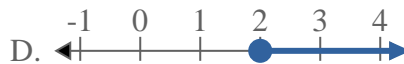
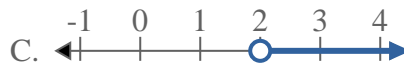




Résoudre chaque problème.

**Réponses**1) Quelle réponse représente le mieux  $X \geq 7$ 2) Quelle réponse représente le mieux  $X > 4$ 3) Quelle réponse représente le mieux  $X \geq -20$ 4) Quelle réponse représente le mieux  $X \leq 14$ 5) Quelle réponse représente le mieux  $X \geq 7$ 6) Quelle réponse représente le mieux  $X \geq -10$ 7) Quelle réponse représente le mieux  $X > -13$ 8) Quelle réponse représente le mieux  $X > 2$ 

1. \_\_\_\_\_

2. \_\_\_\_\_

3. \_\_\_\_\_

4. \_\_\_\_\_

5. \_\_\_\_\_

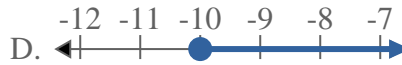
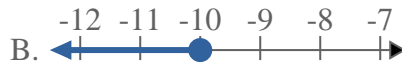
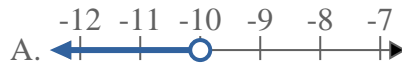
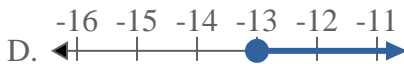
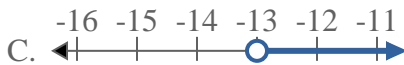
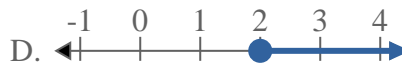
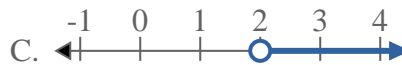
6. \_\_\_\_\_

7. \_\_\_\_\_

8. \_\_\_\_\_



Résoudre chaque problème.

**Réponses**1) Quelle réponse représente le mieux  $X \geq 7$ 2) Quelle réponse représente le mieux  $X > 4$ 3) Quelle réponse représente le mieux  $X \geq -20$ 4) Quelle réponse représente le mieux  $X \leq 14$ 5) Quelle réponse représente le mieux  $X \geq 7$ 6) Quelle réponse représente le mieux  $X \geq -10$ 7) Quelle réponse représente le mieux  $X > -13$ 8) Quelle réponse représente le mieux  $X > 2$ 1. **D**2. **C**3. **D**4. **B**5. **D**6. **D**7. **C**8. **C**