




Résoudre chaque problème.


Ex) Quel est le ration de moons par rapport à étoiles?




1) Quel est le ration de moons par rapport à triangles?



2) Quel est le ration de hearts par rapport à carrés?




3) Quel est le ration de triangles par rapport à hearts?



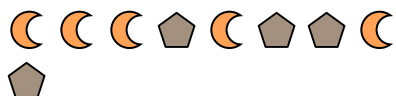
4) Quel est le ration de étoiles par rapport à hearts?



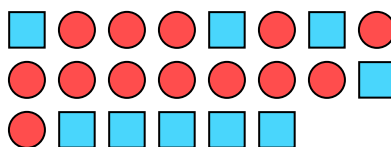
5) Quel est le ration de étoiles par rapport à triangles?



6) Quel est le ration de pentagone par rapport à moons?



7) Quel est le ration de cercles par rapport à carrés?



8) Quel est le ration de étoiles par rapport à pentagone?



9) Quel est le ration de triangles par rapport à étoiles?



10) Quel est le ration de étoiles par rapport à cercles?



11) Quel est le ration de étoiles par rapport à hearts?



Réponses

Ex. 5:10

1. 14:13

2. 11:7

3. 14:15

4. 8:3

5. 2:3

6. 4:5

7. 13:9

8. 15:7

9. 10:8

10. 2:4

11. 2:11