




Résoudre chaque problème.

**Réponses**

Ex) Quel est le ration de triangles par rapport à pentagone?

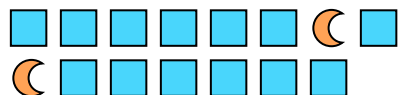


1) Quel est le ration de étoiles par rapport à moons?




Ex. **4:12**

2) Quel est le ration de moons par rapport à carrés?



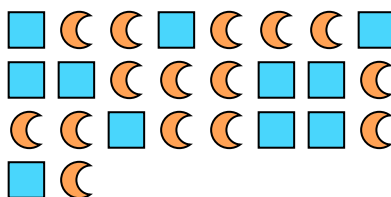
3) Quel est le ration de pentagone par rapport à moons?



4) Quel est le ration de étoiles par rapport à pentagone?




5) Quel est le ration de moons par rapport à carrés?




6) Quel est le ration de étoiles par rapport à cercles?



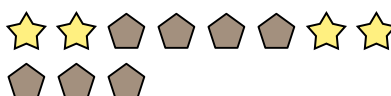
7) Quel est le ration de cercles par rapport à étoiles?



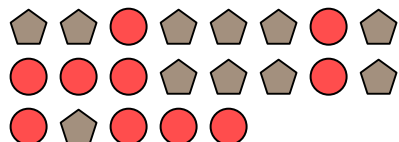
8) Quel est le ration de cercles par rapport à moons?




9) Quel est le ration de pentagone par rapport à étoiles?



10) Quel est le ration de pentagone par rapport à cercles?



11) Quel est le ration de carrés par rapport à hearts?



- 1. \_\_\_\_\_
- 2. \_\_\_\_\_
- 3. \_\_\_\_\_
- 4. \_\_\_\_\_
- 5. \_\_\_\_\_
- 6. \_\_\_\_\_
- 7. \_\_\_\_\_
- 8. \_\_\_\_\_
- 9. \_\_\_\_\_
- 10. \_\_\_\_\_
- 11. \_\_\_\_\_



Résoudre chaque problème.

Ex) Quel est le ration de triangles par rapport à pentagone?



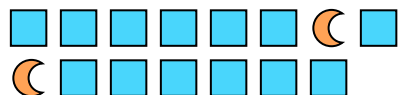
1) Quel est le ration de étoiles par rapport à moons?




**Réponses**

Ex. 4:12

2) Quel est le ration de moons par rapport à carrés?



3) Quel est le ration de pentagone par rapport à moons?



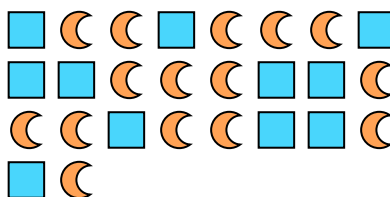
1. 9:12

2. 2:13

4) Quel est le ration de étoiles par rapport à pentagone?



5) Quel est le ration de moons par rapport à carrés?



3. 10:13

4. 12:5


5. 15:11

6. 7:9

6) Quel est le ration de étoiles par rapport à cercles?



7) Quel est le ration de cercles par rapport à étoiles?



7. 12:7


8. 8:15

9. 7:4

10. 11:10

11. 4:6

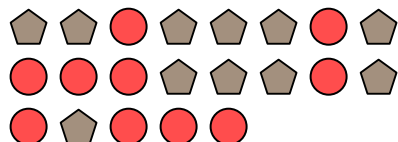
8) Quel est le ration de cercles par rapport à moons?



9) Quel est le ration de pentagone par rapport à étoiles?



10) Quel est le ration de pentagone par rapport à cercles?



11) Quel est le ration de carrés par rapport à hearts?

