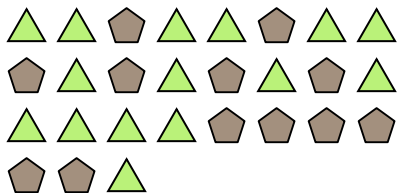





Résoudre chaque problème.

**Réponses**

Ex) Quel est le ration de pentagone par rapport à triangles?




1) Quel est le ration de cercles par rapport à moons?




Ex. **12:15**

2) Quel est le ration de étoiles par rapport à carrés?



3) Quel est le ration de moons par rapport à pentagone?



4) Quel est le ration de hearts par rapport à moons?




5) Quel est le ration de étoiles par rapport à triangles?



6) Quel est le ration de moons par rapport à étoiles?




7) Quel est le ration de pentagone par rapport à hearts?



8) Quel est le ration de pentagone par rapport à étoiles?



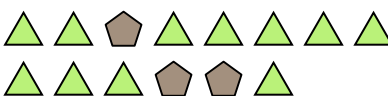
9) Quel est le ration de cercles par rapport à moons?



10) Quel est le ration de étoiles par rapport à moons?



11) Quel est le ration de triangles par rapport à pentagone?

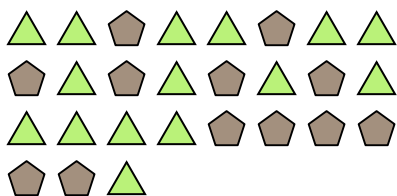


- 1. \_\_\_\_\_
- 2. \_\_\_\_\_
- 3. \_\_\_\_\_
- 4. \_\_\_\_\_
- 5. \_\_\_\_\_
- 6. \_\_\_\_\_
- 7. \_\_\_\_\_
- 8. \_\_\_\_\_
- 9. \_\_\_\_\_
- 10. \_\_\_\_\_
- 11. \_\_\_\_\_



Résoudre chaque problème.

Ex) Quel est le ration de pentagone par rapport à triangles?



2) Quel est le ration de étoiles par rapport à carrés?



4) Quel est le ration de hearts par rapport à moons?



6) Quel est le ration de moons par rapport à étoiles?




8) Quel est le ration de pentagone par rapport à étoiles?




10) Quel est le ration de étoiles par rapport à moons?



1) Quel est le ration de cercles par rapport à moons?




3) Quel est le ration de moons par rapport à pentagone?




5) Quel est le ration de étoiles par rapport à triangles?



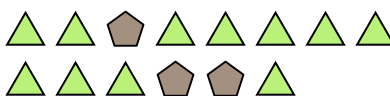
7) Quel est le ration de pentagone par rapport à hearts?



9) Quel est le ration de cercles par rapport à moons?



11) Quel est le ration de triangles par rapport à pentagone?



**Réponses**

Ex. 12:15

1. 11:11

2. 7:9

3. 3:15

4. 9:2

5. 4:11

6. 12:8

7. 8:10

8. 11:2

9. 15:11

10. 4:5

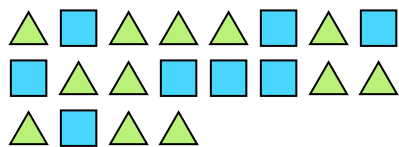
11. 11:3




Résoudre chaque problème.

**Réponses**

Ex) Quel est le ration de triangles par rapport à carrés?



1) Quel est le ration de étoiles par rapport à carrés?



Ex. **12:8**

2) Quel est le ration de moons par rapport à étoiles?



3) Quel est le ration de moons par rapport à étoiles?



1. \_\_\_\_\_

2. \_\_\_\_\_

3. \_\_\_\_\_

4. \_\_\_\_\_

5. \_\_\_\_\_

6. \_\_\_\_\_

7. \_\_\_\_\_


8. \_\_\_\_\_

9. \_\_\_\_\_

10. \_\_\_\_\_

11. \_\_\_\_\_

4) Quel est le ration de étoiles par rapport à hearts?



5) Quel est le ration de triangles par rapport à hearts?



6) Quel est le ration de hearts par rapport à moons?



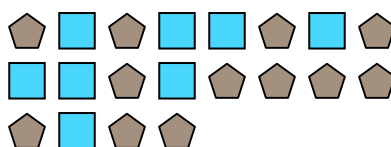
7) Quel est le ration de hearts par rapport à étoiles?



8) Quel est le ration de hearts par rapport à cercles?




9) Quel est le ration de carrés par rapport à pentagone?



10) Quel est le ration de hearts par rapport à pentagone?



11) Quel est le ration de carrés par rapport à étoiles?







Résoudre chaque problème.

**Réponses**

Ex) Quel est le ration de moons par rapport à hearts?



1) Quel est le ration de étoiles par rapport à hearts?

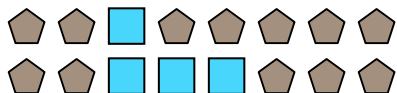


Ex. **15:7**


1. \_\_\_\_\_

2. \_\_\_\_\_

2) Quel est le ration de carrés par rapport à pentagone?



3) Quel est le ration de hearts par rapport à carrés?




3. \_\_\_\_\_

4. \_\_\_\_\_


5. \_\_\_\_\_

6. \_\_\_\_\_

4) Quel est le ration de étoiles par rapport à cercles?



5) Quel est le ration de hearts par rapport à moons?

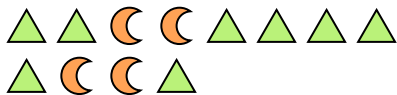


7. \_\_\_\_\_

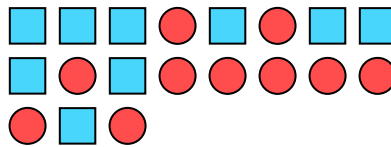
8. \_\_\_\_\_

9. \_\_\_\_\_

6) Quel est le ration de moons par rapport à triangles?



7) Quel est le ration de carrés par rapport à cercles?




10. \_\_\_\_\_

11. \_\_\_\_\_

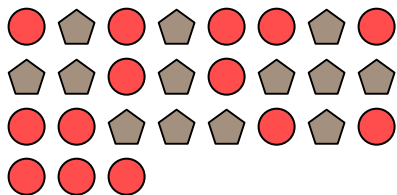
8) Quel est le ration de étoiles par rapport à hearts?




9) Quel est le ration de triangles par rapport à hearts?



10) Quel est le ration de cercles par rapport à pentagone?



11) Quel est le ration de étoiles par rapport à carrés?





Résoudre chaque problème.

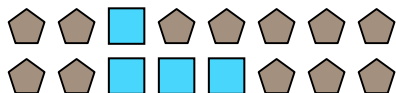
Ex) Quel est le ration de moons par rapport à hearts?




1) Quel est le ration de étoiles par rapport à hearts?




2) Quel est le ration de carrés par rapport à pentagone?




3) Quel est le ration de hearts par rapport à carrés?



4) Quel est le ration de étoiles par rapport à cercles?



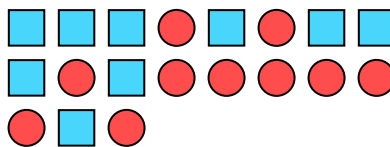
5) Quel est le ration de hearts par rapport à moons?



6) Quel est le ration de moons par rapport à triangles?



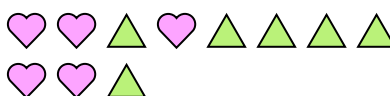
7) Quel est le ration de carrés par rapport à cercles?



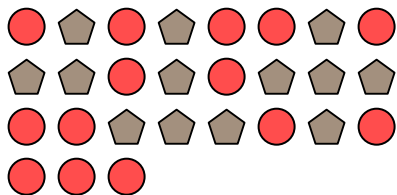
8) Quel est le ration de étoiles par rapport à hearts?




9) Quel est le ration de triangles par rapport à hearts?



10) Quel est le ration de cercles par rapport à pentagone?



11) Quel est le ration de étoiles par rapport à carrés?



**Réponses**

Ex. 15:7

1. 3:10

2. 4:12

3. 6:3

4. 2:15

5. 9:10

6. 4:8

7. 9:10

8. 2:8

9. 6:5

10. 14:13

11. 7:10



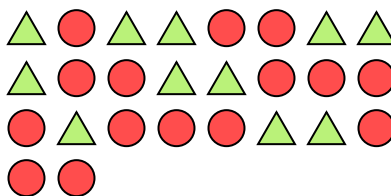
Résoudre chaque problème.

**Réponses**

Ex) Quel est le ration de triangles par rapport à étoiles?



1) Quel est le ration de cercles par rapport à triangles?

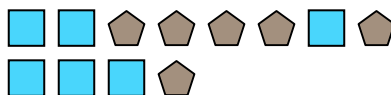


Ex. **3:9**

2) Quel est le ration de pentagone par rapport à moons?



3) Quel est le ration de carrés par rapport à pentagone?



1. \_\_\_\_\_

2. \_\_\_\_\_

3. \_\_\_\_\_

4. \_\_\_\_\_

5. \_\_\_\_\_

6. \_\_\_\_\_

7. \_\_\_\_\_

8. \_\_\_\_\_

9. \_\_\_\_\_

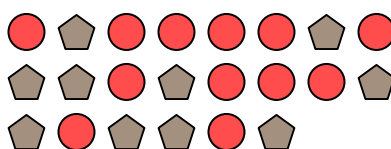
10. \_\_\_\_\_

11. \_\_\_\_\_

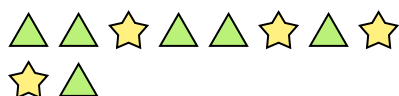
4) Quel est le ration de moons par rapport à hearts?




5) Quel est le ration de cercles par rapport à pentagone?




6) Quel est le ration de triangles par rapport à étoiles?




7) Quel est le ration de hearts par rapport à cercles?




8) Quel est le ration de hearts par rapport à cercles?



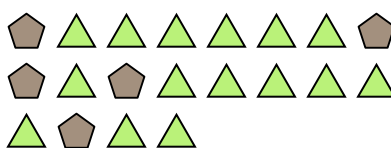
9) Quel est le ration de hearts par rapport à cercles?



10) Quel est le ration de carrés par rapport à moons?



11) Quel est le ration de triangles par rapport à pentagone?













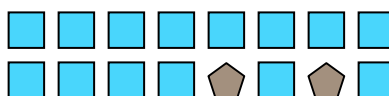
Résoudre chaque problème.

**Réponses**

Ex) Quel est le ration de moons par rapport à carrés?



1) Quel est le ration de carrés par rapport à pentagone?




Ex. **6:2**


2) Quel est le ration de étoiles par rapport à triangles?



3) Quel est le ration de étoiles par rapport à triangles?



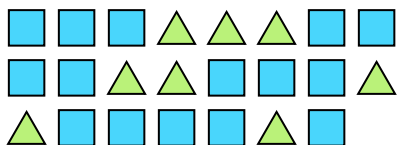
4) Quel est le ration de moons par rapport à cercles?




5) Quel est le ration de carrés par rapport à pentagone?



6) Quel est le ration de triangles par rapport à carrés?



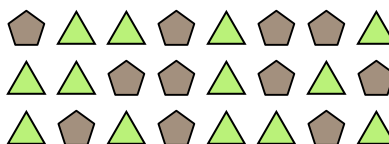
7) Quel est le ration de étoiles par rapport à cercles?



8) Quel est le ration de étoiles par rapport à hearts?



9) Quel est le ration de triangles par rapport à pentagone?



10) Quel est le ration de cercles par rapport à moons?



11) Quel est le ration de hearts par rapport à étoiles?



- 1. \_\_\_\_\_
- 2. \_\_\_\_\_
- 3. \_\_\_\_\_
- 4. \_\_\_\_\_
- 5. \_\_\_\_\_
- 6. \_\_\_\_\_
- 7. \_\_\_\_\_
- 8. \_\_\_\_\_
- 9. \_\_\_\_\_
- 10. \_\_\_\_\_
- 11. \_\_\_\_\_

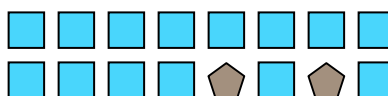


Résoudre chaque problème.

Ex) Quel est le ration de moons par rapport à carrés?




1) Quel est le ration de carrés par rapport à pentagone?




2) Quel est le ration de étoiles par rapport à triangles?



3) Quel est le ration de étoiles par rapport à triangles?



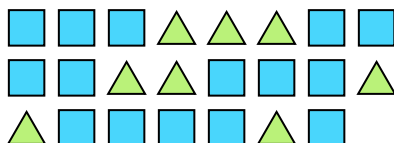
4) Quel est le ration de moons par rapport à cercles?




5) Quel est le ration de carrés par rapport à pentagone?



6) Quel est le ration de triangles par rapport à carrés?



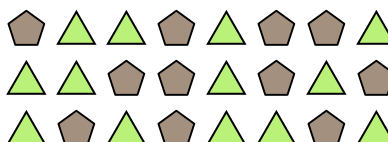
7) Quel est le ration de étoiles par rapport à cercles?



8) Quel est le ration de étoiles par rapport à hearts?



9) Quel est le ration de triangles par rapport à pentagone?



10) Quel est le ration de cercles par rapport à moons?



11) Quel est le ration de hearts par rapport à étoiles?



**Réponses**

Ex. 6:2

1. 14:2

2. 11:8

3. 13:12

4. 5:9

5. 4:3

6. 8:15

7. 9:15

8. 6:7

9. 13:11

10. 3:2


11. 3:9



Résoudre chaque problème.

**Réponses**

Ex) Quel est le ration de étoiles par rapport à pentagone?



1) Quel est le ration de pentagone par rapport à étoiles?



Ex. **15:10**

1. \_\_\_\_\_

2. \_\_\_\_\_

3. \_\_\_\_\_

4. \_\_\_\_\_

5. \_\_\_\_\_

6. \_\_\_\_\_

7. \_\_\_\_\_

8. \_\_\_\_\_

9. \_\_\_\_\_

10. \_\_\_\_\_

11. \_\_\_\_\_


2) Quel est le ration de hearts par rapport à carrés?



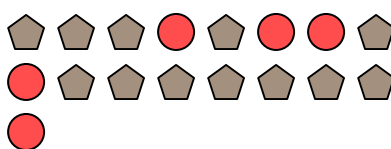
3) Quel est le ration de pentagone par rapport à étoiles?




4) Quel est le ration de étoiles par rapport à cercles?



5) Quel est le ration de cercles par rapport à pentagone?



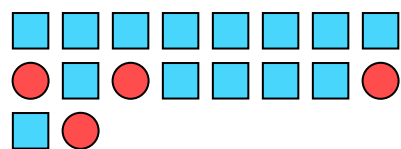
6) Quel est le ration de pentagone par rapport à hearts?



7) Quel est le ration de triangles par rapport à pentagone?



8) Quel est le ration de carrés par rapport à cercles?



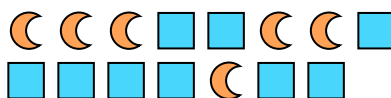
9) Quel est le ration de étoiles par rapport à pentagone?



10) Quel est le ration de moons par rapport à hearts?




11) Quel est le ration de moons par rapport à carrés?





Résoudre chaque problème.

Ex) Quel est le ration de étoiles par rapport à pentagone?



1) Quel est le ration de pentagone par rapport à étoiles?




2) Quel est le ration de hearts par rapport à carrés?



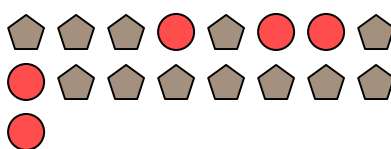
3) Quel est le ration de pentagone par rapport à étoiles?




4) Quel est le ration de étoiles par rapport à cercles?



5) Quel est le ration de cercles par rapport à pentagone?



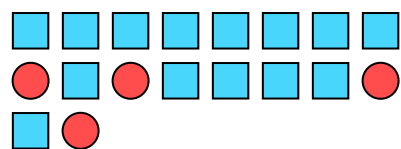
6) Quel est le ration de pentagone par rapport à hearts?



7) Quel est le ration de triangles par rapport à pentagone?



8) Quel est le ration de carrés par rapport à cercles?



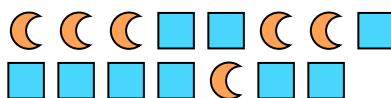
9) Quel est le ration de étoiles par rapport à pentagone?



10) Quel est le ration de moons par rapport à hearts?



11) Quel est le ration de moons par rapport à carrés?



**Réponses**

Ex. 15:10

1. 8:12

2. 10:2

3. 11:5

4. 3:10

5. 5:12

6. 14:15

7. 8:6

8. 14:4

9. 7:5

10. 8:5

11. 6:9



Résoudre chaque problème.

**Réponses**

Ex) Quel est le ration de triangles par rapport à pentagone?




1) Quel est le ration de étoiles par rapport à moons?




Ex. **4:12**

2) Quel est le ration de moons par rapport à carrés?



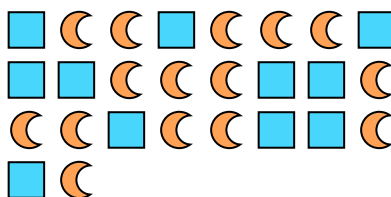
3) Quel est le ration de pentagone par rapport à moons?



4) Quel est le ration de étoiles par rapport à pentagone?




5) Quel est le ration de moons par rapport à carrés?




6) Quel est le ration de étoiles par rapport à cercles?



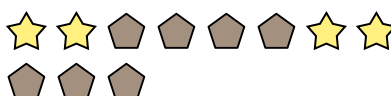
7) Quel est le ration de cercles par rapport à étoiles?



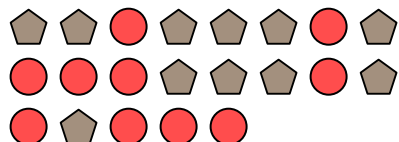
8) Quel est le ration de cercles par rapport à moons?




9) Quel est le ration de pentagone par rapport à étoiles?



10) Quel est le ration de pentagone par rapport à cercles?



11) Quel est le ration de carrés par rapport à hearts?



- 1. \_\_\_\_\_
- 2. \_\_\_\_\_
- 3. \_\_\_\_\_
- 4. \_\_\_\_\_
- 5. \_\_\_\_\_
- 6. \_\_\_\_\_
- 7. \_\_\_\_\_
- 8. \_\_\_\_\_
- 9. \_\_\_\_\_
- 10. \_\_\_\_\_
- 11. \_\_\_\_\_







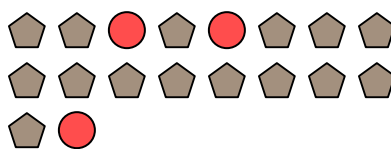
Résoudre chaque problème.

**Réponses**

Ex) Quel est le ration de étoiles par rapport à pentagone?




1) Quel est le ration de cercles par rapport à pentagone?




Ex. **6:3**

2) Quel est le ration de cercles par rapport à moons?



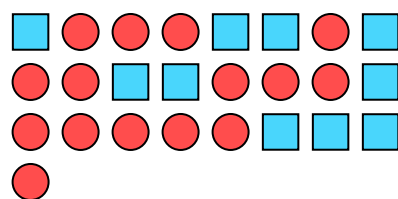
3) Quel est le ration de triangles par rapport à moons?



1. \_\_\_\_\_

2. \_\_\_\_\_

4) Quel est le ration de cercles par rapport à carrés?



5) Quel est le ration de hearts par rapport à étoiles?



3. \_\_\_\_\_

4. \_\_\_\_\_

5. \_\_\_\_\_

6. \_\_\_\_\_

7. \_\_\_\_\_

8. \_\_\_\_\_

9. \_\_\_\_\_

6) Quel est le ration de cercles par rapport à triangles?



7) Quel est le ration de hearts par rapport à pentagone?



10. \_\_\_\_\_

11. \_\_\_\_\_


8) Quel est le ration de pentagone par rapport à étoiles?




9) Quel est le ration de étoiles par rapport à triangles?



10) Quel est le ration de carrés par rapport à moons?



11) Quel est le ration de étoiles par rapport à cercles?



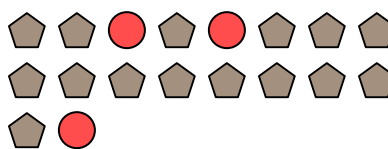


Résoudre chaque problème.

Ex) Quel est le ration de étoiles par rapport à pentagone?



1) Quel est le ration de cercles par rapport à pentagone?




**Réponses**

Ex. 6:3

2) Quel est le ration de cercles par rapport à moons?



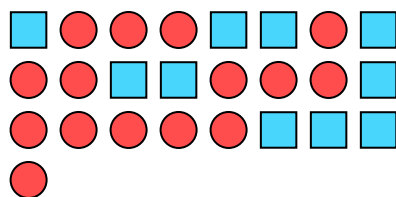
3) Quel est le ration de triangles par rapport à moons?



1. 3:15

2. 4:5

4) Quel est le ration de cercles par rapport à carrés?



5) Quel est le ration de hearts par rapport à étoiles?



3. 4:13

4. 15:10

5. 2:13

6. 3:4

7. 5:6

8. 5:4

9. 5:15

6) Quel est le ration de cercles par rapport à triangles?



7) Quel est le ration de hearts par rapport à pentagone?



10. 8:15

11. 13:6


8) Quel est le ration de pentagone par rapport à étoiles?




9) Quel est le ration de étoiles par rapport à triangles?



10) Quel est le ration de carrés par rapport à moons?



11) Quel est le ration de étoiles par rapport à cercles?






Résoudre chaque problème.

**Réponses**

Ex) Quel est le ration de moons par rapport à étoiles?




1) Quel est le ration de moons par rapport à triangles?




Ex. **5:10**

2) Quel est le ration de hearts par rapport à carrés?




3) Quel est le ration de triangles par rapport à hearts?



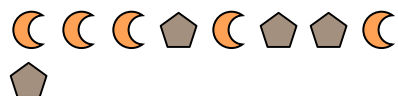
4) Quel est le ration de étoiles par rapport à hearts?



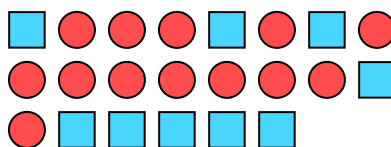
5) Quel est le ration de étoiles par rapport à triangles?



6) Quel est le ration de pentagone par rapport à moons?




7) Quel est le ration de cercles par rapport à carrés?



8) Quel est le ration de étoiles par rapport à pentagone?



9) Quel est le ration de triangles par rapport à étoiles?



10) Quel est le ration de étoiles par rapport à cercles?



11) Quel est le ration de étoiles par rapport à hearts?



- 1. \_\_\_\_\_
- 2. \_\_\_\_\_
- 3. \_\_\_\_\_
- 4. \_\_\_\_\_
- 5. \_\_\_\_\_
- 6. \_\_\_\_\_
- 7. \_\_\_\_\_
- 8. \_\_\_\_\_
- 9. \_\_\_\_\_
- 10. \_\_\_\_\_
- 11. \_\_\_\_\_




Résoudre chaque problème.


Ex) Quel est le ration de moons par rapport à étoiles?




1) Quel est le ration de moons par rapport à triangles?



2) Quel est le ration de hearts par rapport à carrés?




3) Quel est le ration de triangles par rapport à hearts?



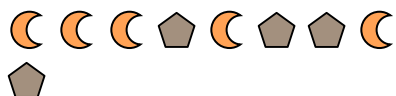
4) Quel est le ration de étoiles par rapport à hearts?



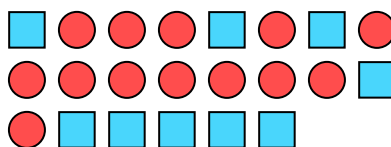
5) Quel est le ration de étoiles par rapport à triangles?



6) Quel est le ration de pentagone par rapport à moons?




7) Quel est le ration de cercles par rapport à carrés?



8) Quel est le ration de étoiles par rapport à pentagone?



9) Quel est le ration de triangles par rapport à étoiles?



10) Quel est le ration de étoiles par rapport à cercles?



11) Quel est le ration de étoiles par rapport à hearts?



**Réponses**

Ex. 5:10

1. 14:13

2. 11:7

3. 14:15

4. 8:3

5. 2:3

6. 4:5

7. 13:9

8. 15:7

9. 10:8

10. 2:4

11. 2:11