



Effectuez une rotation de chaque figure, en indiquant les nouvelles coordonnées.

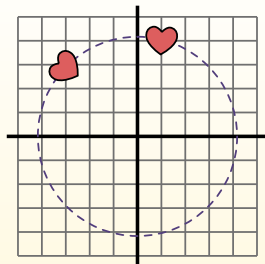
$\theta = \hat{\text{Ângulo de rotação}}$

Fórmula de rotação

$$x1 = x \times \cos(\theta) - y \times \sin(\theta)$$

$$y1 = x \times \sin(\theta) + y \times \cos(\theta)$$

En el ejemplo de la derecha, la forma está en las coordenadas (1,4).



Vamos encontrar as coordenadas se girarmos a forma em 60°.

$$1. \quad \begin{aligned} x1 &= 1 \times \cos(60) - 4 \times \sin(60) \\ y1 &= 1 \times \sin(60) + 4 \times \cos(60) \end{aligned}$$

$$2. \quad \begin{aligned} x1 &= 1 \times 0.5 - 4 \times 0.87 \\ y1 &= 1 \times 0.87 + 4 \times 0.5 \end{aligned}$$

$$3. \quad \begin{aligned} x1 &= 0.5 - 3.48 \\ y1 &= 0.87 + 2 \end{aligned}$$

$$4. \quad \begin{aligned} x1 &= -2.98 \\ y1 &= 2.87 \end{aligned}$$

5. Al observar la forma, podemos ver que girado 60° está en (-2.98, 2.87).

Réponses

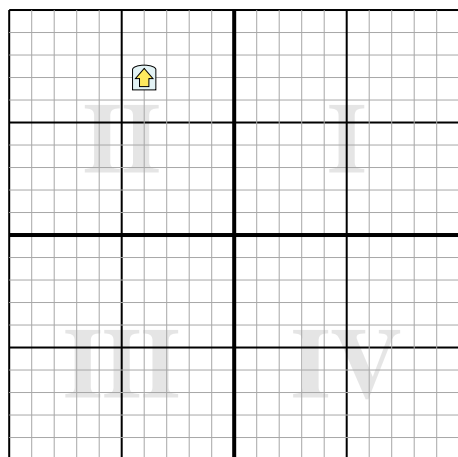
1. _____

2. _____

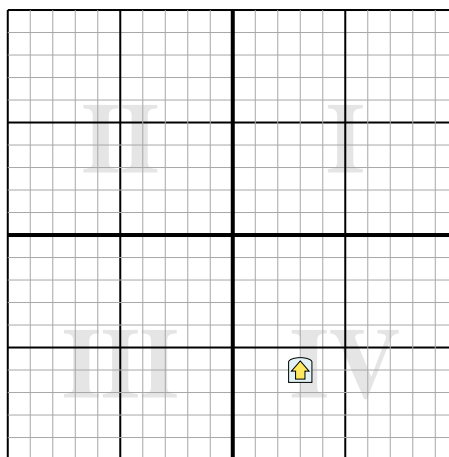
3. _____

4. _____

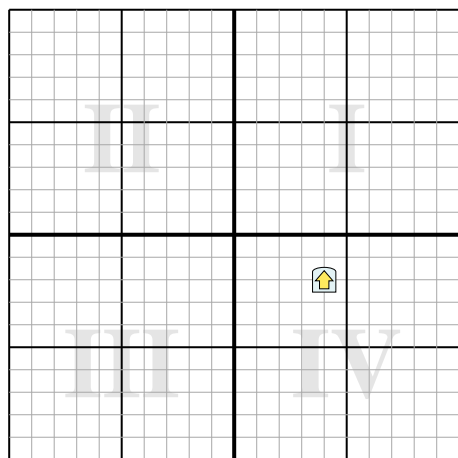
1) Effectuez une rotation de 91° autour du point (0,0).



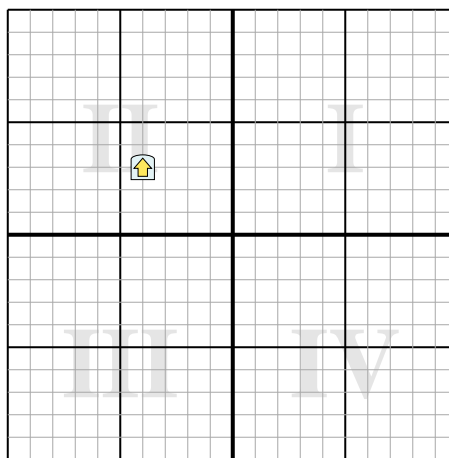
2) Effectuez une rotation de -105° autour du point (0,0).



3) Effectuez une rotation de 248° autour du point (0,0).



4) Effectuez une rotation de 140° autour du point (0,0).





Effectuez une rotation de chaque figure, en indiquant les nouvelles coordonnées.

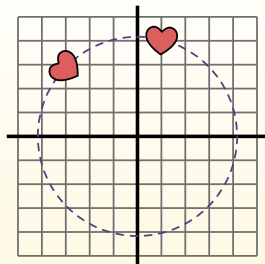
$\theta = \hat{\text{Angulo de rota\c{c}ao}}$

Fórmula de rotación

$$x1 = x \times \cos(\theta) - y \times \sin(\theta)$$

$$y1 = x \times \sin(\theta) + y \times \cos(\theta)$$

En el ejemplo de la derecha, la forma está en las coordenadas (1,4).



Vamos encontrar as coordenadas se girarmos a forma em 60°.

$$1. \quad \begin{aligned} x1 &= 1 \times \cos(60) - 4 \times \sin(60) \\ y1 &= 1 \times \sin(60) + 4 \times \cos(60) \end{aligned}$$

$$2. \quad \begin{aligned} x1 &= 1 \times 0.5 - 4 \times 0.87 \\ y1 &= 1 \times 0.87 + 4 \times 0.5 \end{aligned}$$

$$3. \quad \begin{aligned} x1 &= 0.5 - 3.48 \\ y1 &= 0.87 + 2 \end{aligned}$$

$$4. \quad \begin{aligned} x1 &= -2.98 \\ y1 &= 2.87 \end{aligned}$$

5. Al observar la forma, podemos ver que girado 60° está en (-2.98, 2.87).

Réponses

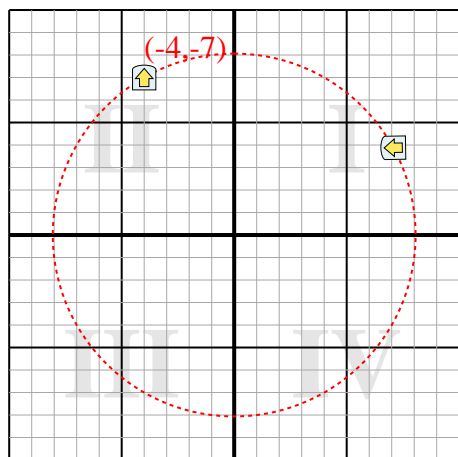
1. **(7,1,3,9)**

2. **(5,4,5)**

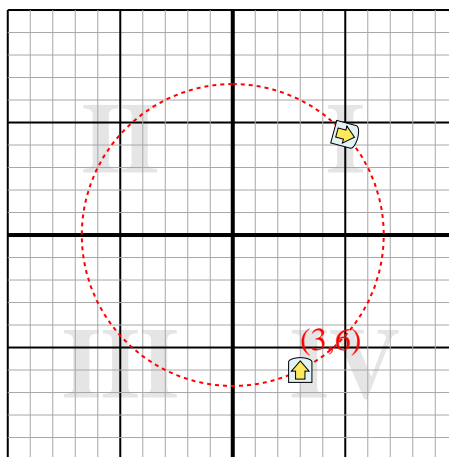
3. **(0,4,4,5)**

4. **(5,0,3)**

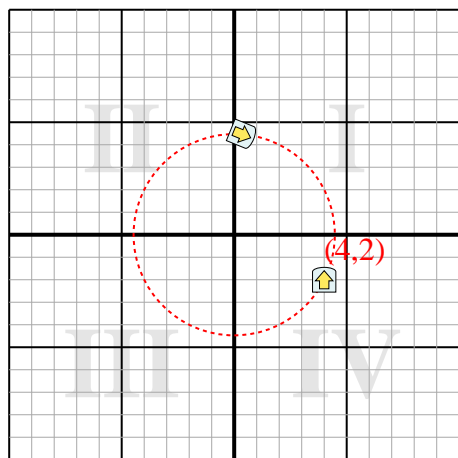
1) Effectuez une rotation de 91° autour du point (0,0).



2) Effectuez une rotation de -105° autour du point (0,0).



3) Effectuez une rotation de 248° autour du point (0,0).



4) Effectuez une rotation de 140° autour du point (0,0).

