



Avec les droites numériques arrondir chaque nombre à la centaine la plus proche.

Ex)

356



1)

1 360



2)

7 216



3)

51 669



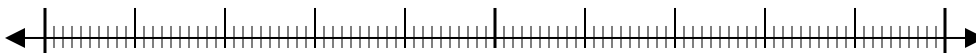
4)

670



5)

171



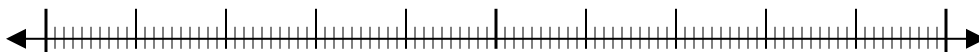
6)

80 458



7)

9 425



8)

616



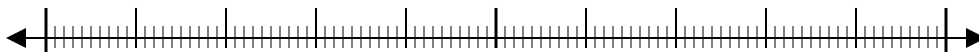
9)

88 299



10)

5 076



**Réponses**

Ex. 400

1. \_\_\_\_\_

2. \_\_\_\_\_

3. \_\_\_\_\_

4. \_\_\_\_\_

5. \_\_\_\_\_

6. \_\_\_\_\_

7. \_\_\_\_\_

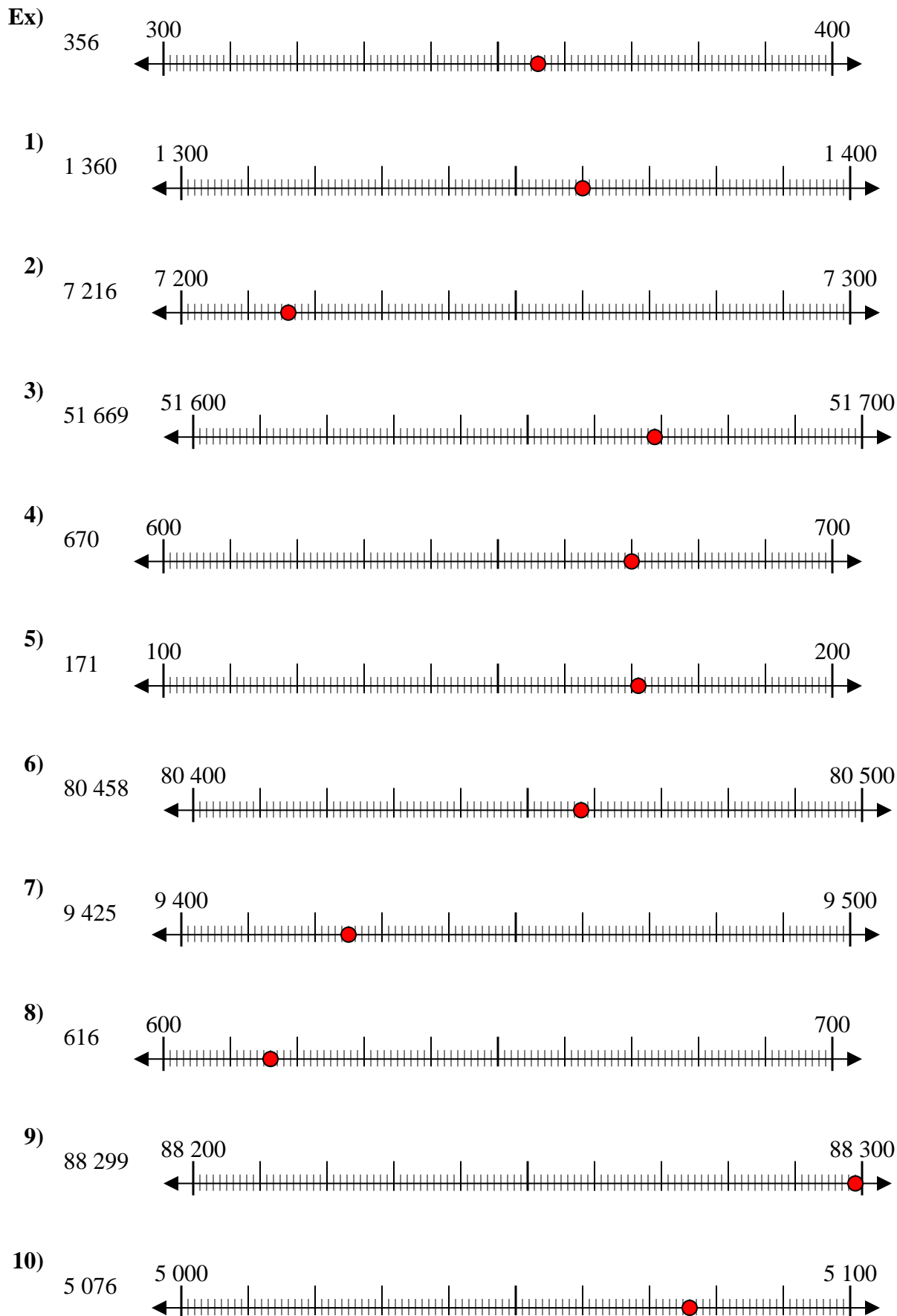
8. \_\_\_\_\_

9. \_\_\_\_\_

10. \_\_\_\_\_



Avec les droites numériques arrondir chaque nombre à la centaine la plus proche.



**Réponses**

- Ex. 400
1. 1 400
2. 7 200
3. 51 700
4. 700
5. 200
6. 80 500
7. 9 400
8. 600
9. 88 300
10. 5 100