



Avec les droites numériques arrondir chaque nombre à la centaine la plus proche.

Ex)

803



Ex. 800

1)

589



1. \_\_\_\_\_

2)

35 102



2. \_\_\_\_\_

3)

6 126



3. \_\_\_\_\_

4)

5 531



4. \_\_\_\_\_

5)

5 313



5. \_\_\_\_\_

6)

951



6. \_\_\_\_\_

7)

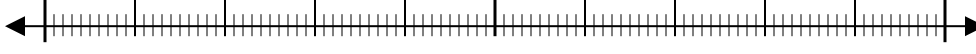
8 816



7. \_\_\_\_\_

8)

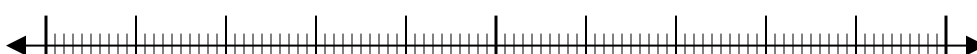
152



8. \_\_\_\_\_

9)

62 481



9. \_\_\_\_\_

10)

59 409

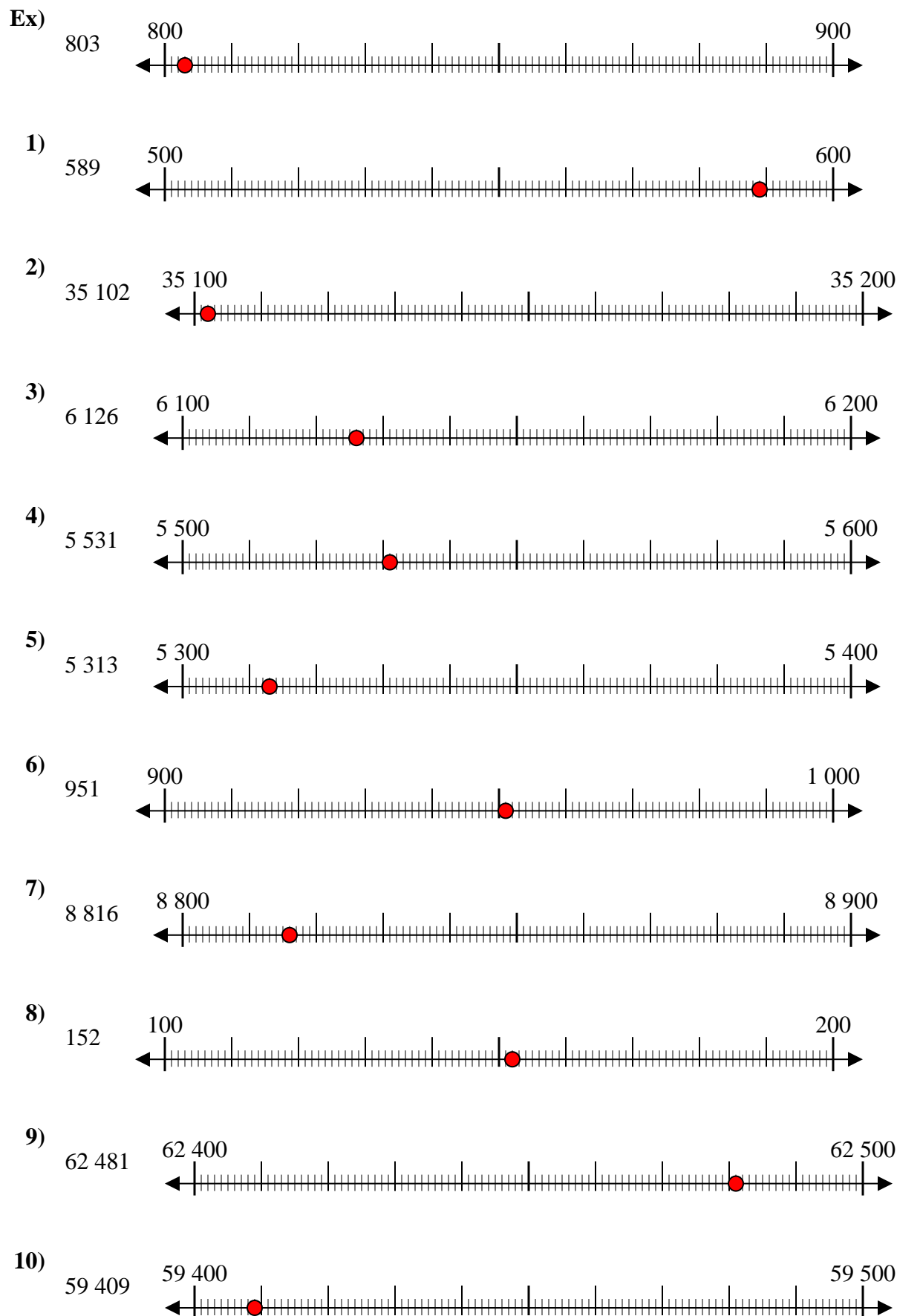


10. \_\_\_\_\_

**Réponses**



Avec les droites numériques arrondir chaque nombre à la centaine la plus proche.



**Réponses**

- Ex. 800
1. 600
2. 35 100
3. 6 100
4. 5 500
5. 5 300
6. 1 000
7. 8 800
8. 200
9. 62 500
10. 59 400