



Utilisez la méthode visuelle pour résoudre chaque problème.

Réponses

1) Il y a 15 étoiles ci-dessous.



Si vous deviez en retirer 8, combien en restera t-il?

$15 - 8 = ?$

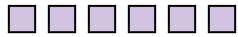
2) Il y a 8 triangles ci-dessous.



Si vous deviez en retirer 4, combien en restera t-il?

$8 - 4 = ?$

3) Il y a 6 carrés ci-dessous.



Si vous deviez en retirer 2, combien en restera t-il?

$6 - 2 = ?$

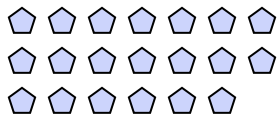
4) Il y a 5 rectangles ci-dessous.



Si vous deviez en retirer 1, combien en restera t-il?

$5 - 1 = ?$

5) Il y a 20 pentagone ci-dessous.



Si vous deviez en retirer 4, combien en restera t-il?

$20 - 4 = ?$

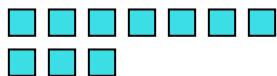
6) Il y a 8 étoiles ci-dessous.



Si vous deviez en retirer 6, combien en restera t-il?

$8 - 6 = ?$

7) Il y a 10 carrés ci-dessous.



Si vous deviez en retirer 8, combien en restera t-il?

$10 - 8 = ?$

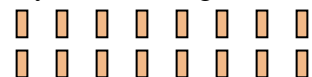
8) Il y a 19 étoiles ci-dessous.



Si vous deviez en retirer 10, combien en restera t-il?

$19 - 10 = ?$

9) Il y a 16 rectangles ci-dessous.



Si vous deviez en retirer 5, combien en restera t-il?

$16 - 5 = ?$

10) Il y a 6 carrés ci-dessous.



Si vous deviez en retirer 1, combien en restera t-il?

$6 - 1 = ?$

1. _____

2. _____

3. _____

4. _____

5. _____

6. _____

7. _____

8. _____

9. _____

10. _____



Utilisez la méthode visuelle pour résoudre chaque problème.

Réponses

1) Il y a 15 étoiles ci-dessous.



Si vous deviez en retirer 8, combien en restera t-il?

$15 - 8 = ?$

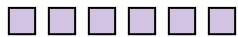
2) Il y a 8 triangles ci-dessous.



Si vous deviez en retirer 4, combien en restera t-il?

$8 - 4 = ?$

3) Il y a 6 carrés ci-dessous.



Si vous deviez en retirer 2, combien en restera t-il?

$6 - 2 = ?$

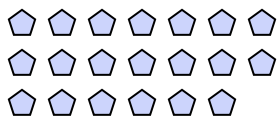
4) Il y a 5 rectangles ci-dessous.



Si vous deviez en retirer 1, combien en restera t-il?

$5 - 1 = ?$

5) Il y a 20 pentagone ci-dessous.



Si vous deviez en retirer 4, combien en restera t-il?

$20 - 4 = ?$

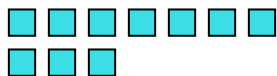
6) Il y a 8 étoiles ci-dessous.



Si vous deviez en retirer 6, combien en restera t-il?

$8 - 6 = ?$

7) Il y a 10 carrés ci-dessous.



Si vous deviez en retirer 8, combien en restera t-il?

$10 - 8 = ?$

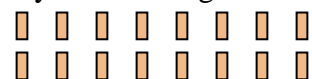
8) Il y a 19 étoiles ci-dessous.



Si vous deviez en retirer 10, combien en restera t-il?

$19 - 10 = ?$

9) Il y a 16 rectangles ci-dessous.



Si vous deviez en retirer 5, combien en restera t-il?

$16 - 5 = ?$

10) Il y a 6 carrés ci-dessous.



Si vous deviez en retirer 1, combien en restera t-il?

$6 - 1 = ?$

1. 72. 43. 44. 45. 166. 27. 28. 99. 1110. 5