





Utilisez la méthode visuelle pour résoudre chaque problème.

Réponses

- 1) Il y a 13 triangles ci-dessous.


Si vous deviez en retirer 1, combien en restera t-il?

$$13 - 1 = ?$$

- 2) Il y a 15 triangles ci-dessous.



Si vous deviez en retirer 5, combien en restera t-il?

$$15 - 5 = ?$$

- 3) Il y a 11 étoiles ci-dessous.


Si vous deviez en retirer 4, combien en restera t-il?

$$11 - 4 = ?$$

- 4) Il y a 13 carrés ci-dessous.


Si vous deviez en retirer 4, combien en restera t-il?

$$13 - 4 = ?$$

- 5) Il y a 6 étoiles ci-dessous.



Si vous deviez en retirer 1, combien en restera t-il?

$$6 - 1 = ?$$

- 6) Il y a 18 étoiles ci-dessous.

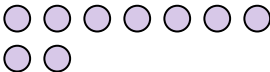

Si vous deviez en retirer 10, combien en restera t-il?

$$18 - 10 = ?$$

- 7) Il y a 10 carrés ci-dessous.


Si vous deviez en retirer 2, combien en restera t-il?

$$10 - 2 = ?$$

- 8) Il y a 9 cercles ci-dessous.


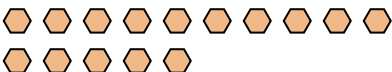
Si vous deviez en retirer 3, combien en restera t-il?

$$9 - 3 = ?$$

- 9) Il y a 5 étoiles ci-dessous.


Si vous deviez en retirer 1, combien en restera t-il?

$$5 - 1 = ?$$

- 10) Il y a 15 hexagones ci-dessous.


Si vous deviez en retirer 1, combien en restera t-il?


$$15 - 1 = ?$$

1. _____
2. _____
3. _____
4. _____
5. _____
6. _____
7. _____
8. _____
9. _____
10. _____




Utilisez la méthode visuelle pour résoudre chaque problème.

Réponses

- 1) Il y a 13 triangles ci-dessous.



Si vous deviez en retirer 1, combien en restera t-il?
 $13 - 1 = ?$

- 2) Il y a 15 triangles ci-dessous.


Si vous deviez en retirer 5, combien en restera t-il?
 $15 - 5 = ?$

- 3) Il y a 11 étoiles ci-dessous.


Si vous deviez en retirer 4, combien en restera t-il?
 $11 - 4 = ?$

- 4) Il y a 13 carrés ci-dessous.



Si vous deviez en retirer 4, combien en restera t-il?
 $13 - 4 = ?$

- 5) Il y a 6 étoiles ci-dessous.

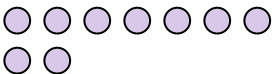

Si vous deviez en retirer 1, combien en restera t-il?
 $6 - 1 = ?$

- 6) Il y a 18 étoiles ci-dessous.


Si vous deviez en retirer 10, combien en restera t-il?
 $18 - 10 = ?$

- 7) Il y a 10 carrés ci-dessous.


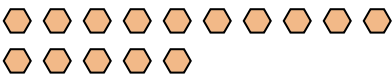
Si vous deviez en retirer 2, combien en restera t-il?
 $10 - 2 = ?$

- 8) Il y a 9 cercles ci-dessous.


Si vous deviez en retirer 3, combien en restera t-il?
 $9 - 3 = ?$

- 9) Il y a 5 étoiles ci-dessous.


Si vous deviez en retirer 1, combien en restera t-il?
 $5 - 1 = ?$

- 10) Il y a 15 hexagones ci-dessous.


Si vous deviez en retirer 1, combien en restera t-il?
 $15 - 1 = ?$

1. 12
2. 10
3. 7
4. 9
5. 5
6. 8
7. 8
8. 6
9. 4
10. 14