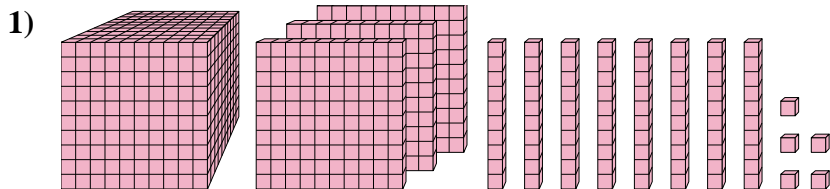




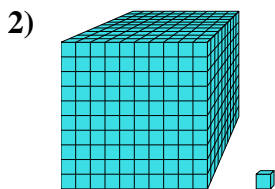
Résoudre chaque problème.

Réponses



Quel est le chiffre positionné à la unités place du nombre ci-dessus?

1. _____



Quel est le chiffre positionné à la dizaines place du nombre ci-dessus?

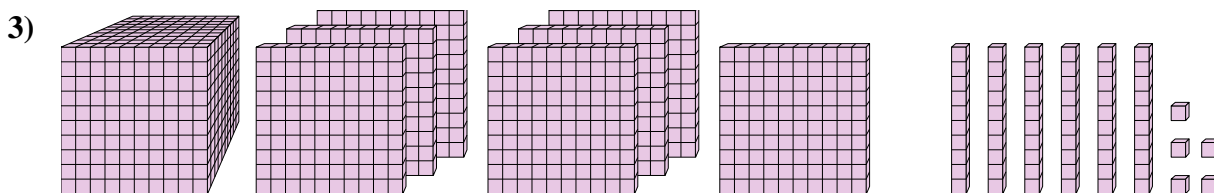
2. _____

3. _____

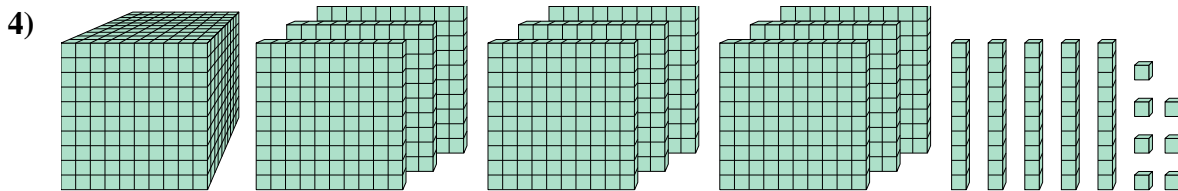
4. _____

5. _____

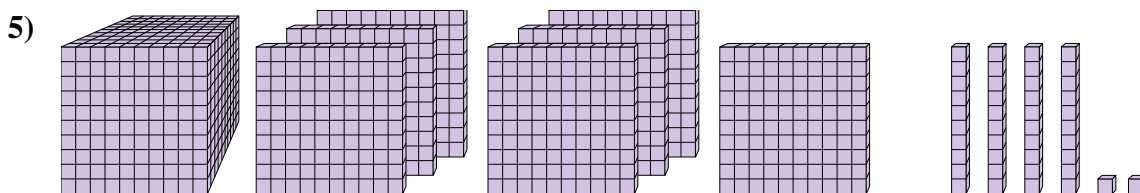
6. _____



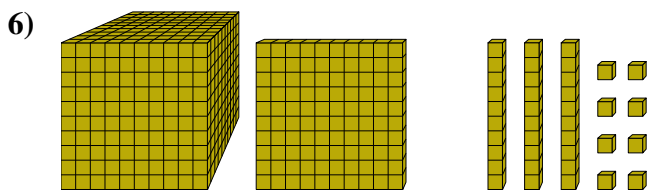
Quel est le chiffre positionné à la unités place du nombre ci-dessus?



Quel est le chiffre positionné à la centaines place du nombre ci-dessus?



Quel est le chiffre positionné à la billions place du nombre ci-dessus?

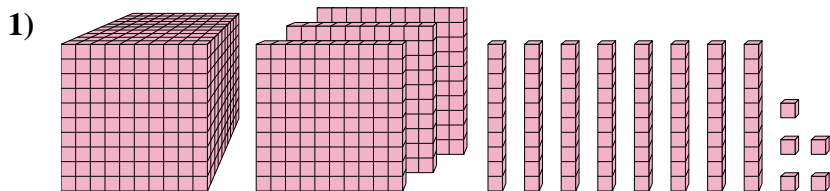


Quel est le chiffre positionné à la dizaines place du nombre ci-dessus?



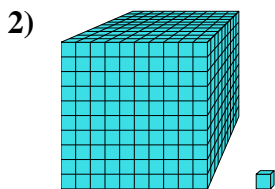
Résoudre chaque problème.

Réponses



Quel est le chiffre positionné à la unités place du nombre ci-dessus?

1. 5



Quel est le chiffre positionné à la dizaines place du nombre ci-dessus?

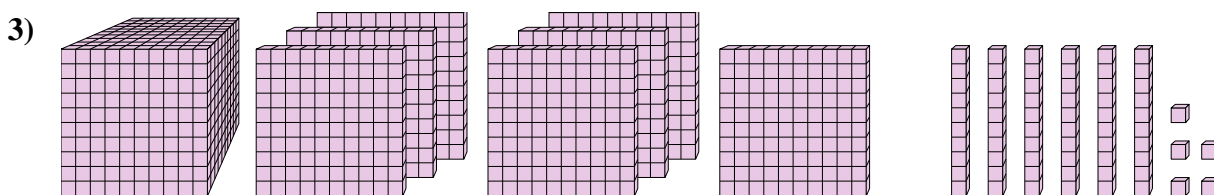
2. 0

3. 5

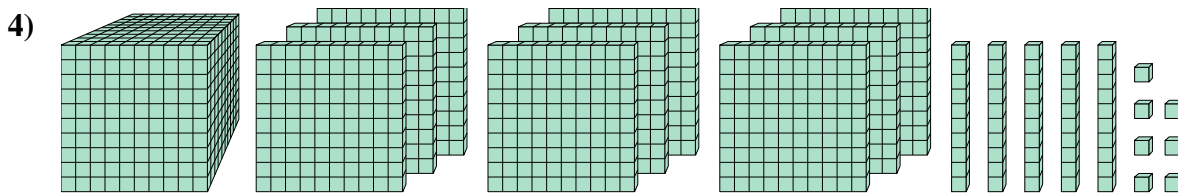
4. 1

5. 7

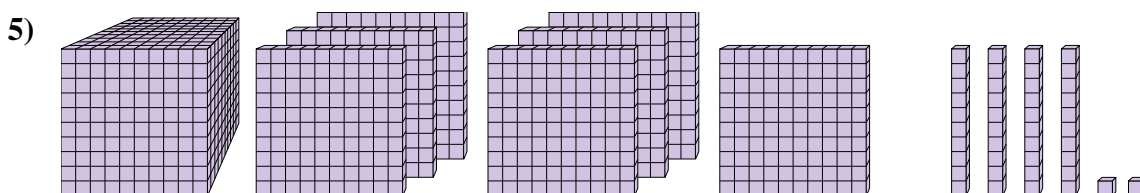
6. 3



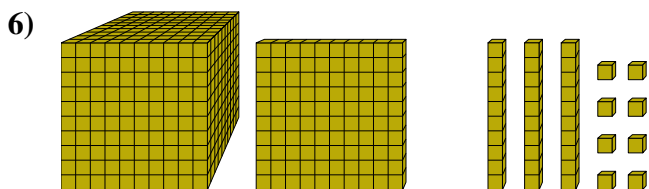
Quel est le chiffre positionné à la unités place du nombre ci-dessus?



Quel est le chiffre positionné à la centaines place du nombre ci-dessus?



Quel est le chiffre positionné à la billions place du nombre ci-dessus?



Quel est le chiffre positionné à la dizaines place du nombre ci-dessus?