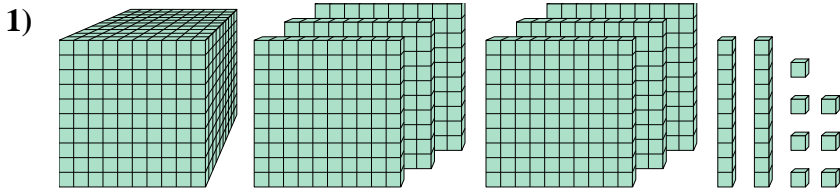




Résoudre chaque problème.

Réponses

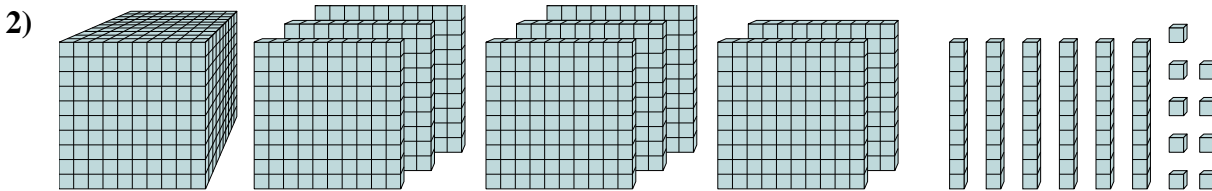


Quel est le chiffre positionné à la milliards place du nombre ci-dessus?

1. _____

2. _____

3. _____

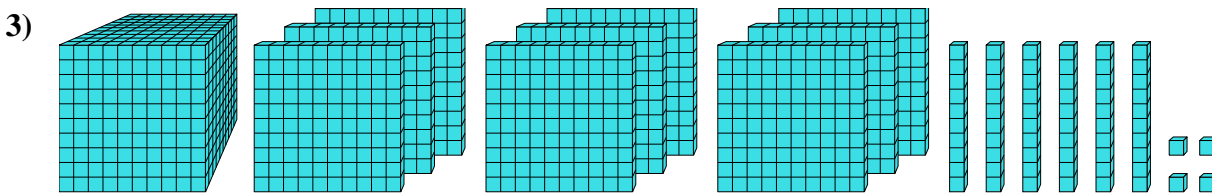


Quel est le chiffre positionné à la dizaines place du nombre ci-dessus?

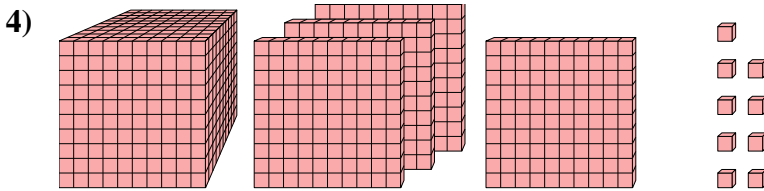
4. _____

5. _____

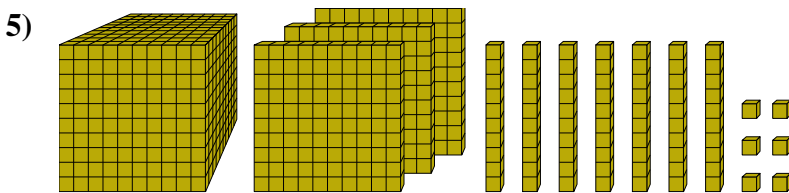
6. _____



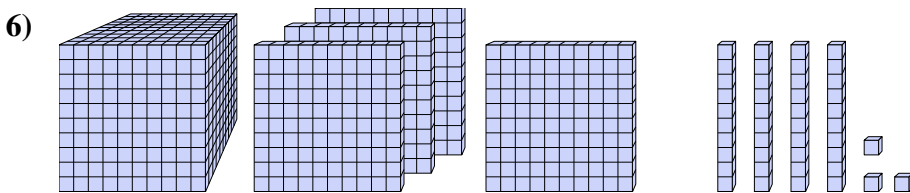
Quel est le chiffre positionné à la unités place du nombre ci-dessus?



Quel est le chiffre positionné à la unités place du nombre ci-dessus?



Quel est le chiffre positionné à la unités place du nombre ci-dessus?

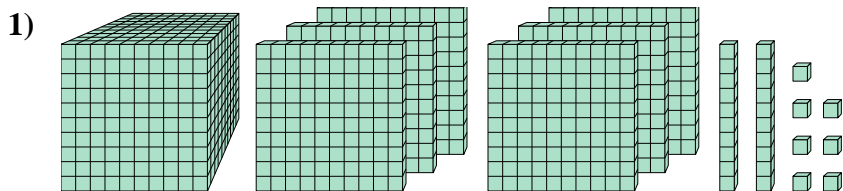


Quel est le chiffre positionné à la centaines place du nombre ci-dessus?



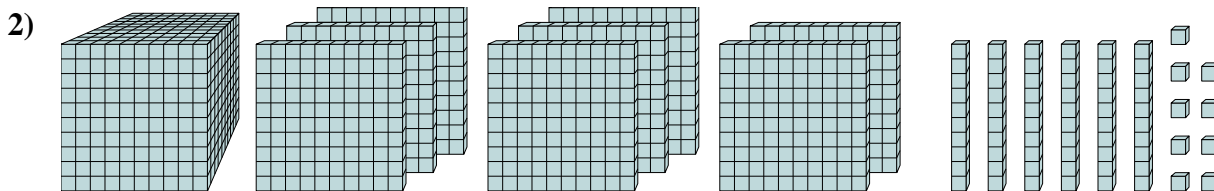
Résoudre chaque problème.

Réponses



Quel est le chiffre positionné à la milliards place du nombre ci-dessus?

1. 6



Quel est le chiffre positionné à la dizaines place du nombre ci-dessus?

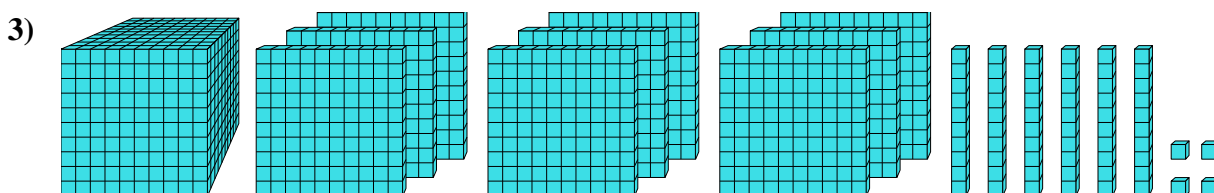
2. 6

3. 4

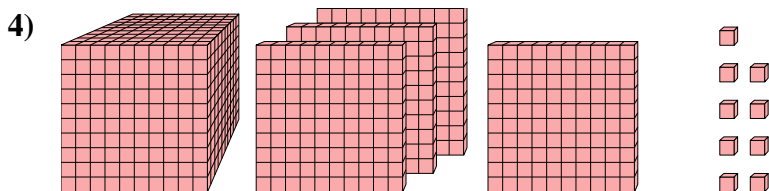
4. 9

5. 6

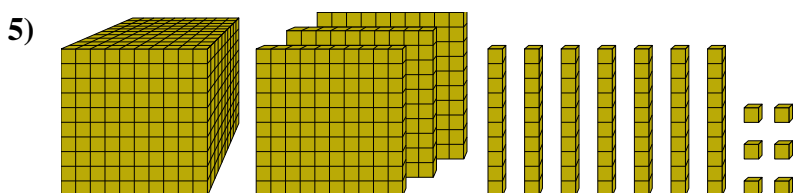
6. 1



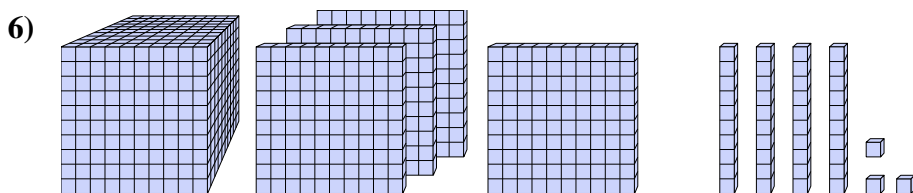
Quel est le chiffre positionné à la unités place du nombre ci-dessus?



Quel est le chiffre positionné à la unités place du nombre ci-dessus?



Quel est le chiffre positionné à la unités place du nombre ci-dessus?



Quel est le chiffre positionné à la centaines place du nombre ci-dessus?