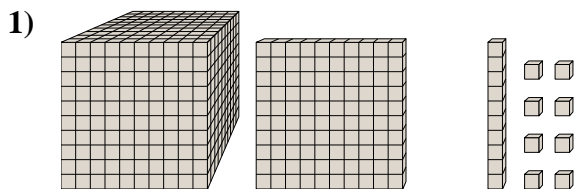




Résoudre chaque problème.

Réponses

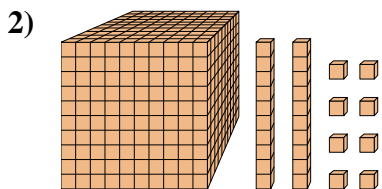


Quel est le chiffre positionné à la centaines place du nombre ci-dessus?

1. _____

2. _____

3. _____

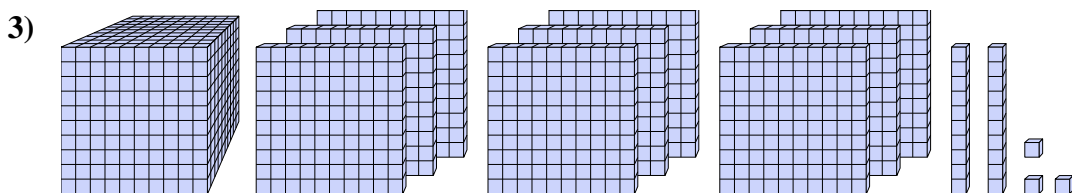


Quel est le chiffre positionné à la billions place du nombre ci-dessus?

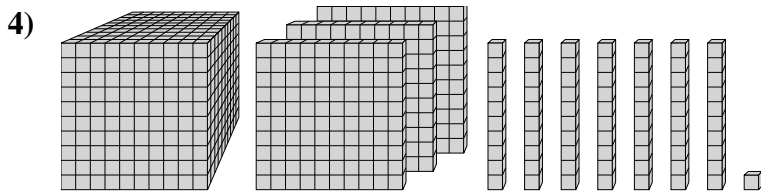
4. _____

5. _____

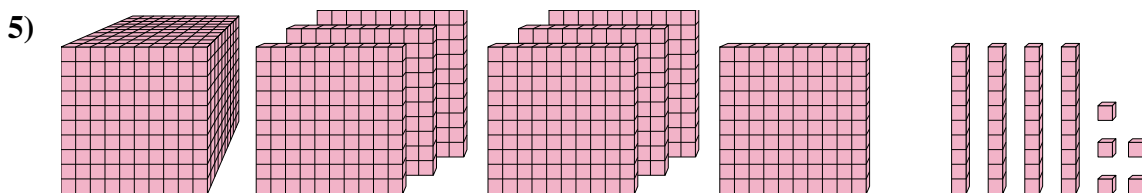
6. _____



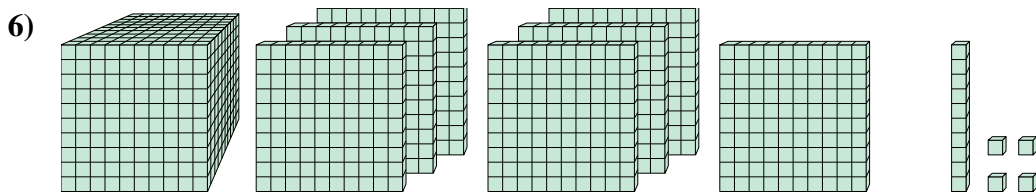
Quel est le chiffre positionné à la dizaines place du nombre ci-dessus?



Quel est le chiffre positionné à la unités place du nombre ci-dessus?



Quel est le chiffre positionné à la centaines place du nombre ci-dessus?

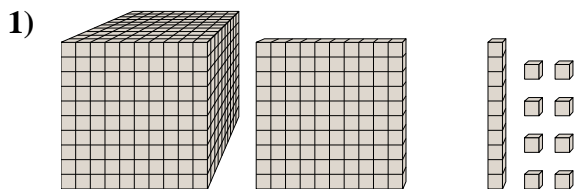


Quel est le chiffre positionné à la billions place du nombre ci-dessus?



Résoudre chaque problème.

Réponses

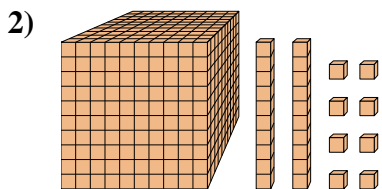


Quel est le chiffre positionné à la centaines place du nombre ci-dessus?

1. 1

2. 0

3. 2

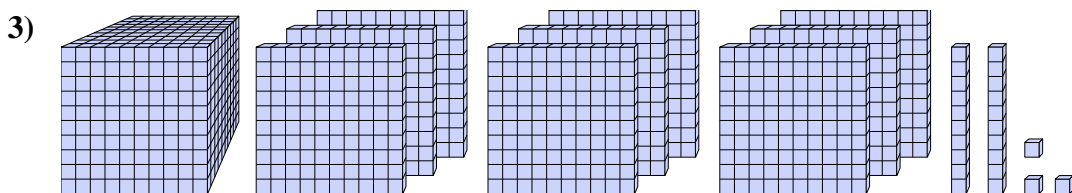


Quel est le chiffre positionné à la billions place du nombre ci-dessus?

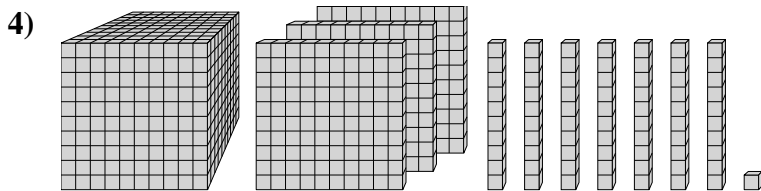
4. 1

5. 1

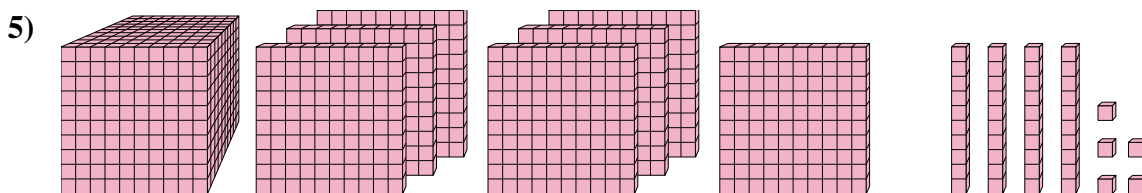
6. 7



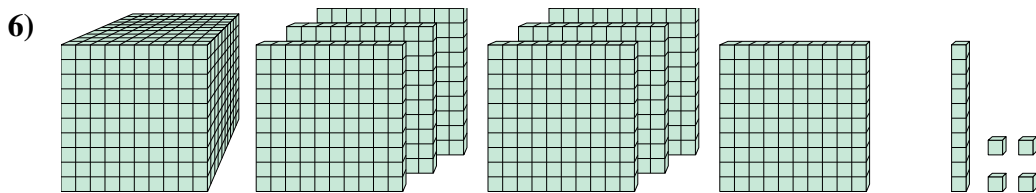
Quel est le chiffre positionné à la dizaines place du nombre ci-dessus?



Quel est le chiffre positionné à la unités place du nombre ci-dessus?



Quel est le chiffre positionné à la centaines place du nombre ci-dessus?



Quel est le chiffre positionné à la billions place du nombre ci-dessus?