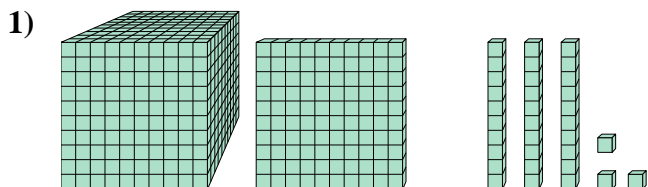




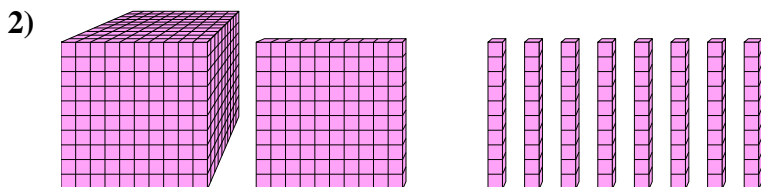
Résoudre chaque problème.

Réponses



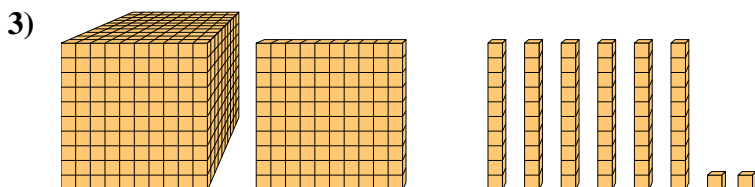
Quel est le chiffre positionné à la centaines place du nombre ci-dessus?

1. _____



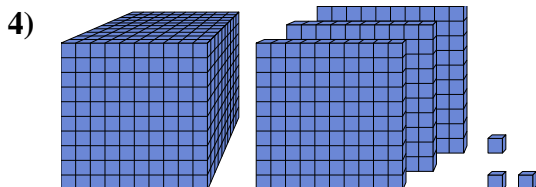
Quel est le chiffre positionné à la unités place du nombre ci-dessus?

2. _____



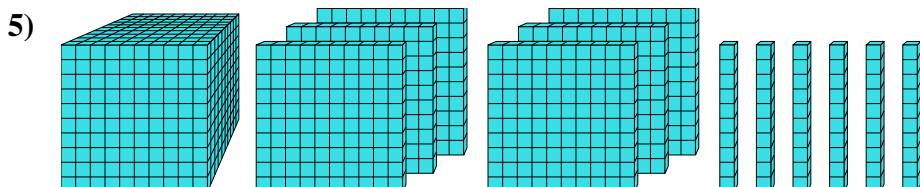
Quel est le chiffre positionné à la billions place du nombre ci-dessus?

3. _____



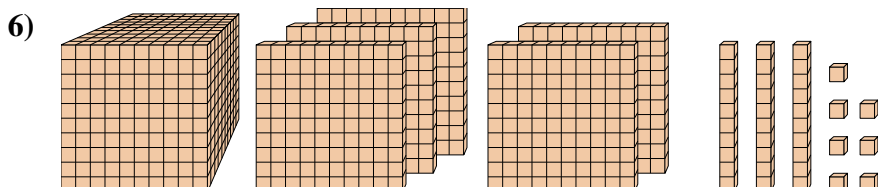
Quel est le chiffre positionné à la dizaines place du nombre ci-dessus?

4. _____



Quel est le chiffre positionné à la billions place du nombre ci-dessus?

5. _____



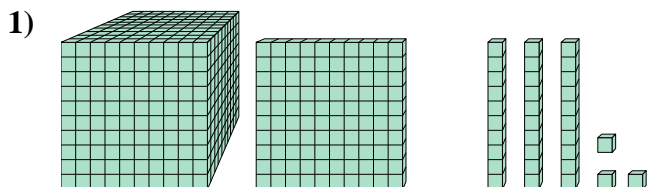
Quel est le chiffre positionné à la dizaines place du nombre ci-dessus?

6. _____



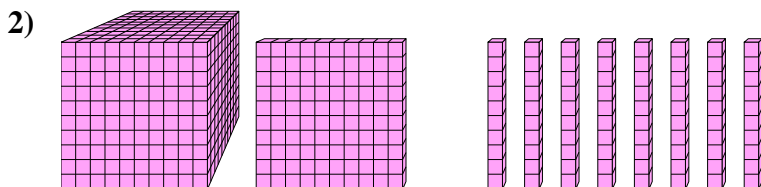
Résoudre chaque problème.

Réponses



Quel est le chiffre positionné à la centaines place du nombre ci-dessus?

1. 1



Quel est le chiffre positionné à la unités place du nombre ci-dessus?

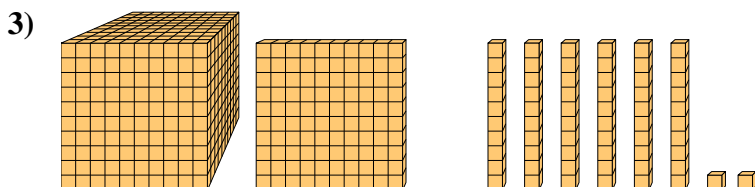
2. 0

3. 1

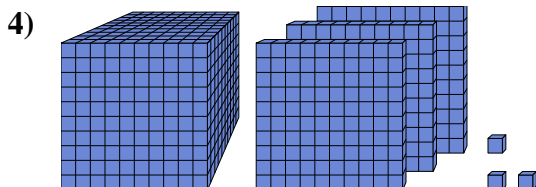
4. 0

5. 6

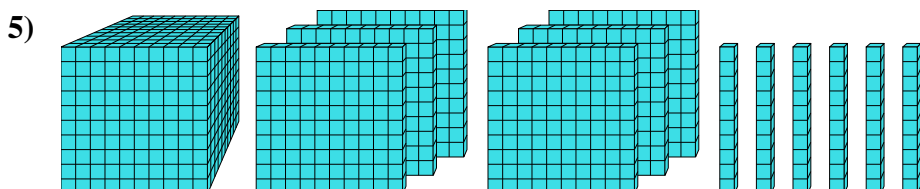
6. 3



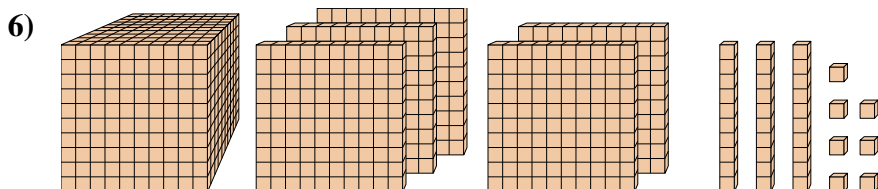
Quel est le chiffre positionné à la billions place du nombre ci-dessus?



Quel est le chiffre positionné à la dizaines place du nombre ci-dessus?



Quel est le chiffre positionné à la billions place du nombre ci-dessus?



Quel est le chiffre positionné à la dizaines place du nombre ci-dessus?