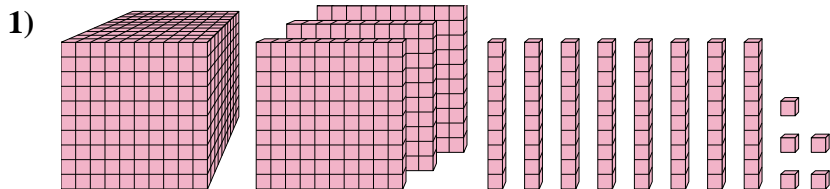




Résoudre chaque problème.

Réponses

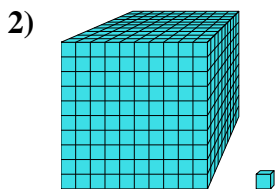


Quel est le chiffre positionné à la unités place du nombre ci-dessus?

1. _____

2. _____

3. _____

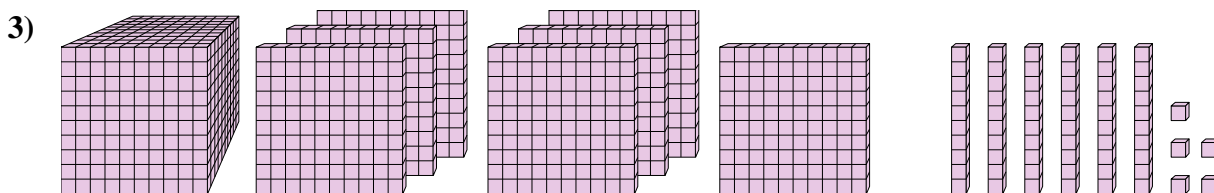


Quel est le chiffre positionné à la dizaines place du nombre ci-dessus?

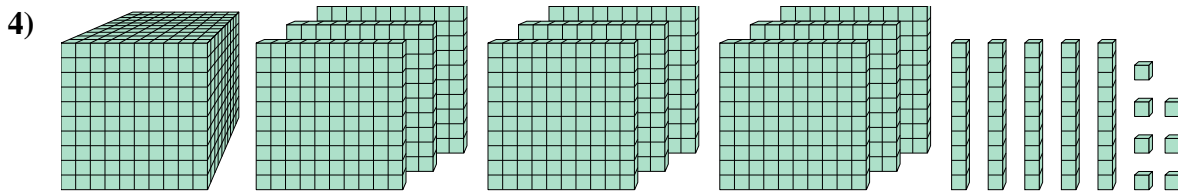
4. _____

5. _____

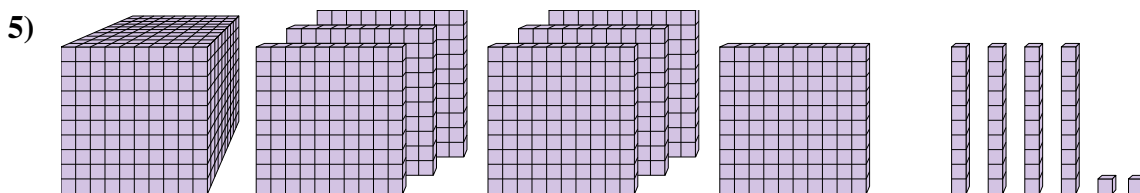
6. _____



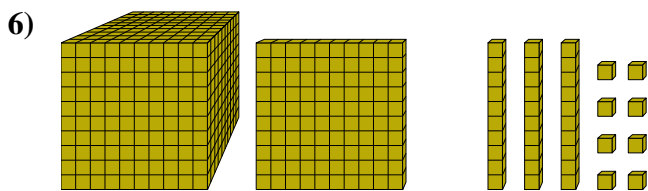
Quel est le chiffre positionné à la unités place du nombre ci-dessus?



Quel est le chiffre positionné à la centaines place du nombre ci-dessus?



Quel est le chiffre positionné à la billions place du nombre ci-dessus?

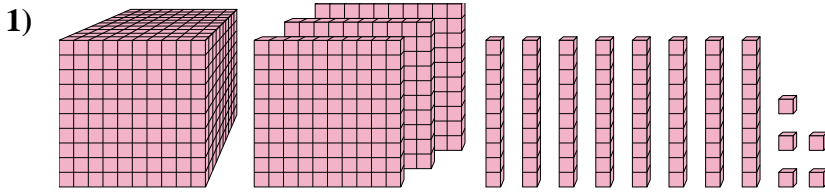


Quel est le chiffre positionné à la dizaines place du nombre ci-dessus?



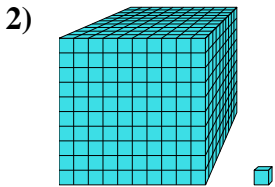
Résoudre chaque problème.

Réponses



Quel est le chiffre positionné à la unités place du nombre ci-dessus?

1. 5



Quel est le chiffre positionné à la dizaines place du nombre ci-dessus?

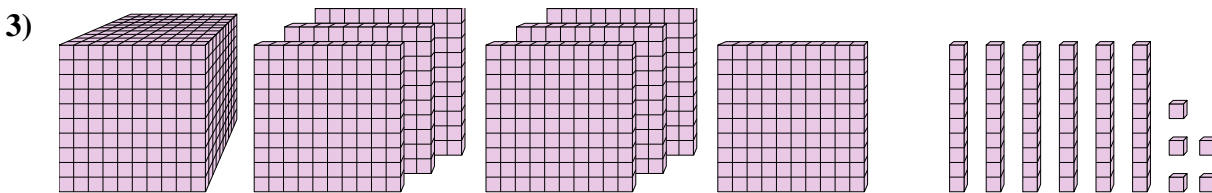
2. 0

3. 5

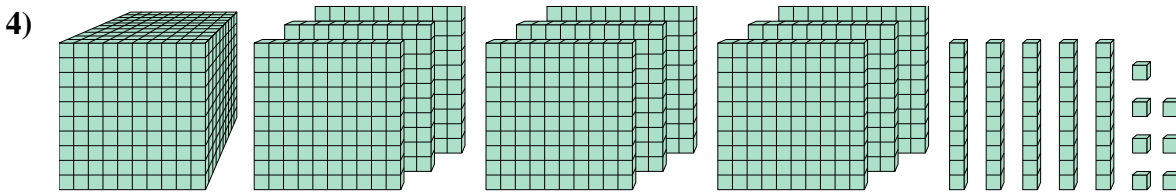
4. 1

5. 7

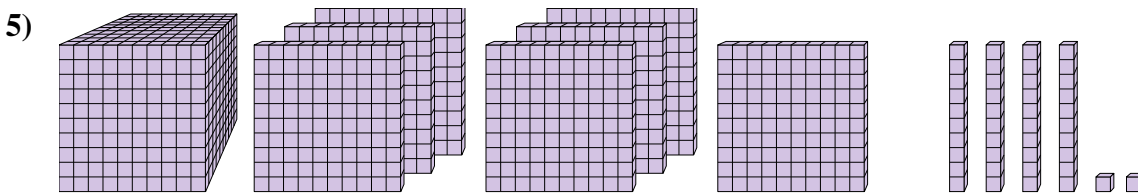
6. 3



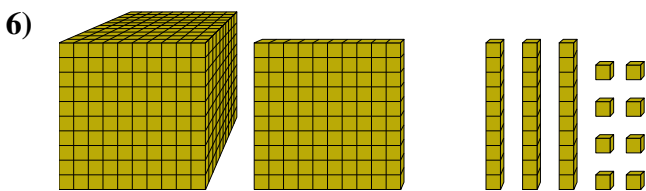
Quel est le chiffre positionné à la unités place du nombre ci-dessus?



Quel est le chiffre positionné à la centaines place du nombre ci-dessus?



Quel est le chiffre positionné à la billions place du nombre ci-dessus?

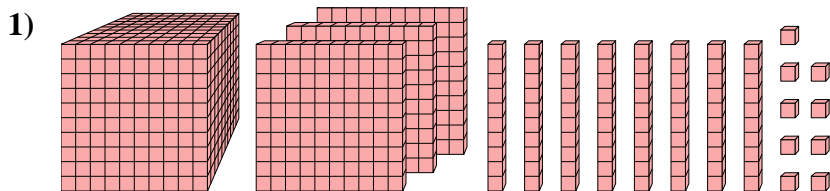


Quel est le chiffre positionné à la dizaines place du nombre ci-dessus?



Résoudre chaque problème.

Réponses

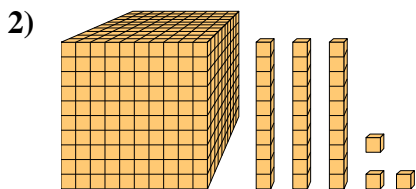


Quel est le chiffre positionné à la unités place du nombre ci-dessus?

1. _____

2. _____

3. _____

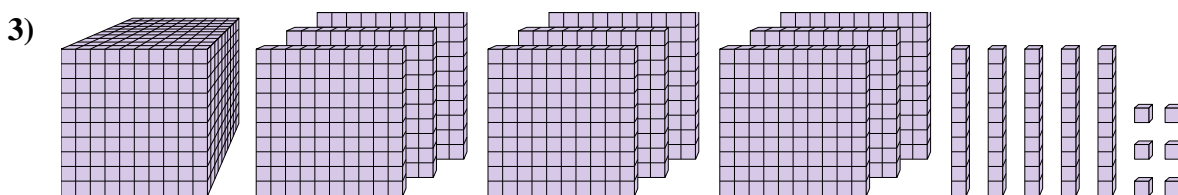


Quel est le chiffre positionné à la centaines place du nombre ci-dessus?

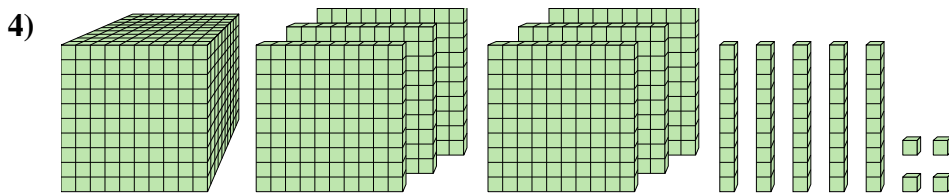
4. _____

5. _____

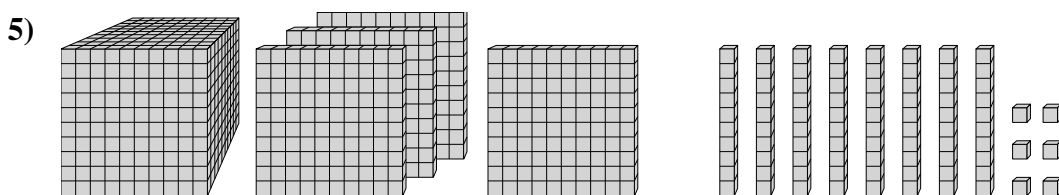
6. _____



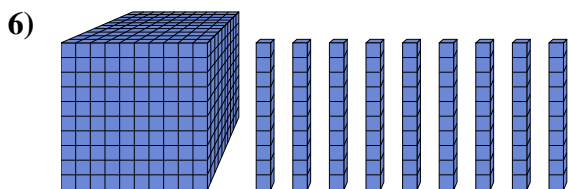
Quel est le chiffre positionné à la billions place du nombre ci-dessus?



Quel est le chiffre positionné à la unités place du nombre ci-dessus?



Quel est le chiffre positionné à la dizaines place du nombre ci-dessus?

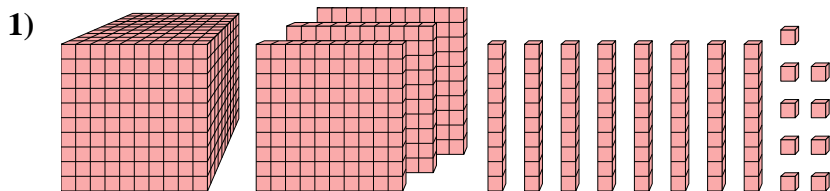


Quel est le chiffre positionné à la unités place du nombre ci-dessus?



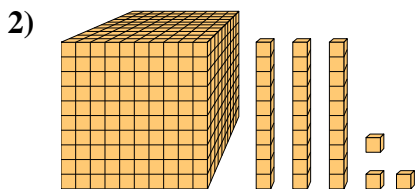
Résoudre chaque problème.

Réponses



Quel est le chiffre positionné à la unités place du nombre ci-dessus?

1. 9



Quel est le chiffre positionné à la centaines place du nombre ci-dessus?

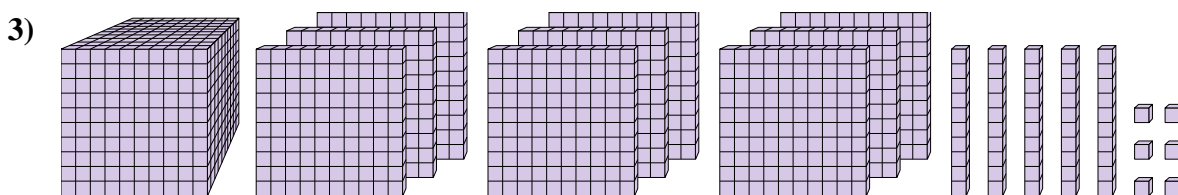
2. 1

3. 9

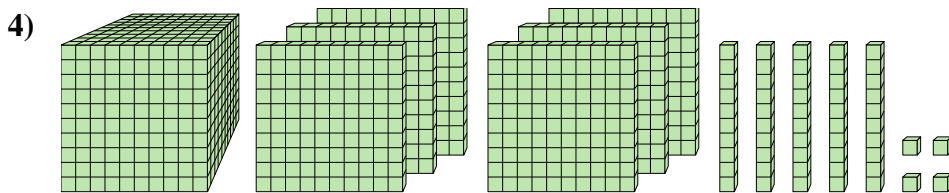
4. 4

5. 8

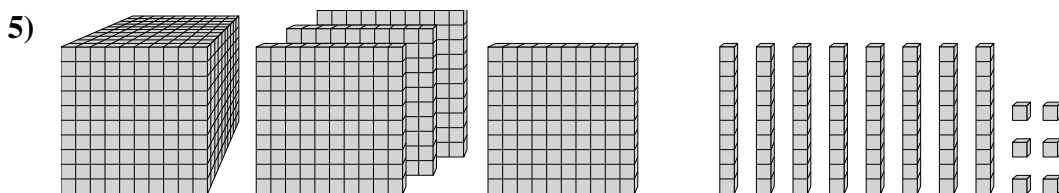
6. 0



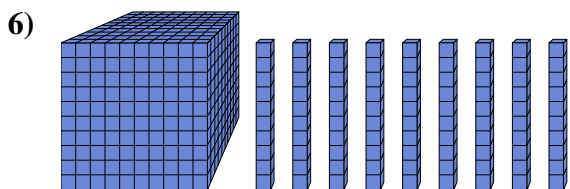
Quel est le chiffre positionné à la billions place du nombre ci-dessus?



Quel est le chiffre positionné à la unités place du nombre ci-dessus?



Quel est le chiffre positionné à la dizaines place du nombre ci-dessus?

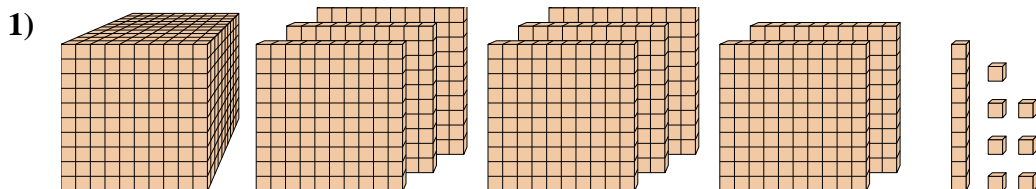


Quel est le chiffre positionné à la unités place du nombre ci-dessus?



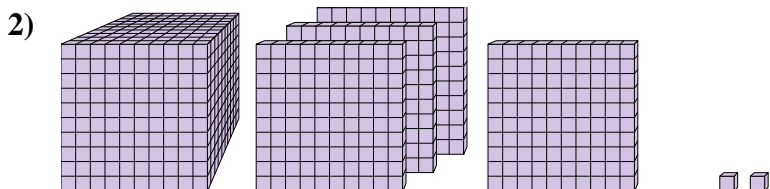
Résoudre chaque problème.

Réponses



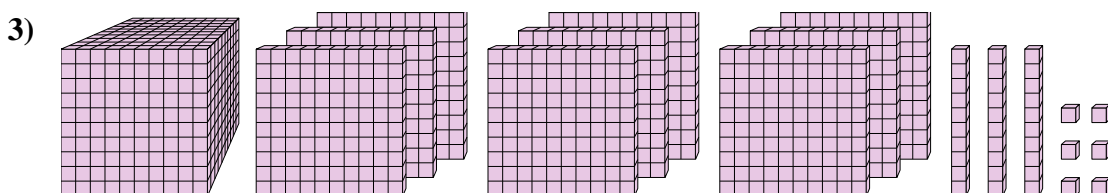
Quel est le chiffre positionné à la dizaines place du nombre ci-dessus?

1. _____



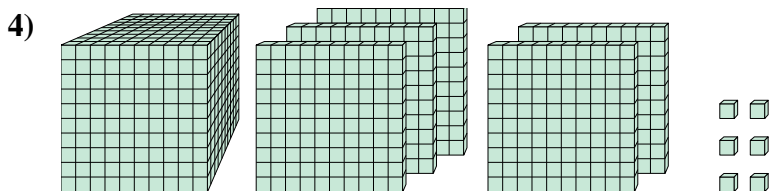
Quel est le chiffre positionné à la centaines place du nombre ci-dessus?

2. _____



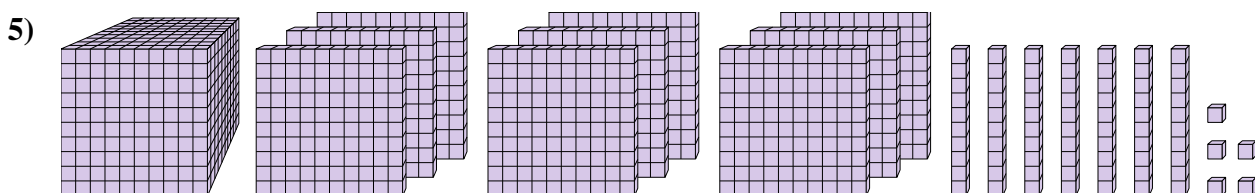
Quel est le chiffre positionné à la centaines place du nombre ci-dessus?

3. _____



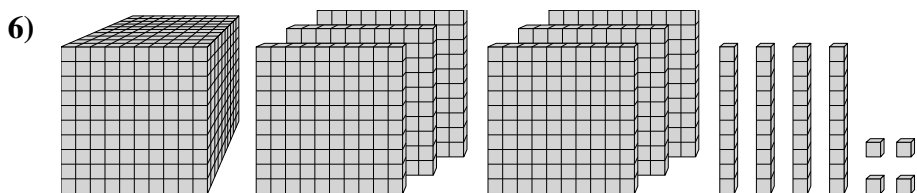
Quel est le chiffre positionné à la centaines place du nombre ci-dessus?

4. _____



Quel est le chiffre positionné à la billions place du nombre ci-dessus?

5. _____



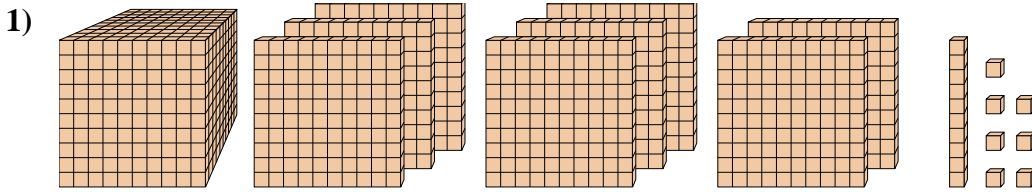
Quel est le chiffre positionné à la unités place du nombre ci-dessus?

6. _____



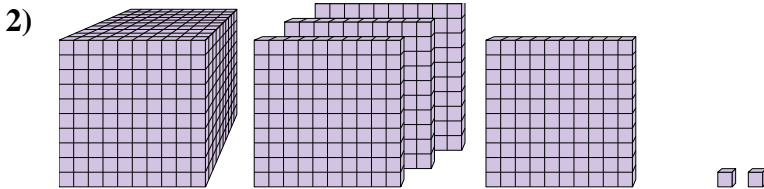
Résoudre chaque problème.

Réponses



Quel est le chiffre positionné à la dizaines place du nombre ci-dessus?

1. 1



Quel est le chiffre positionné à la centaines place du nombre ci-dessus?

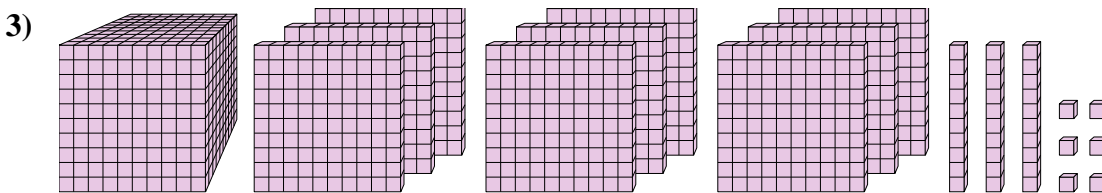
2. 1

3. 1

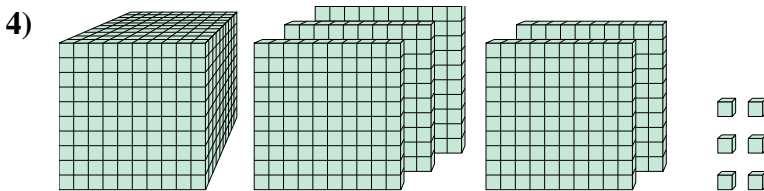
4. 1

5. 9

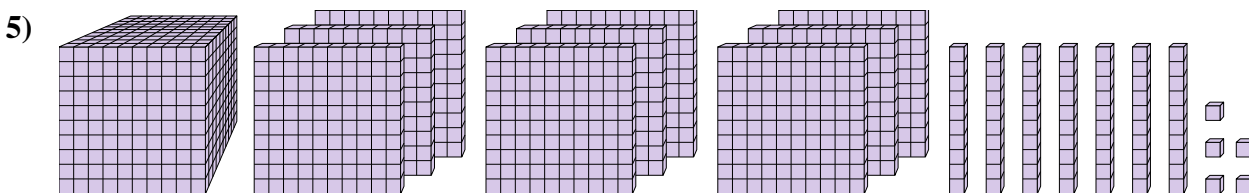
6. 4



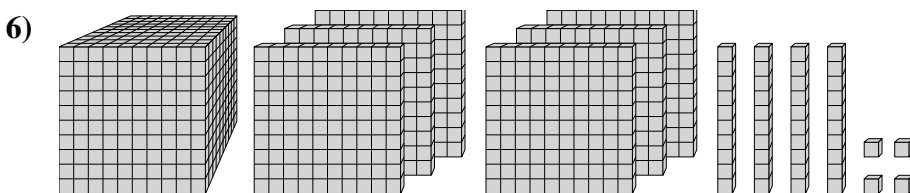
Quel est le chiffre positionné à la centaines place du nombre ci-dessus?



Quel est le chiffre positionné à la centaines place du nombre ci-dessus?



Quel est le chiffre positionné à la billions place du nombre ci-dessus?

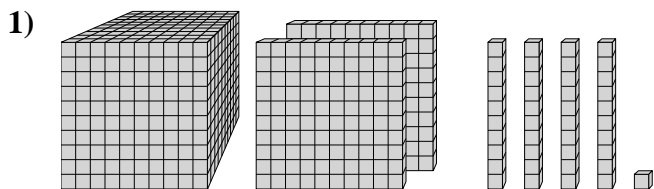


Quel est le chiffre positionné à la unités place du nombre ci-dessus?



Résoudre chaque problème.

Réponses

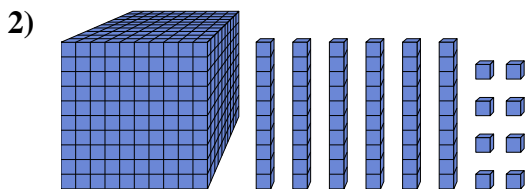


Quel est le chiffre positionné à la dizaines place du nombre ci-dessus?

1. _____

2. _____

3. _____

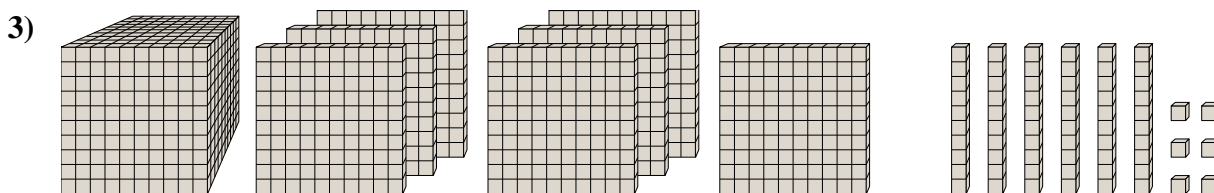


Quel est le chiffre positionné à la centaines place du nombre ci-dessus?

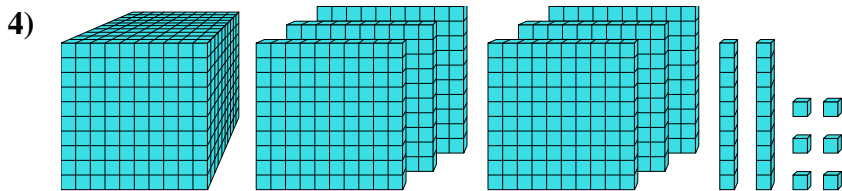
4. _____

5. _____

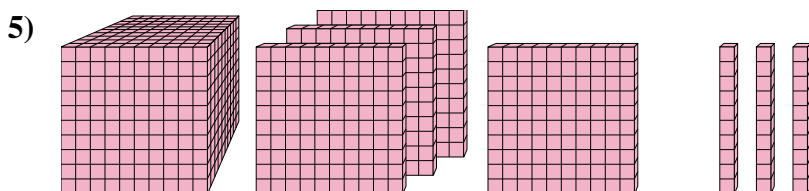
6. _____



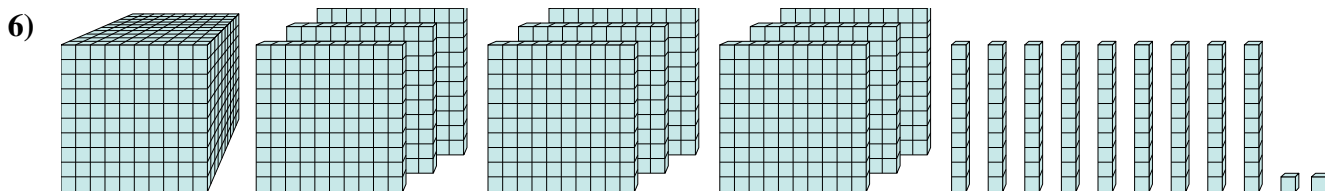
Quel est le chiffre positionné à la dizaines place du nombre ci-dessus?



Quel est le chiffre positionné à la billions place du nombre ci-dessus?



Quel est le chiffre positionné à la centaines place du nombre ci-dessus?

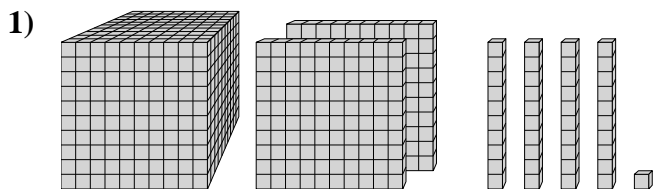


Quel est le chiffre positionné à la unités place du nombre ci-dessus?



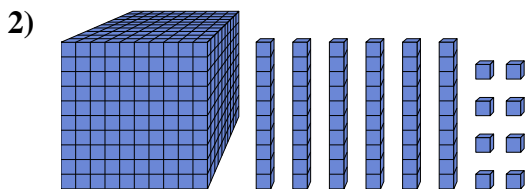
Résoudre chaque problème.

Réponses



Quel est le chiffre positionné à la dizaines place du nombre ci-dessus?

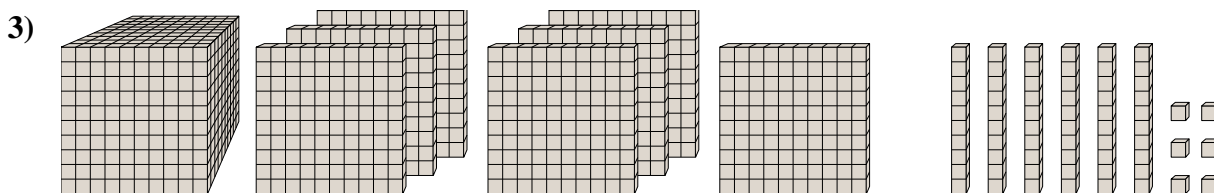
1. 4



Quel est le chiffre positionné à la centaines place du nombre ci-dessus?

2. 1

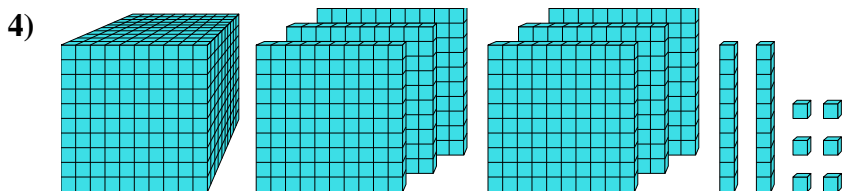
3. 6



Quel est le chiffre positionné à la dizaines place du nombre ci-dessus?

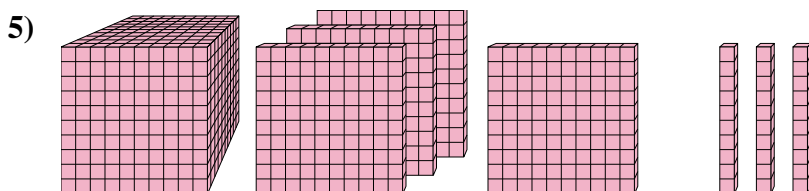
4. 6

5. 1

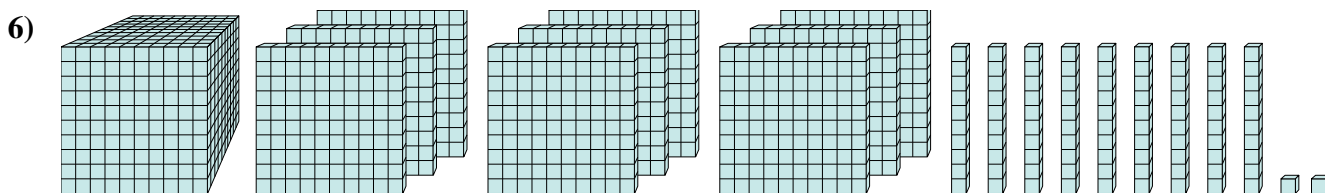


Quel est le chiffre positionné à la billions place du nombre ci-dessus?

6. 2



Quel est le chiffre positionné à la centaines place du nombre ci-dessus?

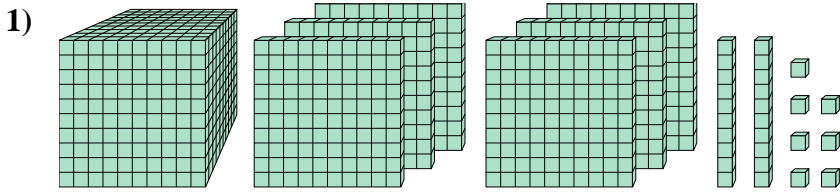


Quel est le chiffre positionné à la unités place du nombre ci-dessus?



Résoudre chaque problème.

Réponses

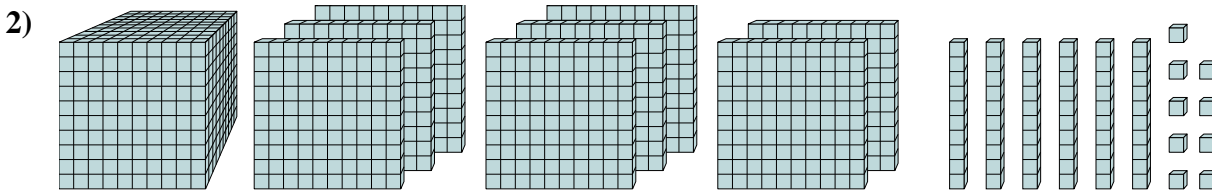


Quel est le chiffre positionné à la milliards place du nombre ci-dessus?

1. _____

2. _____

3. _____

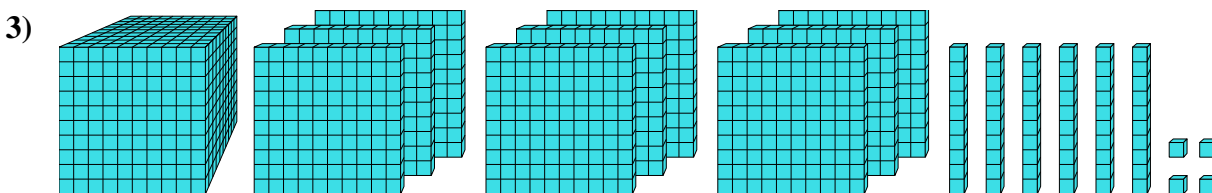


Quel est le chiffre positionné à la dizaines place du nombre ci-dessus?

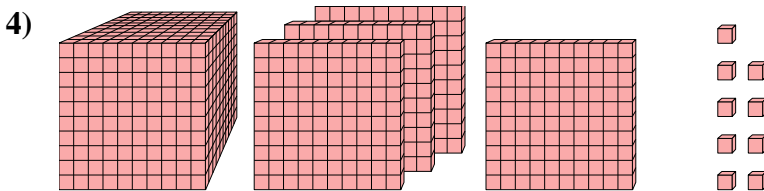
4. _____

5. _____

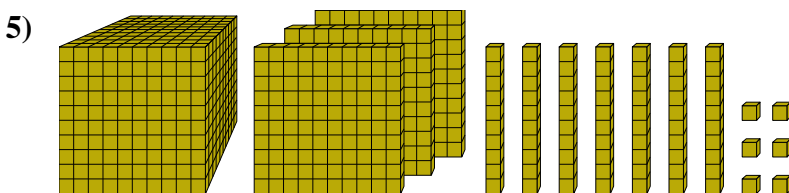
6. _____



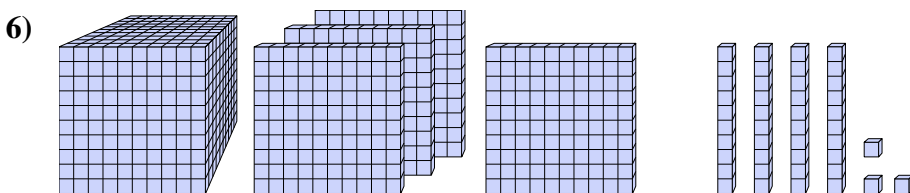
Quel est le chiffre positionné à la unités place du nombre ci-dessus?



Quel est le chiffre positionné à la unités place du nombre ci-dessus?



Quel est le chiffre positionné à la unités place du nombre ci-dessus?

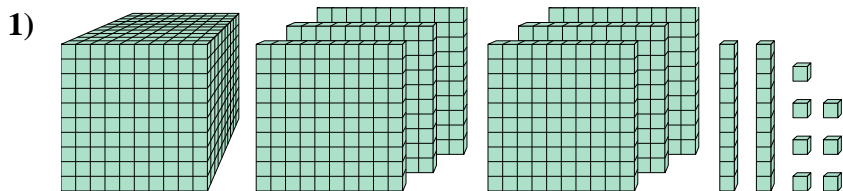


Quel est le chiffre positionné à la centaines place du nombre ci-dessus?



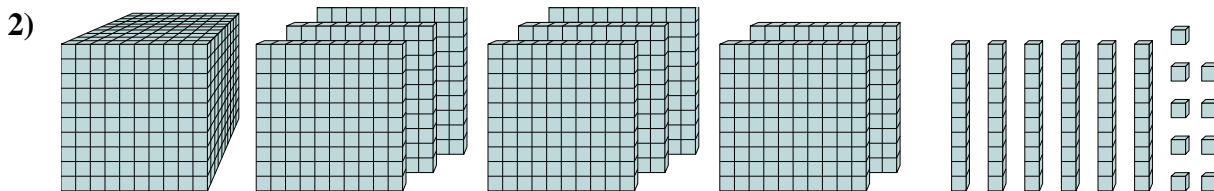
Résoudre chaque problème.

Réponses



Quel est le chiffre positionné à la milliards place du nombre ci-dessus?

1. 6



Quel est le chiffre positionné à la dizaines place du nombre ci-dessus?

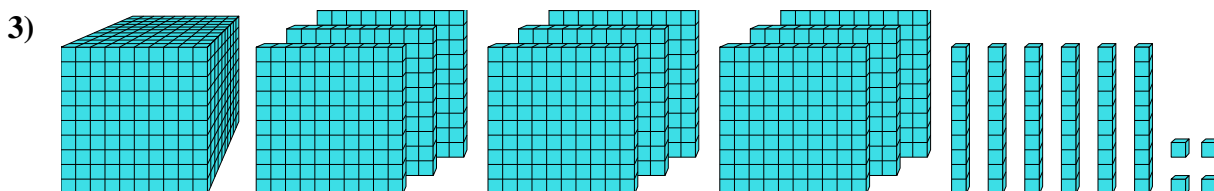
2. 6

3. 4

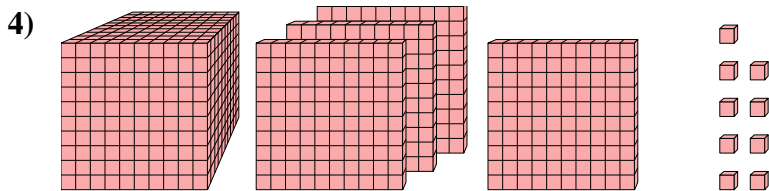
4. 9

5. 6

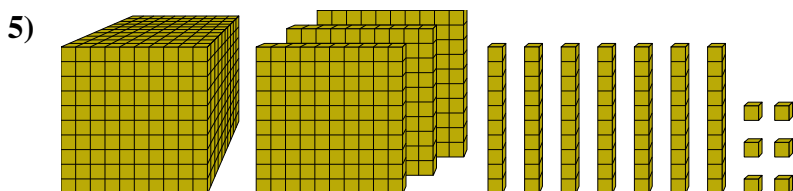
6. 1



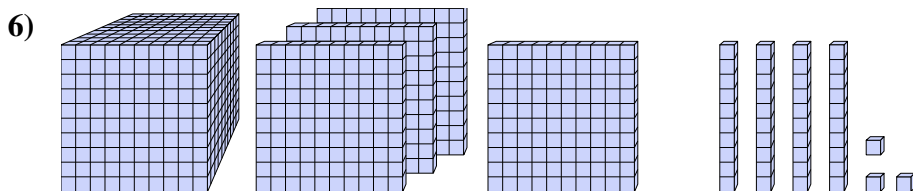
Quel est le chiffre positionné à la unités place du nombre ci-dessus?



Quel est le chiffre positionné à la unités place du nombre ci-dessus?



Quel est le chiffre positionné à la unités place du nombre ci-dessus?

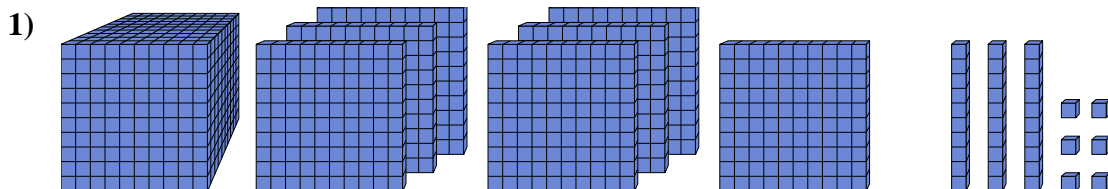


Quel est le chiffre positionné à la centaines place du nombre ci-dessus?



Résoudre chaque problème.

Réponses

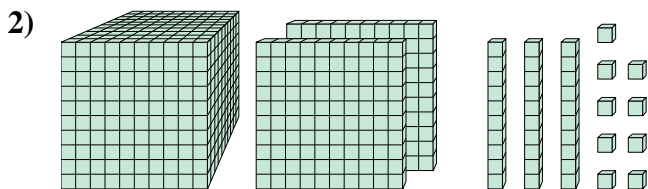


Quel est le chiffre positionné à la unités place du nombre ci-dessus?

1. _____

2. _____

3. _____

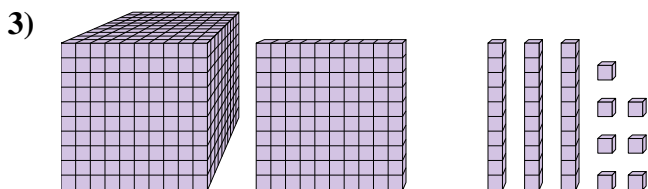


Quel est le chiffre positionné à la dizaines place du nombre ci-dessus?

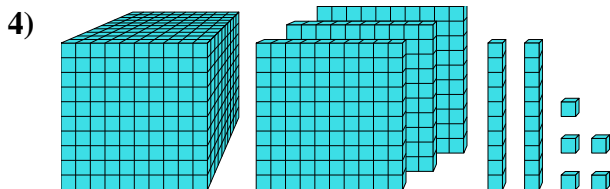
4. _____

5. _____

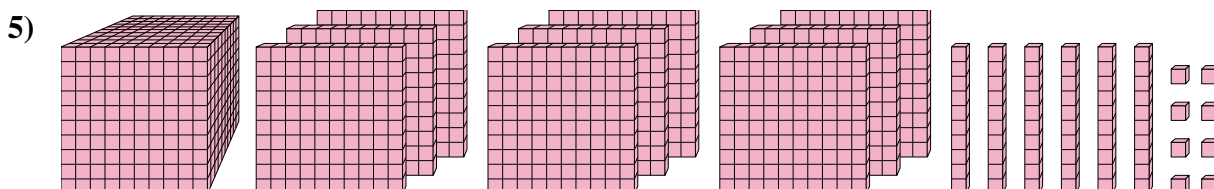
6. _____



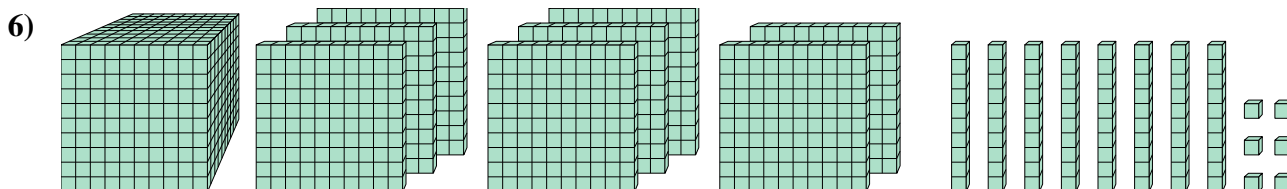
Quel est le chiffre positionné à la billions place du nombre ci-dessus?



Quel est le chiffre positionné à la billions place du nombre ci-dessus?



Quel est le chiffre positionné à la billions place du nombre ci-dessus?

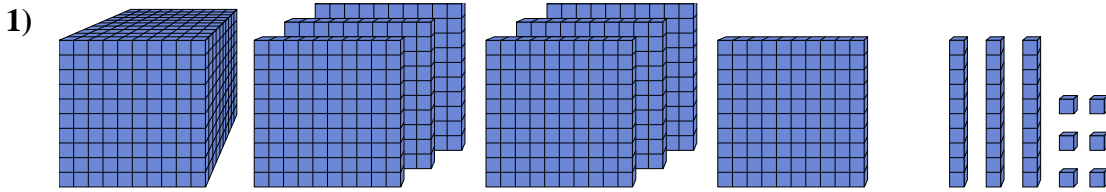


Quel est le chiffre positionné à la centaines place du nombre ci-dessus?



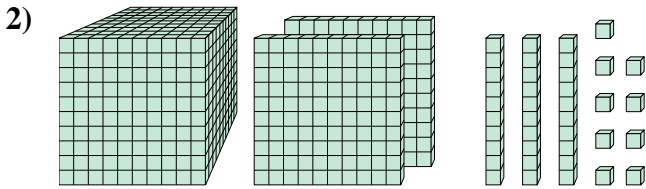
Résoudre chaque problème.

Réponses



Quel est le chiffre positionné à la unités place du nombre ci-dessus?

1. 6

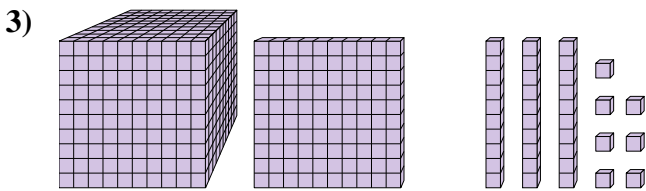


Quel est le chiffre positionné à la dizaines place du nombre ci-dessus?

2. 3

3. 1

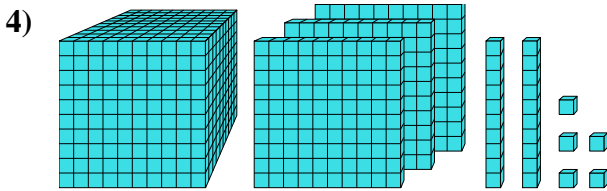
4. 3



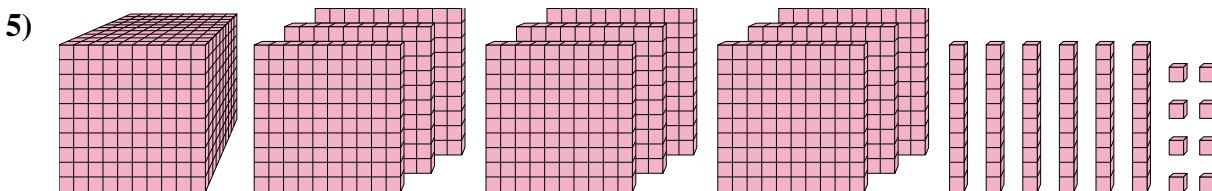
Quel est le chiffre positionné à la billions place du nombre ci-dessus?

5. 9

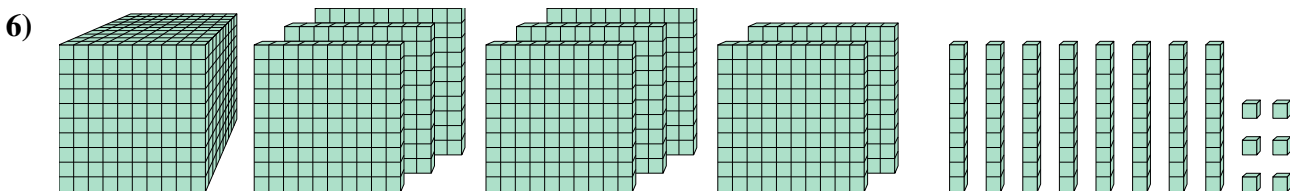
6. 1



Quel est le chiffre positionné à la billions place du nombre ci-dessus?



Quel est le chiffre positionné à la billions place du nombre ci-dessus?

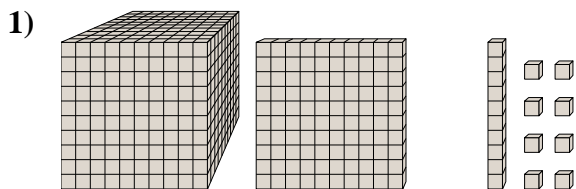


Quel est le chiffre positionné à la centaines place du nombre ci-dessus?



Résoudre chaque problème.

Réponses

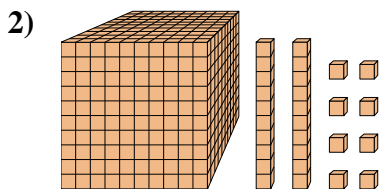


Quel est le chiffre positionné à la centaines place du nombre ci-dessus?

1. _____

2. _____

3. _____

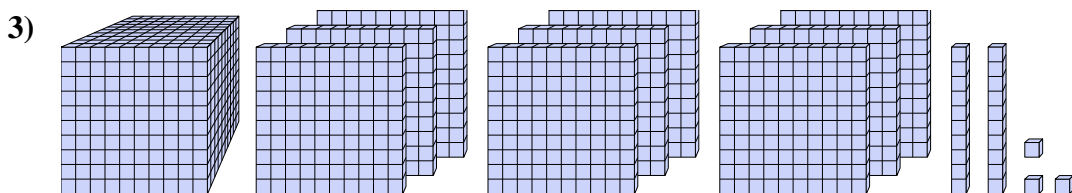


Quel est le chiffre positionné à la billions place du nombre ci-dessus?

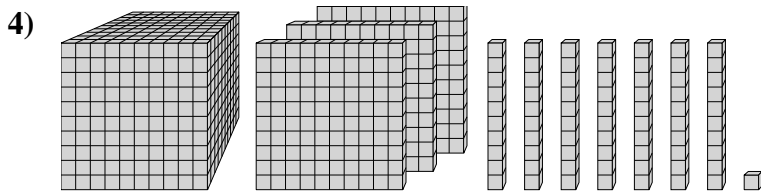
4. _____

5. _____

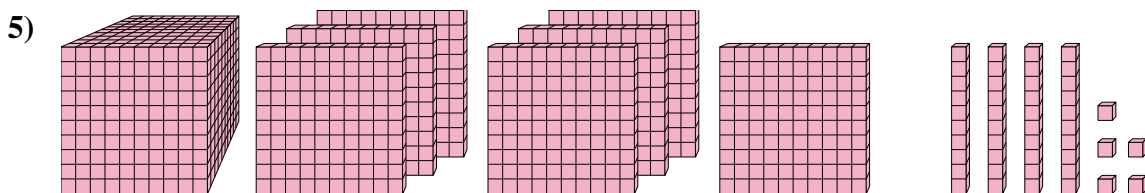
6. _____



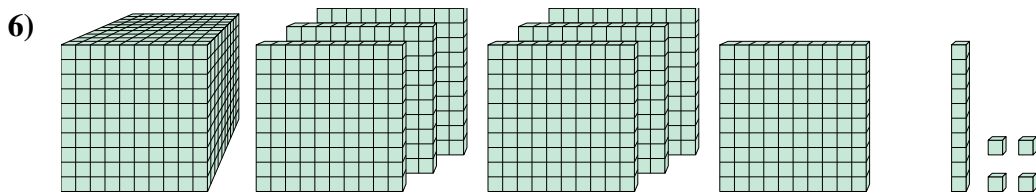
Quel est le chiffre positionné à la dizaines place du nombre ci-dessus?



Quel est le chiffre positionné à la unités place du nombre ci-dessus?



Quel est le chiffre positionné à la centaines place du nombre ci-dessus?

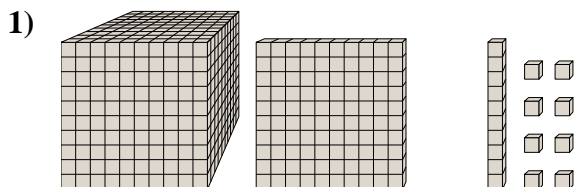


Quel est le chiffre positionné à la billions place du nombre ci-dessus?



Résoudre chaque problème.

Réponses

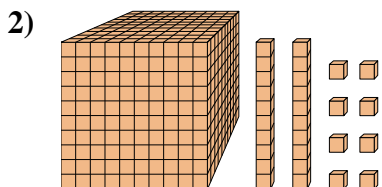


Quel est le chiffre positionné à la centaines place du nombre ci-dessus?

1. 1

2. 0

3. 2

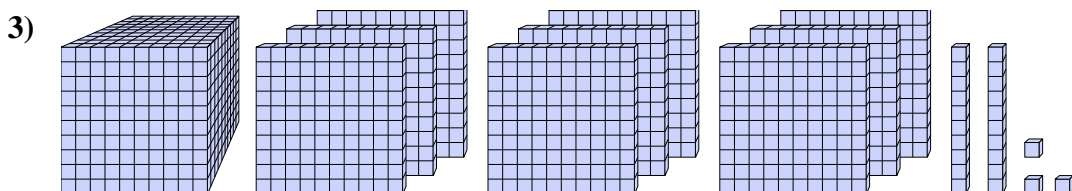


Quel est le chiffre positionné à la billions place du nombre ci-dessus?

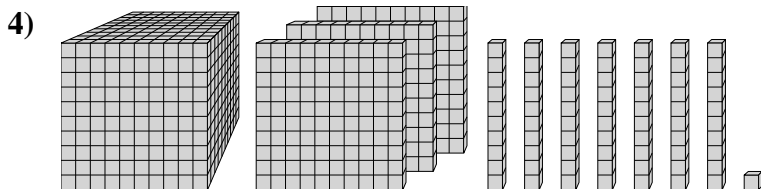
4. 1

5. 1

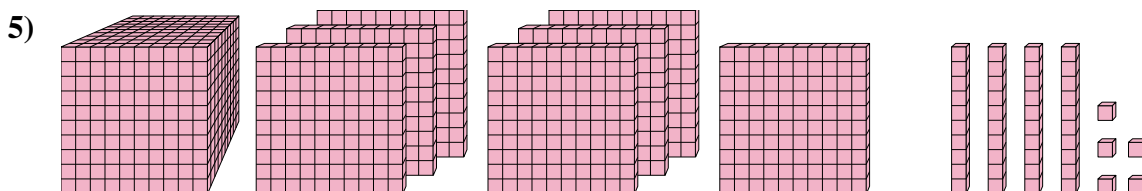
6. 7



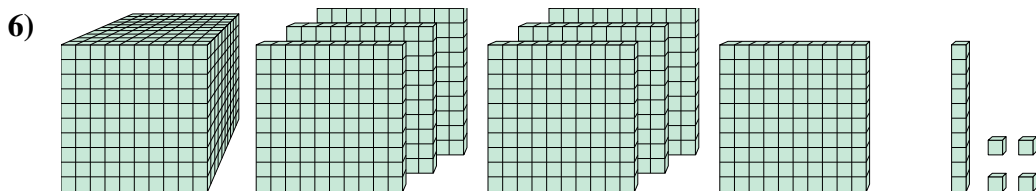
Quel est le chiffre positionné à la dizaines place du nombre ci-dessus?



Quel est le chiffre positionné à la unités place du nombre ci-dessus?



Quel est le chiffre positionné à la centaines place du nombre ci-dessus?

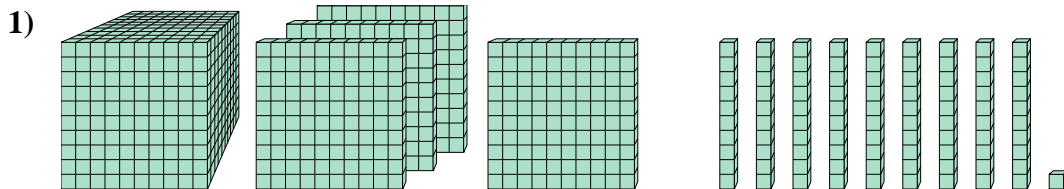


Quel est le chiffre positionné à la billions place du nombre ci-dessus?



Résoudre chaque problème.

Réponses

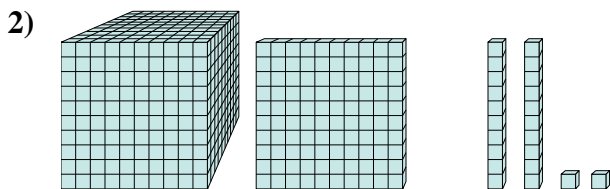


Quel est le chiffre positionné à la milliards place du nombre ci-dessus?

1. _____

2. _____

3. _____

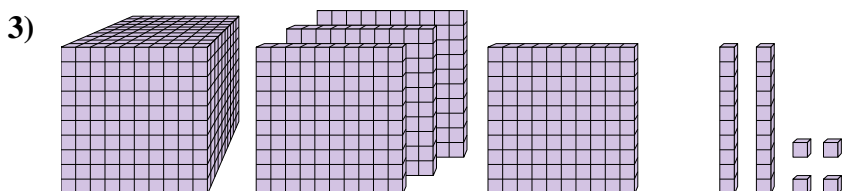


Quel est le chiffre positionné à la milliards place du nombre ci-dessus?

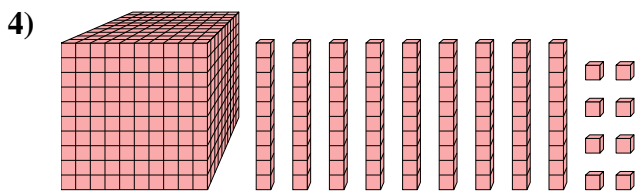
4. _____

5. _____

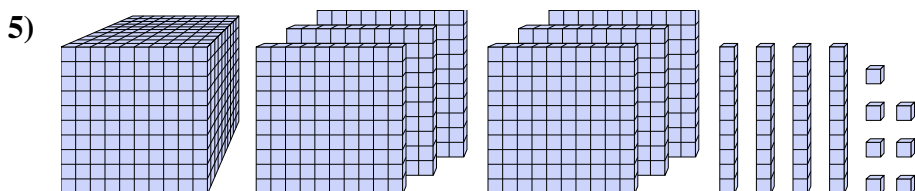
6. _____



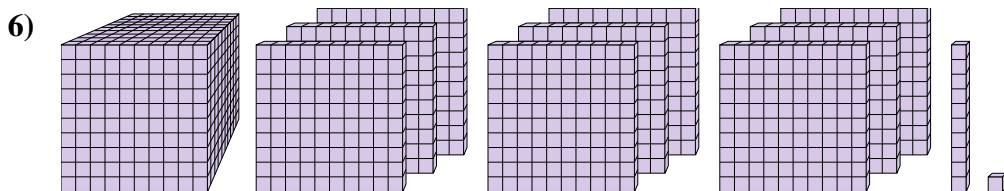
Quel est le chiffre positionné à la unités place du nombre ci-dessus?



Quel est le chiffre positionné à la centaines place du nombre ci-dessus?



Quel est le chiffre positionné à la milliards place du nombre ci-dessus?

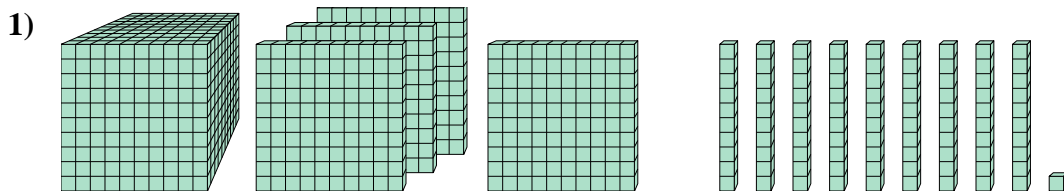


Quel est le chiffre positionné à la dizaines place du nombre ci-dessus?



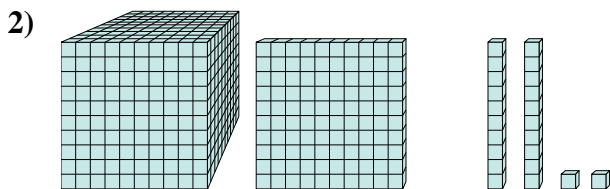
Résoudre chaque problème.

Réponses



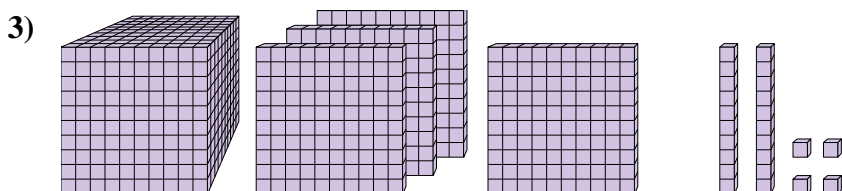
Quel est le chiffre positionné à la milliards place du nombre ci-dessus?

1. 4



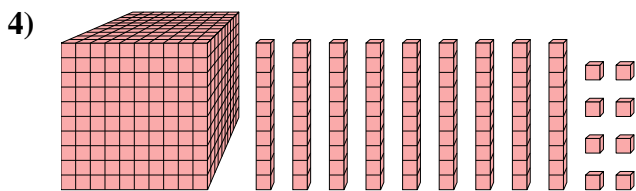
Quel est le chiffre positionné à la milliards place du nombre ci-dessus?

2. 1



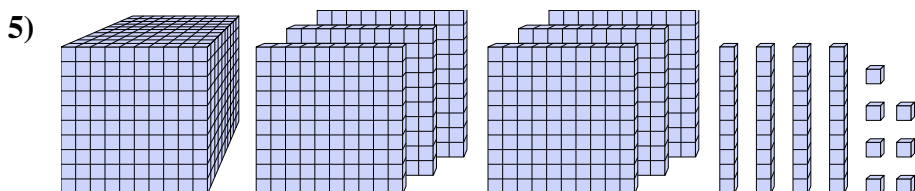
Quel est le chiffre positionné à la unités place du nombre ci-dessus?

3. 4



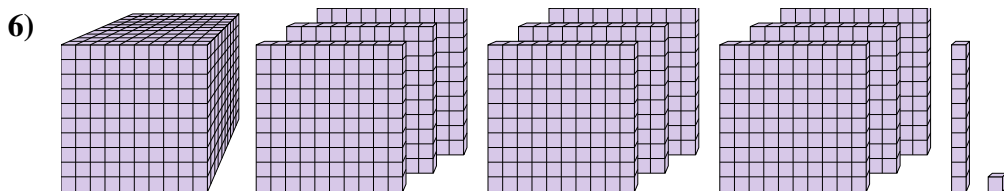
Quel est le chiffre positionné à la centaines place du nombre ci-dessus?

4. 1



Quel est le chiffre positionné à la milliards place du nombre ci-dessus?

5. 6



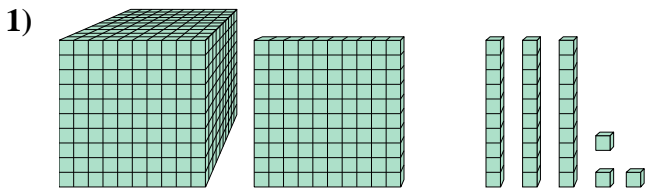
Quel est le chiffre positionné à la dizaines place du nombre ci-dessus?

6. 1



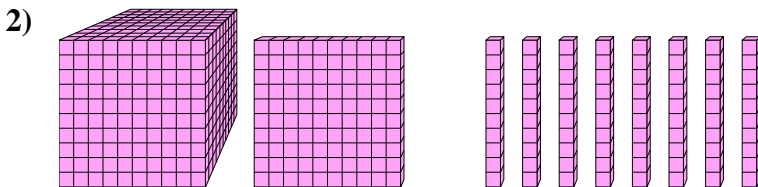
Résoudre chaque problème.

Réponses



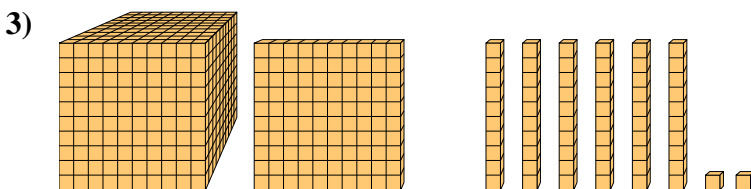
Quel est le chiffre positionné à la centaines place du nombre ci-dessus?

1. _____



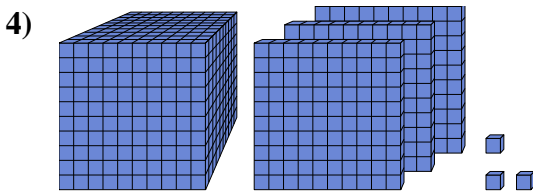
Quel est le chiffre positionné à la unités place du nombre ci-dessus?

2. _____




Quel est le chiffre positionné à la billions place du nombre ci-dessus?

3. _____



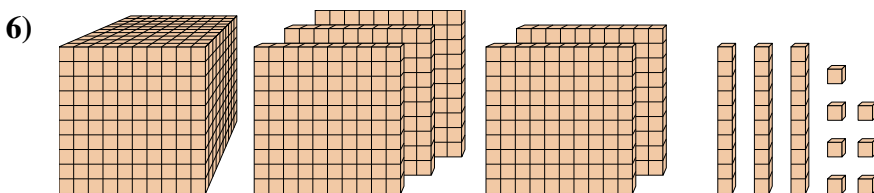
Quel est le chiffre positionné à la dizaines place du nombre ci-dessus?

4. _____



Quel est le chiffre positionné à la billions place du nombre ci-dessus?

5. _____



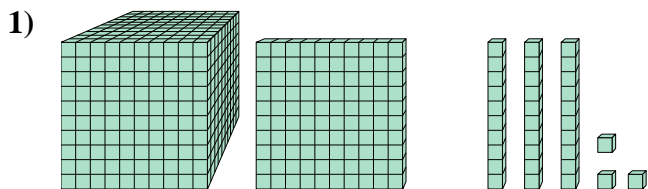
Quel est le chiffre positionné à la dizaines place du nombre ci-dessus?

6. _____



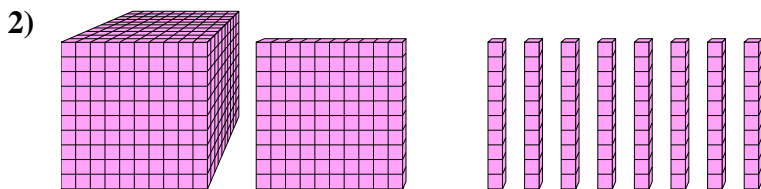
Résoudre chaque problème.

Réponses



Quel est le chiffre positionné à la centaines place du nombre ci-dessus?

1. 1



Quel est le chiffre positionné à la unités place du nombre ci-dessus?

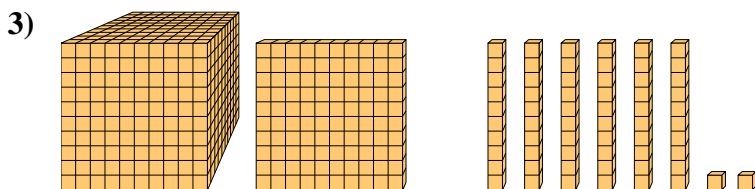
2. 0

3. 1

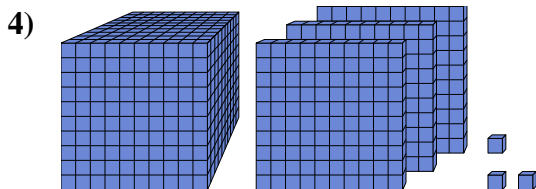
4. 0

5. 6

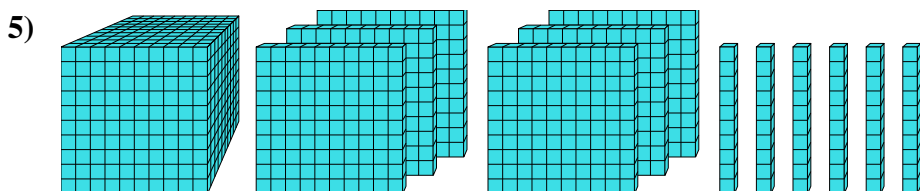
6. 3



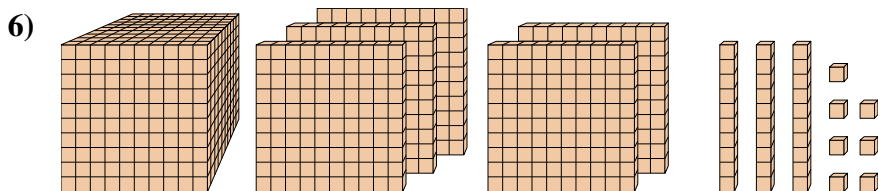
Quel est le chiffre positionné à la billions place du nombre ci-dessus?



Quel est le chiffre positionné à la dizaines place du nombre ci-dessus?



Quel est le chiffre positionné à la billions place du nombre ci-dessus?

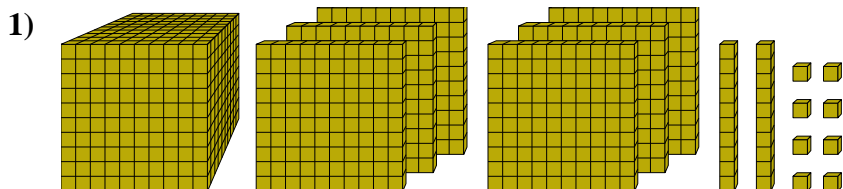


Quel est le chiffre positionné à la dizaines place du nombre ci-dessus?



Résoudre chaque problème.

Réponses

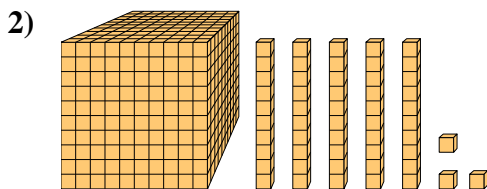


Quel est le chiffre positionné à la dizaines place du nombre ci-dessus?

1. _____

2. _____

3. _____

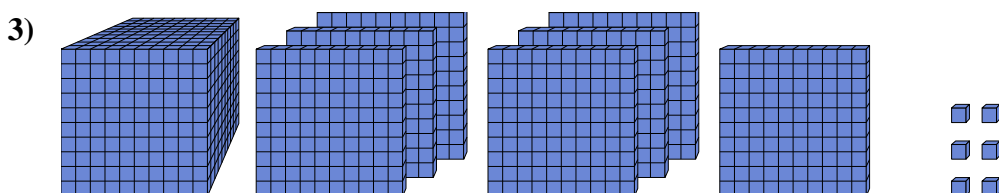


Quel est le chiffre positionné à la dizaines place du nombre ci-dessus?

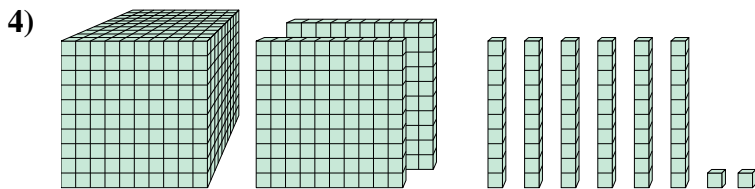
4. _____

5. _____

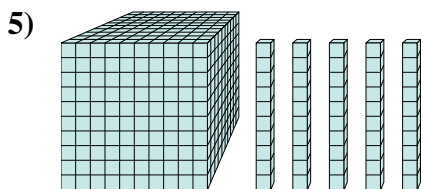
6. _____



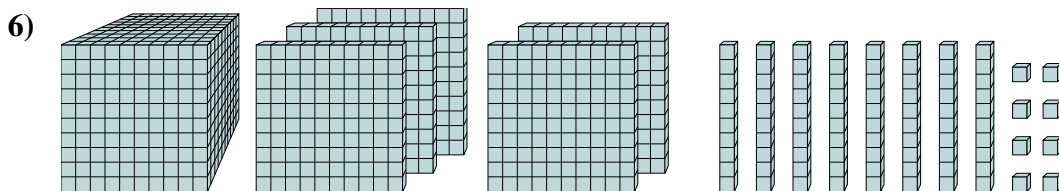
Quel est le chiffre positionné à la billions place du nombre ci-dessus?



Quel est le chiffre positionné à la centaines place du nombre ci-dessus?



Quel est le chiffre positionné à la unités place du nombre ci-dessus?

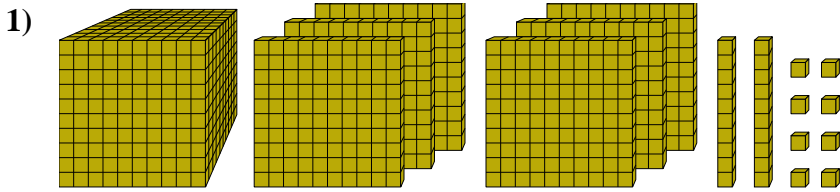


Quel est le chiffre positionné à la billions place du nombre ci-dessus?



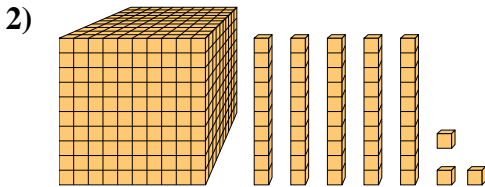
Résoudre chaque problème.

Réponses



Quel est le chiffre positionné à la dizaines place du nombre ci-dessus?

1. 2



Quel est le chiffre positionné à la dizaines place du nombre ci-dessus?

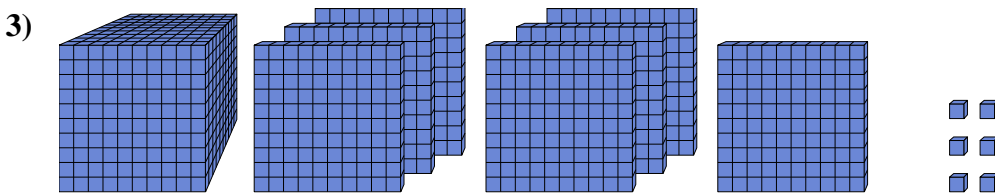
2. 5

3. 7

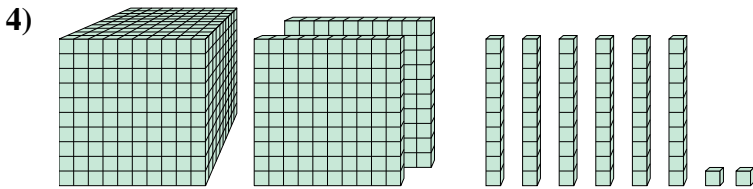
4. 1

5. 0

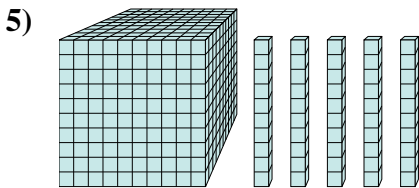
6. 5



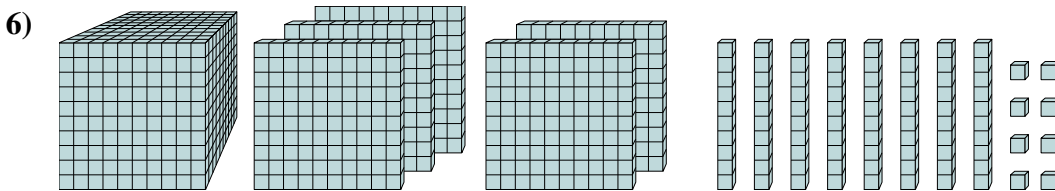
Quel est le chiffre positionné à la billions place du nombre ci-dessus?



Quel est le chiffre positionné à la centaines place du nombre ci-dessus?



Quel est le chiffre positionné à la unités place du nombre ci-dessus?



Quel est le chiffre positionné à la billions place du nombre ci-dessus?