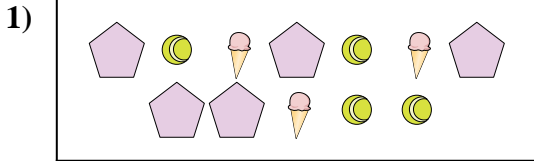




Comparez le nombre de figures.



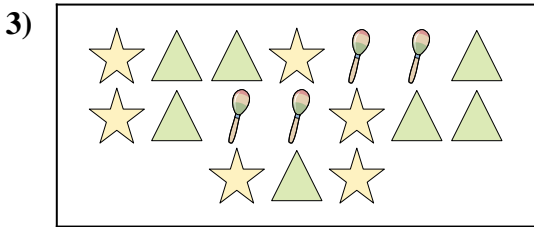
Y a-t-il moins de ou de ?

- A.
- B.




Y a-t-il plus de ou de ?

- A.
- B.




Y a-t-il moins de ou de ?

- A.
- B.



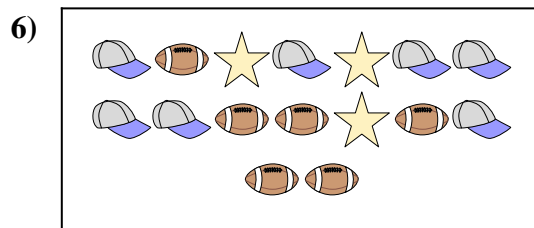
Y a-t-il moins de ou de ?

- A.
- B.



Y a-t-il moins de ou de ?

- A.
- B.



Y a-t-il moins de ou de ?

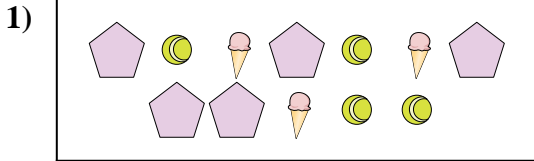
- A.
- B.

Réponses

- 1. \_\_\_\_\_
- 2. \_\_\_\_\_
- 3. \_\_\_\_\_
- 4. \_\_\_\_\_
- 5. \_\_\_\_\_
- 6. \_\_\_\_\_



Comparez le nombre de figures.



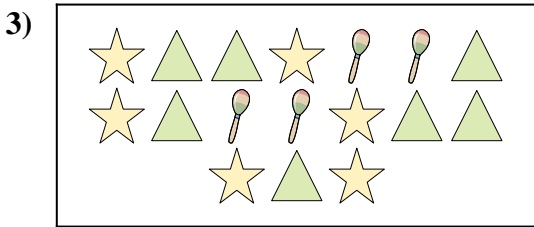
Y a-t-il moins de ou de ?

- A.
- B.




Y a-t-il plus de ou de ?

- A.
- B.




Y a-t-il moins de ou de ?

- A.
- B.



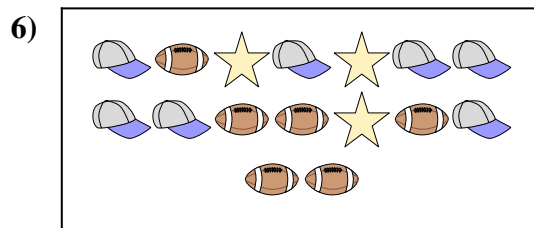
Y a-t-il moins de ou de ?

- A.
- B.



Y a-t-il moins de ou de ?

- A.
- B.



Y a-t-il moins de ou de ?

- A.
- B.

**Réponses**

- 1.   **A**
- 2.   **A**
- 3.   **B**
- 4.   **B**
- 5.   **A**
- 6.   **B**