


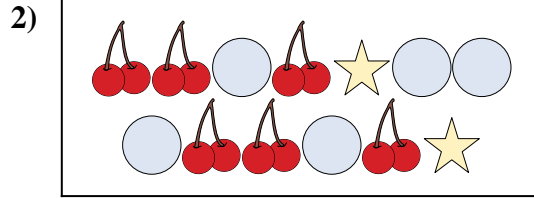


Comparez le nombre de figures.



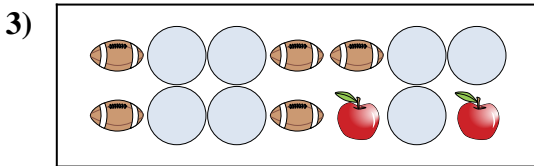
Y a-t-il plus de ou de ?

- A.
- B.



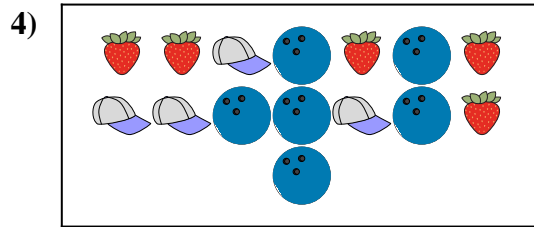
Y a-t-il plus de ou de ?

- A.
- B.




Y a-t-il plus de ou de ?

- A.
- B.




Y a-t-il plus de ou de ?

- A.
- B.



Y a-t-il moins de ou de ?

- A.
- B.



Y a-t-il moins de ou de ?


- A.
- B.

Réponses

- 1. _____
- 2. _____
- 3. _____
- 4. _____
- 5. _____
- 6. _____

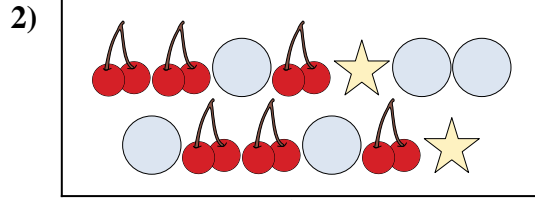


Comparez le nombre de figures.



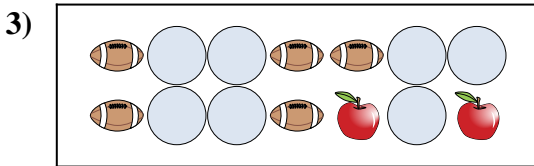
Y a-t-il plus de ou de ?

- A.
- B.



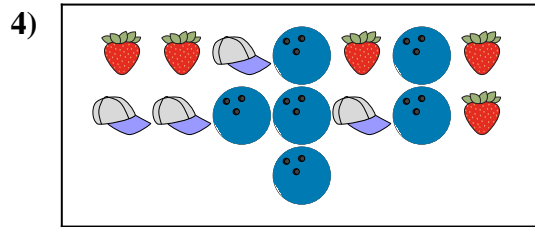
Y a-t-il plus de ou de ?

- A.
- B.




Y a-t-il plus de ou de ?

- A.
- B.




Y a-t-il plus de ou de ?

- A.
- B.



Y a-t-il moins de ou de ?

- A.
- B.



Y a-t-il moins de ou de ?

- A.
- B.


Réponses

- 1. **B**
- 2. **A**
- 3. **A**
- 4. **B**
- 5. **B**
- 6. **B**




Comparez le nombre de figures.


Réponses




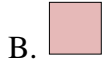
Y a-t-il plus de ou de ?



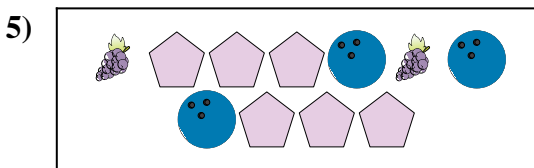
Y a-t-il plus de ou de ?




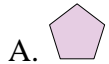
Y a-t-il moins de ou de ?



Y a-t-il moins de ou de ?



Y a-t-il moins de ou de ?




Y a-t-il moins de ou de ?



1. _____
2. _____
3. _____
4. _____
5. _____
6. _____




Comparez le nombre de figures.



Y a-t-il plus de ou de ?

A.


B.



Y a-t-il plus de ou de ?

A.


B.



Y a-t-il moins de ou de ?

A.

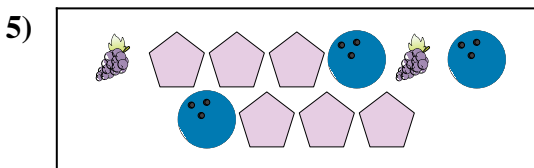
B.



Y a-t-il moins de ou de ?

A.


B.



Y a-t-il moins de ou de ?

A.

B.



Y a-t-il moins de ou de ?

A.

B.

Réponses

1. **B**

2. **B**

3. **A**

4. **A**


5. **B**

6. **B**



Comparez le nombre de figures.


1)



Y a-t-il plus de ou de ?

- A.
- B.

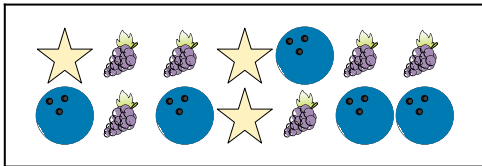
2)



Y a-t-il moins de ou de ?

- A.
- B.


3)



Y a-t-il moins de ou de ?

- A.
- B.


4)



Y a-t-il moins de ou de ?

- A.
- B.

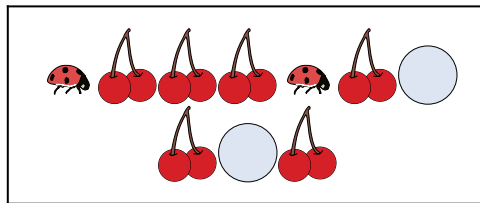
5)



Y a-t-il plus de ou de ?

- A.
- B.

6)



Y a-t-il moins de ou de ?


- A.
- B.

Réponses

1. _____
2. _____
3. _____
4. _____
5. _____
6. _____




Comparez le nombre de figures.



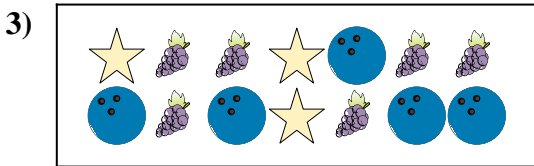
Y a-t-il plus de ou de ?

- A.
- B.




Y a-t-il moins de ou de ?

- A.
- B.




Y a-t-il moins de ou de ?

- A.
- B.



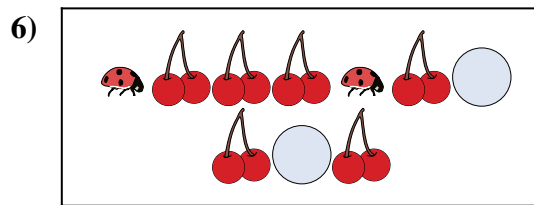
Y a-t-il moins de ou de ?

- A.
- B.



Y a-t-il plus de ou de ?

- A.
- B.



Y a-t-il moins de ou de ?

- A.
- B.

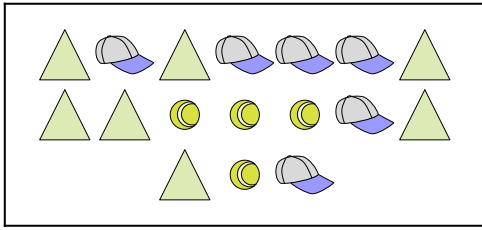
Réponses

- 1. **B**
- 2. **B**
- 3. **B**
- 4. **B**
- 5. **A**
- 6. **B**





Comparez le nombre de figures.


1)







Y a-t-il plus de  ou de  ?

- A. 
- B. 


2)







Y a-t-il moins de  ou de  ?

- A. 
- B. 

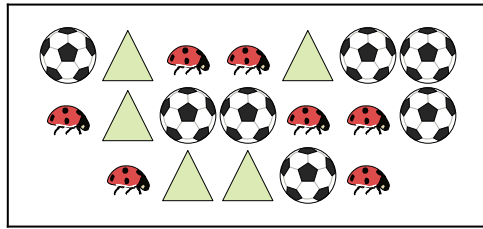
3)







Y a-t-il moins de  ou de  ?

- A. 
- B. 


4)







Y a-t-il moins de  ou de  ?

- A. 
- B. 


5)



Y a-t-il moins de  ou de  ?

- A. 
- B. 

6)



Y a-t-il moins de  ou de  ?

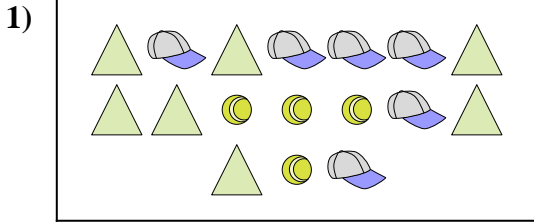
- A. 
- B. 

Réponses

- 1. _____
- 2. _____
- 3. _____
- 4. _____
- 5. _____
- 6. _____

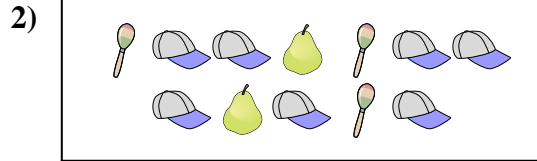


Comparez le nombre de figures.




Y a-t-il plus de ou de ?

- A.
- B.



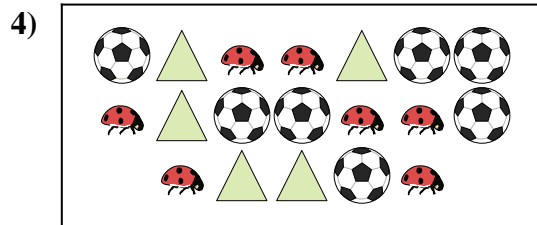
Y a-t-il moins de ou de ?

- A.
- B.



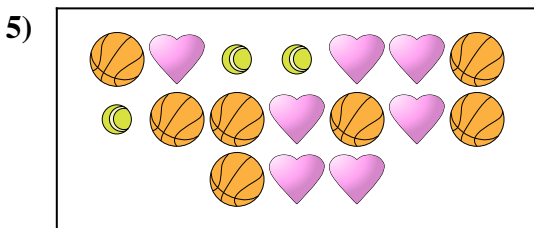
Y a-t-il moins de ou de ?

- A.
- B.




Y a-t-il moins de ou de ?

- A.
- B.



Y a-t-il moins de ou de ?

- A.
- B.



Y a-t-il moins de ou de ?

- A.
- B.


Réponses

- 1. **A**
- 2. **A**
- 3. **A**
- 4. **A**
- 5. **A**
- 6. **A**



Comparez le nombre de figures.

1)




Y a-t-il plus de ou de ?

A.

B.

2)




Y a-t-il plus de ou de ?

A.

B.

3)




Y a-t-il moins de ou de ?

A.

B.

4)




Y a-t-il plus de ou de ?

A.

B.

5)

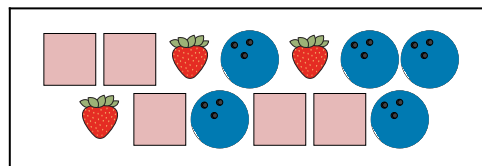


Y a-t-il moins de ou de ?

A.

B.

6)



Y a-t-il plus de ou de ?

A.

B.

Réponses

1. _____

2. _____

3. _____


4. _____

5. _____

6. _____




Comparez le nombre de figures.



Y a-t-il plus de ou de ?

A.


B.



Y a-t-il plus de ou de ?

A.


B.



Y a-t-il moins de ou de ?

A.


B.



Y a-t-il plus de ou de ?

A.

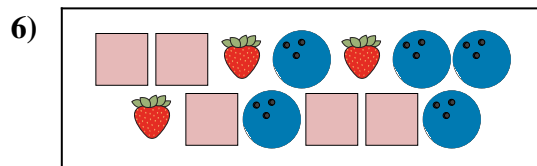
B.



Y a-t-il moins de ou de ?

A.

B.



Y a-t-il plus de ou de ?

A.

B.

Réponses

1. **A**

2. **B**

3. **B**


4. **B**

5. **A**

6. **B**

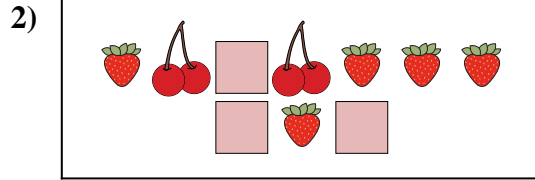


Comparez le nombre de figures.




Y a-t-il moins de ou de ?

- A.
- B.



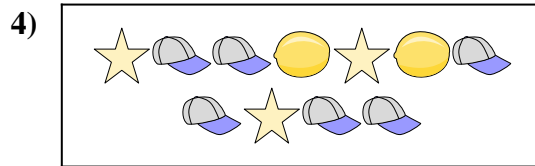
Y a-t-il plus de ou de ?

- A.
- B.




Y a-t-il plus de ou de ?

- A.
- B.




Y a-t-il plus de ou de ?

- A.
- B.



Y a-t-il moins de ou de ?

- A.
- B.



Y a-t-il moins de ou de ?


- A.
- B.

Réponses

- 1. _____
- 2. _____
- 3. _____
- 4. _____
- 5. _____
- 6. _____

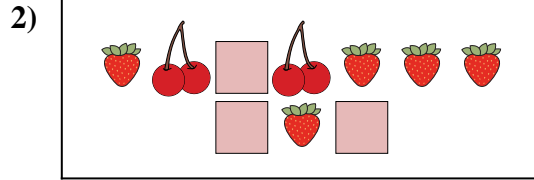


Comparez le nombre de figures.




Y a-t-il moins de ou de ?

- A.
- B.



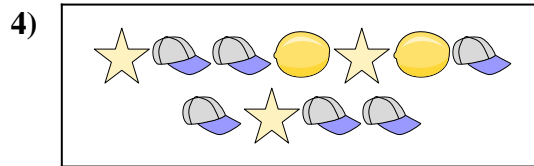
Y a-t-il plus de ou de ?

- A.
- B.




Y a-t-il plus de ou de ?

- A.
- B.




Y a-t-il plus de ou de ?

- A.
- B.



Y a-t-il moins de ou de ?

- A.
- B.



Y a-t-il moins de ou de ?

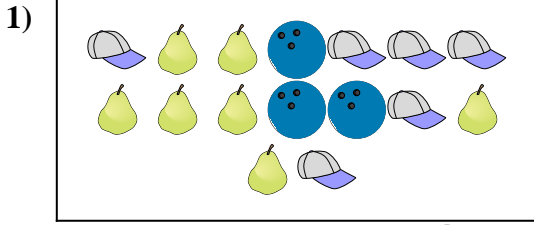
- A.
- B.

Réponses

- 1. **A**
- 2. **A**
- 3. **A**
- 4. **B**
- 5. **B**
- 6. **A**




Comparez le nombre de figures.



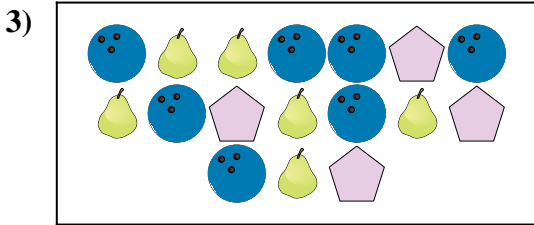
Y a-t-il moins de ou de ?

- A.
- B.



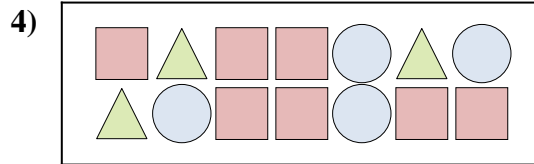
Y a-t-il moins de ou de ?

- A.
- B.




Y a-t-il plus de ou de ?

- A.
- B.




Y a-t-il plus de ou de ?

- A.
- B.



Y a-t-il plus de ou de ?

- A.
- B.



Y a-t-il moins de ou de ?

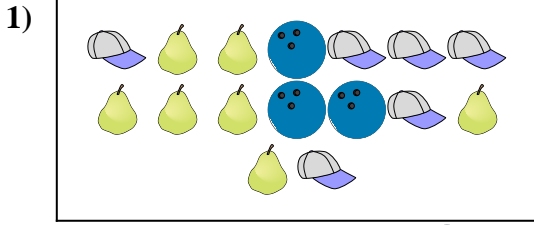
- A.
- B.

Réponses

- 1. _____
- 2. _____
- 3. _____
- 4. _____
- 5. _____
- 6. _____




Comparez le nombre de figures.



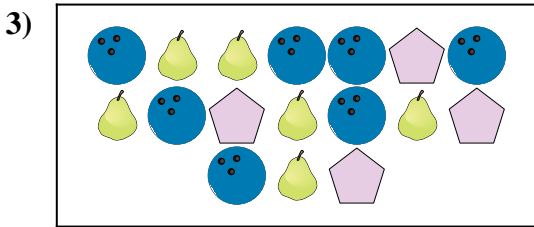
Y a-t-il moins de ou de ?

- A.
- B.



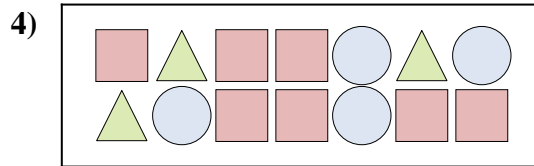
Y a-t-il moins de ou de ?

- A.
- B.




Y a-t-il plus de ou de ?

- A.
- B.




Y a-t-il plus de ou de ?

- A.
- B.



Y a-t-il plus de ou de ?

- A.
- B.



Y a-t-il moins de ou de ?

- A.
- B.

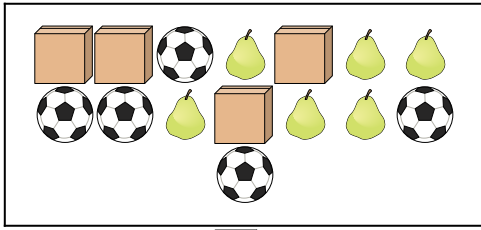
Réponses

- 1. **B**
- 2. **A**
- 3. **A**
- 4. **A**
- 5. **A**
- 6. **A**



Comparez le nombre de figures.

1)

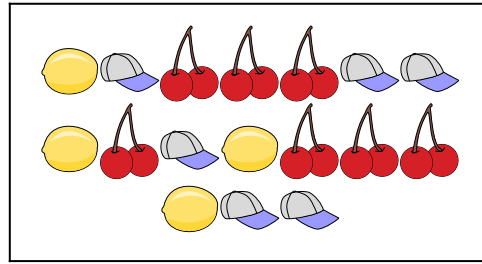


Y a-t-il plus de  ou de  ?

A. 


B. 

2)

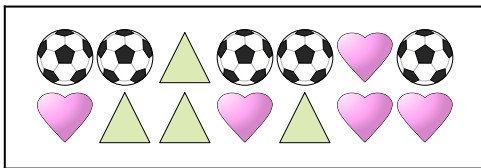




Y a-t-il moins de  ou de  ?


A. 

B. 

3)

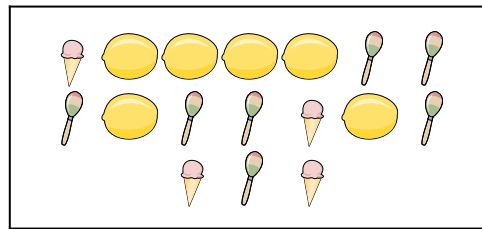




Y a-t-il moins de  ou de  ?

A. 

B. 

4)





Y a-t-il moins de  ou de  ?

A. 

B. 

5)

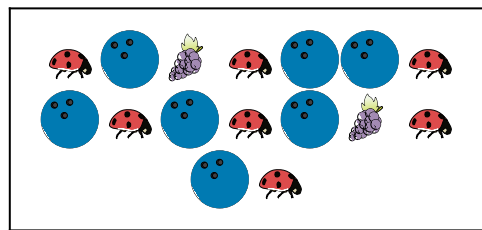


Y a-t-il plus de  ou de  ?

A. 

B. 

6)



Y a-t-il plus de  ou de  ?

A. 

B. 

Réponses

1. _____

2. _____

3. _____

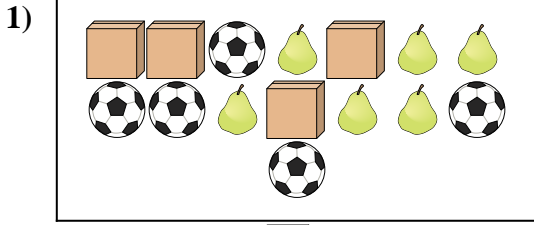
4. _____

5. _____

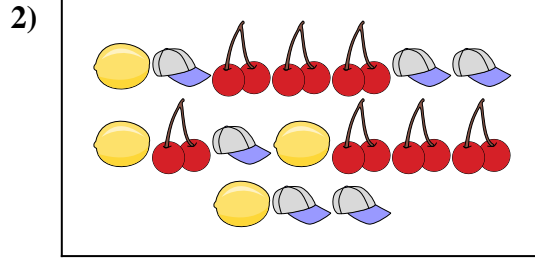
6. _____



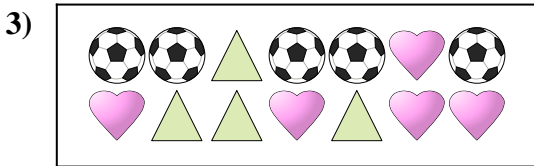
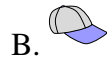
Comparez le nombre de figures.




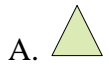
Y a-t-il plus de ou de ?




Y a-t-il moins de ou de ?




Y a-t-il moins de ou de ?



Y a-t-il moins de ou de ?



Y a-t-il plus de ou de ?



Y a-t-il plus de ou de ?



Réponses

1. **B**

2. **A**

3. **A**


4. **A**

5. **B**

6. **B**




Comparez le nombre de figures.



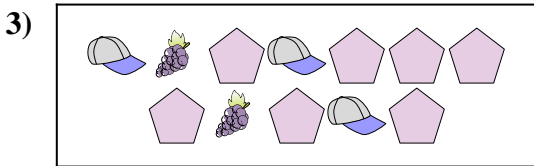
Y a-t-il plus de ou de ?

- A.
- B.



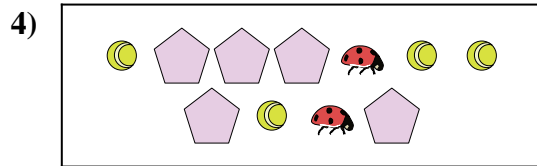
Y a-t-il moins de ou de ?

- A.
- B.



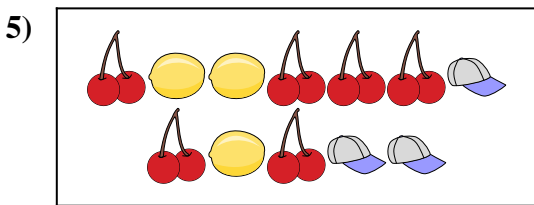
Y a-t-il moins de ou de ?

- A.
- B.




Y a-t-il plus de ou de ?

- A.
- B.



Y a-t-il moins de ou de ?

- A.
- B.



Y a-t-il plus de ou de ?


- A.
- B.

Réponses

- 1. _____
- 2. _____
- 3. _____
- 4. _____
- 5. _____
- 6. _____




Comparez le nombre de figures.



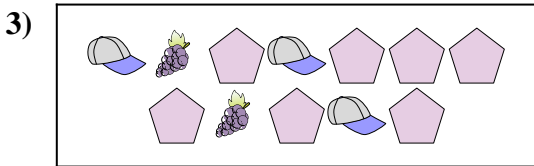
Y a-t-il plus de ou de ?

- A.
- B.



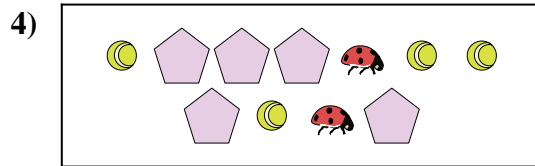
Y a-t-il moins de ou de ?

- A.
- B.



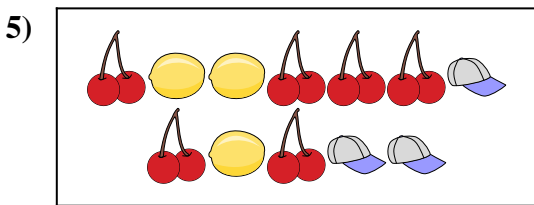
Y a-t-il moins de ou de ?

- A.
- B.



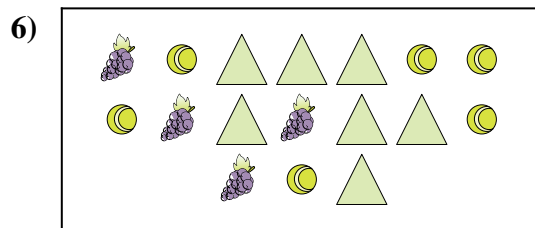
Y a-t-il plus de ou de ?

- A.
- B.



Y a-t-il moins de ou de ?

- A.
- B.



Y a-t-il plus de ou de ?

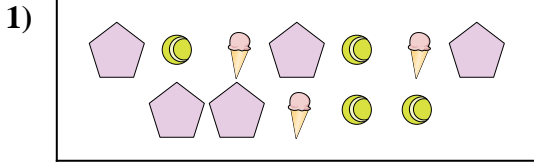
- A.
- B.

Réponses

- 1. **A**
- 2. **A**
- 3. **B**
- 4. **B**
- 5. **B**
- 6. **B**




Comparez le nombre de figures.



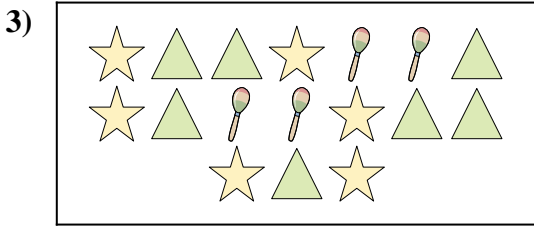
Y a-t-il moins de ou de ?

- A.
- B.




Y a-t-il plus de ou de ?

- A.
- B.




Y a-t-il moins de ou de ?

- A.
- B.



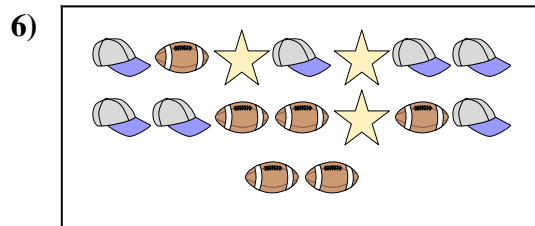
Y a-t-il moins de ou de ?

- A.
- B.



Y a-t-il moins de ou de ?

- A.
- B.



Y a-t-il moins de ou de ?

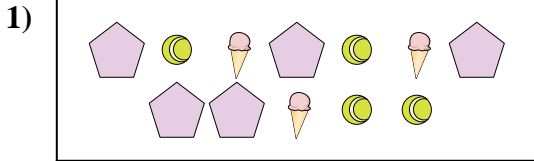
- A.
- B.

Réponses

- 1. _____
- 2. _____
- 3. _____
- 4. _____
- 5. _____
- 6. _____



Comparez le nombre de figures.



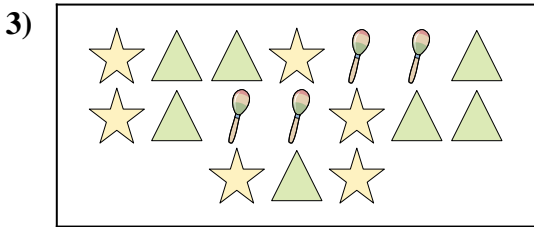
Y a-t-il moins de ou de ?

- A.
- B.




Y a-t-il plus de ou de ?

- A.
- B.




Y a-t-il moins de ou de ?

- A.
- B.



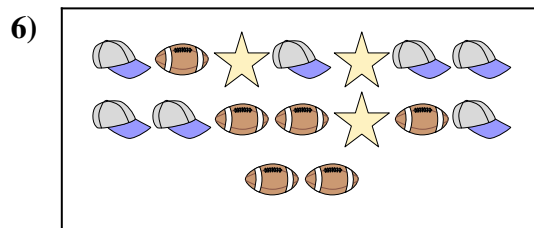
Y a-t-il moins de ou de ?

- A.
- B.



Y a-t-il moins de ou de ?

- A.
- B.



Y a-t-il moins de ou de ?

- A.
- B.

Réponses

- 1. **A**
- 2. **A**
- 3. **B**
- 4. **B**
- 5. **A**
- 6. **B**