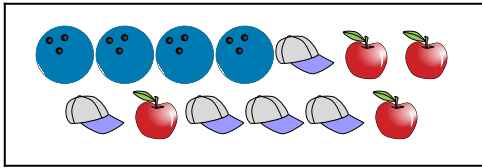




Comparez le nombre de figures.

Réponses

1)

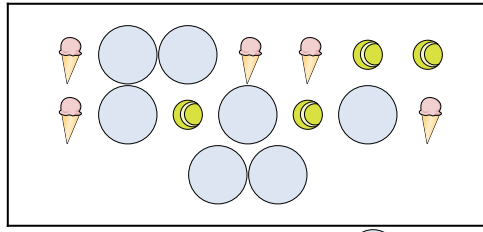


Y a-t-il plus de  ou de  ?

A. 

B. 

2)




Y a-t-il plus de  ou de  ?

A. 

B. 

3)




Y a-t-il plus de  ou de  ?

A. 

B. 

4)




Y a-t-il moins de  ou de  ?

A. 

B. 

5)




Y a-t-il moins de  ou de  ?

A. 

B. 

6)



Y a-t-il moins de  ou de  ?

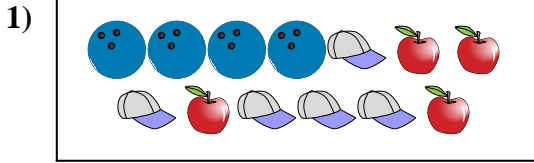
A. 

B. 

1. _____
2. _____
3. _____
4. _____
5. _____
6. _____

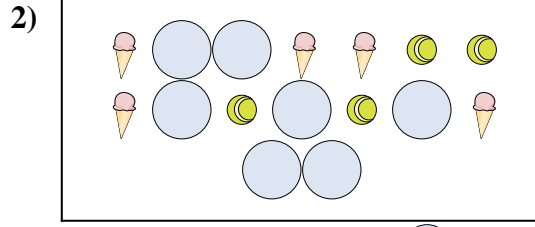


Comparez le nombre de figures.




Y a-t-il plus de ou de ?

- A.
- B.




Y a-t-il plus de ou de ?

- A.
- B.




Y a-t-il plus de ou de ?

- A.
- B.




Y a-t-il moins de ou de ?

- A.
- B.



Y a-t-il moins de ou de ?

- A.
- B.



Y a-t-il moins de ou de ?

- A.
- B.

Réponses

- 1. **A**
- 2. **B**
- 3. **A**
- 4. **A**
- 5. **B**
- 6. **B**