

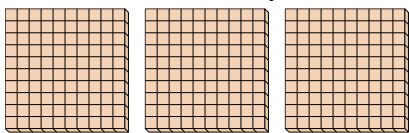


Utilisez les groupements pour répondre à chaque question.

Réponses

1) a. Combien de groupes de 100 y a-t-il?

b. Combien de blocs y a-t-il?




1. ____

2. ____

3. ____

2) a. Combien de groupes de 100 y a-t-il?

b. Combien de blocs y a-t-il?




4. ____

5. ____

6. ____

3) a. Combien de groupes de 100 y a-t-il?

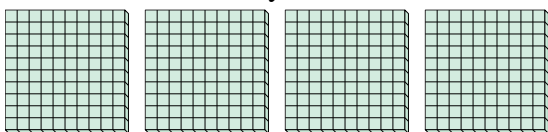
b. Combien de blocs y a-t-il?



7. ____


4) a. Combien de groupes de 100 y a-t-il?

b. Combien de blocs y a-t-il?




5) a. Combien de groupes de 100 y a-t-il?

b. Combien de blocs y a-t-il?



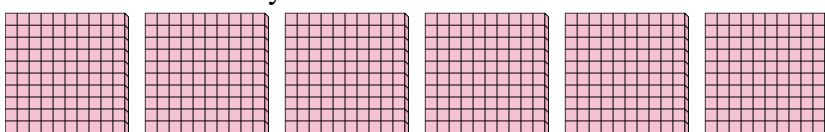
6) a. Combien de groupes de 100 y a-t-il?

b. Combien de blocs y a-t-il?



7) a. Combien de groupes de 100 y a-t-il?

b. Combien de blocs y a-t-il?



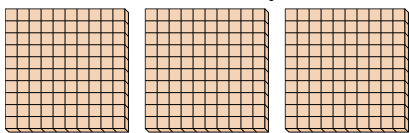


Utilisez les groupements pour répondre à chaque question.

Réponses

1) a. Combien de groupes de 100 y a-t-il?


b. Combien de blocs y a-t-il?



1. **3** **300**

2) a. Combien de groupes de 100 y a-t-il?

b. Combien de blocs y a-t-il?




2. **5** **500**

3. **7** **700**

3) a. Combien de groupes de 100 y a-t-il?

b. Combien de blocs y a-t-il?



4. **4** **400**

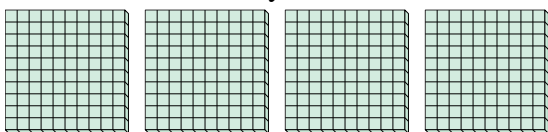
5. **9** **900**

6. **2** **200**

7. **6** **600**


4) a. Combien de groupes de 100 y a-t-il?

b. Combien de blocs y a-t-il?




5) a. Combien de groupes de 100 y a-t-il?

b. Combien de blocs y a-t-il?



6) a. Combien de groupes de 100 y a-t-il?

b. Combien de blocs y a-t-il?



7) a. Combien de groupes de 100 y a-t-il?

b. Combien de blocs y a-t-il?

