




Utilisez les groupements pour répondre à chaque question.

**Réponses**

1) a. Combien de groupes de 100 y a-t-il?

b. Combien de blocs y a-t-il?




1. \_\_\_\_

2. \_\_\_\_

3. \_\_\_\_

2) a. Combien de groupes de 100 y a-t-il?

b. Combien de blocs y a-t-il?




4. \_\_\_\_

5. \_\_\_\_

6. \_\_\_\_

3) a. Combien de groupes de 100 y a-t-il?


b. Combien de blocs y a-t-il?



7. \_\_\_\_


4) a. Combien de groupes de 100 y a-t-il?

b. Combien de blocs y a-t-il?



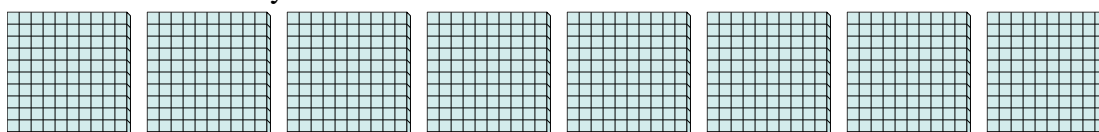
5) a. Combien de groupes de 100 y a-t-il?

b. Combien de blocs y a-t-il?



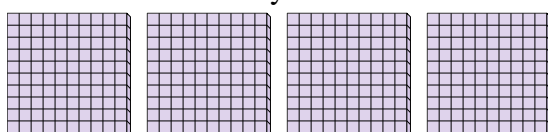
6) a. Combien de groupes de 100 y a-t-il?

b. Combien de blocs y a-t-il?



7) a. Combien de groupes de 100 y a-t-il?

b. Combien de blocs y a-t-il?






Utilisez les groupements pour répondre à chaque question.

**Réponses**

1) a. Combien de groupes de 100 y a-t-il?

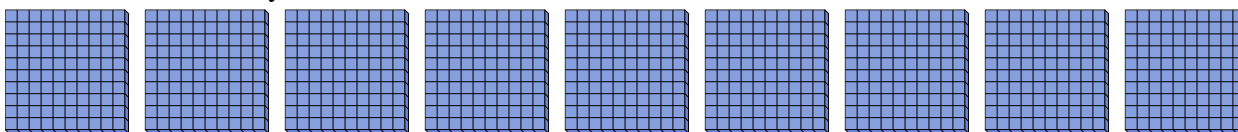
b. Combien de blocs y a-t-il?



1. 6 600

2) a. Combien de groupes de 100 y a-t-il?

b. Combien de blocs y a-t-il?



2. 9 900


3. 3 300

4. 5 500

5. 1 100

3) a. Combien de groupes de 100 y a-t-il?

b. Combien de blocs y a-t-il?




6. 8 800

7. 4 400


4) a. Combien de groupes de 100 y a-t-il?

b. Combien de blocs y a-t-il?



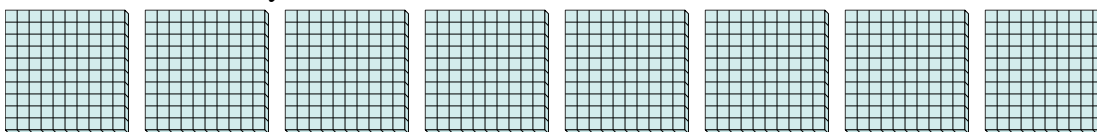
5) a. Combien de groupes de 100 y a-t-il?

b. Combien de blocs y a-t-il?



6) a. Combien de groupes de 100 y a-t-il?

b. Combien de blocs y a-t-il?



7) a. Combien de groupes de 100 y a-t-il?

b. Combien de blocs y a-t-il?

