




Utilisez les groupements pour répondre à chaque question.

**Réponses**

1) a. Combien de groupes de 100 y a-t-il?

b. Combien de blocs y a-t-il?



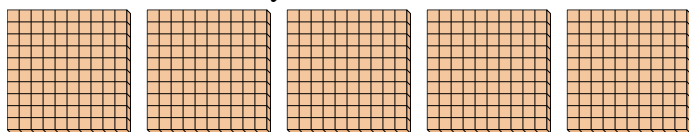
1. \_\_\_\_

2. \_\_\_\_

3. \_\_\_\_

2) a. Combien de groupes de 100 y a-t-il?

b. Combien de blocs y a-t-il?



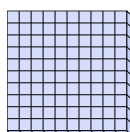
4. \_\_\_\_

5. \_\_\_\_

6. \_\_\_\_

3) a. Combien de groupes de 100 y a-t-il?


b. Combien de blocs y a-t-il?



7. \_\_\_\_


4) a. Combien de groupes de 100 y a-t-il?

b. Combien de blocs y a-t-il?



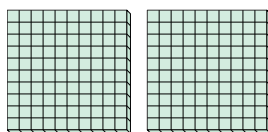
5) a. Combien de groupes de 100 y a-t-il?

b. Combien de blocs y a-t-il?



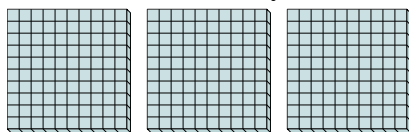
6) a. Combien de groupes de 100 y a-t-il?

b. Combien de blocs y a-t-il?



7) a. Combien de groupes de 100 y a-t-il?

b. Combien de blocs y a-t-il?






Utilisez les groupements pour répondre à chaque question.

**Réponses**

1) a. Combien de groupes de 100 y a-t-il?

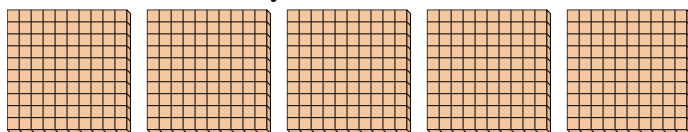
b. Combien de blocs y a-t-il?



1. **4** **400**

2) a. Combien de groupes de 100 y a-t-il?

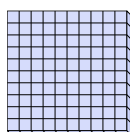
b. Combien de blocs y a-t-il?



2. **5** **500**

3) a. Combien de groupes de 100 y a-t-il?


b. Combien de blocs y a-t-il?



3. **1** **100**

4) a. Combien de groupes de 100 y a-t-il?


b. Combien de blocs y a-t-il?



4. **8** **800**

5) a. Combien de groupes de 100 y a-t-il?

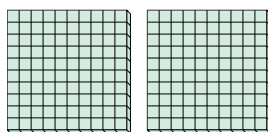
b. Combien de blocs y a-t-il?



5. **9** **900**

6) a. Combien de groupes de 100 y a-t-il?

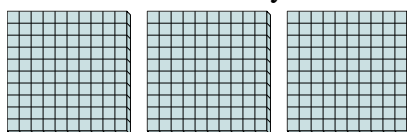
b. Combien de blocs y a-t-il?



6. **2** **200**

7) a. Combien de groupes de 100 y a-t-il?

b. Combien de blocs y a-t-il?



7. **3** **300**